

केवल मूल्यांकन हेतु

PAPER CODE							3	0	4	1
STUDENT CODE										
1A		1H		6		13				
1B		1I		7		14				
1C		1J		8		15				
1D		2		9		X				
1E		3		10						
1F		4		11						
1G		5		12		TOTAL				

केन्द्राध्यक्ष
हस्ताक्षर एवं सील
दिनांक :

हस्ताक्षर
मूल्यांकनकर्ता
दिनांक :

राज्यस्तरीय आकलन (SLA)

सत्र – 2018-19

कक्षा – तीसरी

विषय – पर्यावरण अध्ययन

समय – 2.00 घंटे

पूर्णांक – 50

अनुक्रमांक (अंकों में) शब्दों में

परीक्षार्थी का नाम शाला का नाम

प्राप्तांक (अंकों में) (शब्दों में)

हस्ताक्षर निरीक्षक –

हस्ताक्षर जाँचकर्ता –

प्रश्न 1. नीचे वस्तुनिष्ठ प्रश्नों के चार विकल्प दिए गए हैं, सही उत्तर पर (✓) का निशान लगाओ । प्रत्येक में 1 अंक हैं। (10 अंक)

(1) ईद और दीपावली के त्यौहार में क्या समानता हैं?

- (अ) सेवईयाँ बनायी जाती हैं।
 (ब) पटाखे जलाते हैं।
 (स) मिल-जुलकर रहना सिखाते हैं।
 (द) घरों के सामने दीपक जलाते हैं।

(2) बाल दिवस कब मनाया जाता है ?

- (अ) 15 अगस्त
 (ब) 14 नवंबर
 (स) 26 जनवरी
 (द) 1 नवंबर





(3) उस्तरा, कैँची, आरी और कंघी में से कौन समूह से अलग हैं ?


- (अ) उस्तरा (ब) कैँची (स) आरी (द) कंघी

(4) तुम सड़क पर चलते समय लाल बत्ती का संकेत दिखने पर क्या करते हो ?

- (अ) रूक जाते हैं।
- (ब) चलते रहते हैं।
- (स) ध्यान नहीं देते हैं।
- (द) चलने के लिए तैयार हो जाते हैं।

(5) नदी का संकेत चित्र कौन सा है ?

(अ)	
(ब)	
(स)	
(द)	

(6) तुम सड़क पर साइकिल से जा रहे हो, इस  संकेत को देखकर तुम क्या करोगे ?

- (अ) साइकिल रोक देते हैं।
- (ब) साइकिल की गति धीमी कर देते हैं।
- (स) साइकिल की गति तेज कर देते हैं।
- (द) गति में कोई परिवर्तन नहीं करते।

- (7) नदी में दूसरे किनारे पर जाने के लिए किस वाहन का उपयोग करेंगे ?
 (अ) रेलगाड़ी (ब) बस (स) नाव (द) आटो रिक्शा
- (8) पिट्टुल के खेल में सात पिट्टुल के साथ और क्या वस्तु होना जरूरी है ?
 (अ) बैट (ब) हॉकी (स) कैरमबोर्ड (द) गेंद
- (9) तुमने देखा कि वृद्ध दादी माँ सड़क पार करने में डर रही हैं, तो तुम क्या करोगे ?
 (अ) ध्यान नहीं देंगे।
 (ब) उन्हें हाथ पकड़कर सड़क पार करा देंगे।
 (स) उसका मजाक उड़ायेंगे।
 (द) देख कर आगे बढ़ जाएंगे।
- (10) रेलगाड़ी का पहिया किससे बनता है ?
 (अ) प्लास्टिक (ब) रबर (स) ताँबा (द) लोहा

नीचे अति लघु उत्तरीय प्रश्नों हैं। प्रत्येक में 2 अंक हैं।

(12 अंक)

प्र. 2. सामान ढोने वाले वाहन के नाम लिखो ? (कोई 2)

उत्तर (अ) (ब)

प्र. 3. किस-किस चीज में पहिए होते हैं ? नाम लिखो (कोई 2)

उत्तर (अ) (ब)

प्र. 4. केले के छिलके को सड़क पर फेंकने से क्या हो सकता है ?

उत्तर _____

प्र. 5. शीघ्र ठंडे पानी के लिए पीतल एवं मिट्टी के बर्तन में से किस बर्तन में पानी भरेंगे ?

उत्तर _____

प्र. 6. यदि तुम्हें बिना बोले ही नीचे दिए कार्यों को करना हो तो तुम कैसे बताते हो ?
(अ) मेहमान का अभिवादन

(ब) पानी का गिलास माँगना

प्र. 7. कुँए का पानी आसानी से कैसे निकालेंगे ?

उत्तर

दिए गए लघु उत्तरीय प्रश्नों के उत्तर लगभग 20 शब्दों में लिखिए । प्रत्येक में 3 अंक हैं ।
(12 अंक)

प्र. 8. तुम्हारी शाला में खेले जाने वाले खेलों के नाम बताओ ? (कोई छह)

उत्तर

प्र. 9. तुम अपने दोस्तों को किन-किन तरीकों से सूचना पहुँचाते हो ? लिखो –

उत्तर

प्र. 10. राजू ने मेंढक को पत्थर मारा क्या यह उचित है या नहीं ? क्यों ?

उत्तर

प्र. 11. सड़क पर चलते समय दुर्घटनाएं न हो इसके लिए क्या करेंगे ?

उत्तर

दिए गए लघु उत्तरीय प्रश्नों के उत्तर लगभग 30 शब्दों में लिखो। प्रत्येक में 4 अंक हैं।
(16 अंक)

प्र. 12. तुम्हारे विद्यालय में 26 जनवरी कैसे मनाई जाती हैं ? चार वाक्य लिखो ?

उत्तर _____

प्र. 13. लोगों से जंगल को क्या नुकसान होता है ?

उत्तर _____

प्र. 14. निम्न नामों के लिए संकेत बनाओ ।

उत्तर

नाम	संकेत
सूरज	
तालाब	
घर	
पेड़	

प्र. 15. एक शहर से दूसरे शहर तक संदेश पहुँचाने के लिए उपयोग करने वाले किसी एक साधन का चित्र बनाओ –

उत्तर

