

केवल मूल्यांकन हेतु

PAPER CODE										2	0	3	1
STUDENT CODE													
1		5		9		13							
2		6		10		14							
3		7		11		15							
4		8		12									
TOTAL													
केन्द्राध्यक्ष हस्ताक्षर एवं सील दिनांक :										हस्ताक्षर मूल्यांकनकर्ता दिनांक :			

राज्यस्तरीय आकलन (SLA)

सत्र-2018-19

कक्षा- 2

विषय- गणित

समय - 02:00 घंटे

पूर्णांक - 30

अनुक्रमांक (अंकों में) (शब्दों में)

परीक्षार्थी का नामशाला का नाम

प्राप्तांक (अंकों में)(शब्दों में).....

हस्ताक्षर पर्यवेक्षक

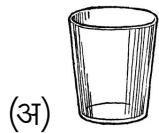
हस्ताक्षर जाँचकर्ता

निर्देश :-

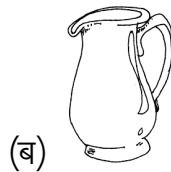
1. सभी प्रश्न हल करना अनिवार्य है।
2. इसके प्रत्येक प्रश्न पर 2 अंक हैं।
3. प्रत्येक प्रश्न व विकल्प को शिक्षक क्रमशः जोर से बोले। बोलने की गति धीमी रखें। हल के लिए किसी भी प्रकार का संकेत (हिंट) न दें।

निर्देश :- सही उत्तर पर सही (✓) का निशान लगाओ।

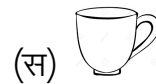
प्रश्न 1 किस बर्तन की सहायता से बाल्टी जल्दी भर जायेगी? (2 अंक)



(अ)



(ब)



(स)

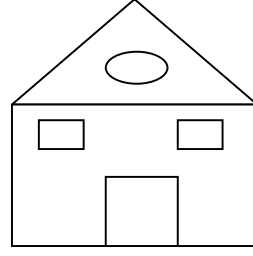
प्रश्न 2 दिए गए महीनों में से कौन सा महीना 30 दिन का होता है? (2 अंक)

(अ) सितम्बर

(ब) दिसम्बर

(स) अगस्त

प्रश्न 3 दिए गए चित्र में कितने तिकोन हैं?



(2 अंक)

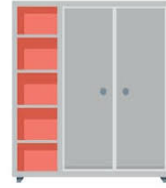


(अ) 1

(ब) 4

(स) 6

प्रश्न 4 दी गई चीजों में कौन सबसे भारी है?

(2 अंक)



shutterstock.com • 487623811

(अ) कॉपी

(ब) टेबल

(स) आलमारी

प्रश्न 5 पाँच रुपये के तीन नोट कितने रुपये के बराबर हैं?

(2 अंक)



(अ) 10 रुपये

(ब) 15 रुपये

(स) 50 रुपये

प्रश्न 6 गणतंत्र दिवस कौन से महीने में मनाया जाता है?

(2 अंक)

(अ) जनवरी

(ब) अगस्त

(स) सितम्बर

प्रश्न 7 सुरेश के पास 10 रुपये के 5 नोट हैं। उसने 35 रुपये के खिलौने खरीद लिए। अब

उसके पास कितने रुपये बचे?

(2 अंक)

(अ) 15 रुपये

(ब) 25 रुपये

(स) 35 रुपये


प्रश्न 8 दिए गए फलों में कौन सबसे हल्का है? (2 अंक)



(अ) पपीता



(ब) अनानास



(स) केला

प्रश्न 9 एक जग में 3 गिलास पानी आता है। ऐसे ही 2 जग में कितने गिलास पानी आयेगा? (2 अंक)

(अ) 5

(ब) 6

(स) 3

प्रश्न 10 शनिवार के बाद कौन सा दिन आता है? (2 अंक)

(अ) रविवार

(ब) सोमवार

(स) शुक्रवार

प्रश्न 11 गुड़िया और भौंरा(लट्टू) दोनों खरीदने के लिए कितने रुपये देने पड़ेंगे? (2 अंक)

30 रु.



5 रु.



(अ) 5 रु.

(ब) 30 रु.

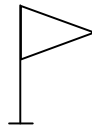
(स) 35 रु.

प्रश्न 12 दिए गए चित्रों में से कौन सा चौकोन है? (2 अंक)

(अ)



(ब)



(स)



प्रश्न 13



कुल कितने रुपये हैं? (2 अंक)


(अ) 8 रुपये

(ब) 9 रुपये

(स) 10 रुपये

प्रश्न 14 दिए गए चित्र में पत्तियाँ कितनी हैं?

(2 अंक)



(अ) 3

(ब) 4

(स) 5

प्रश्न 15 एक कक्षा में विद्यार्थियों की किसी माह की उपस्थिति इस प्रकार थी— (2 अंक)

क्रमांक	छात्र का नाम	उपस्थिति
01	आकाश	20 दिन
02	गगन	23 दिन
03	अंजली	18 दिन
04	अहमद	19 दिन
05	रीता	24 दिन

बताओ, उस माह में अंजली कितने दिन उपस्थित रही?

(अ) 18

(ब) 19

(स) 23