

प्रश्न बैंक

सामाजिक विज्ञान

कक्षा

6

7

8

के लिए



राज्य शैक्षिक अनुसंधान और प्रशिक्षण परिषद्
शंकर नगर, रायपुर छत्तीसगढ़

प्रकाशन वर्ष 2015–16

राज्य शैक्षिक अनुसंधान और प्रशिक्षण परिषद्, रायपुर, छत्तीसगढ़

मार्गदर्शन एवं सहयोग

संजय कुमार ओझा (संचालक)
एससीईआरटी

कार्यक्रम सवन्वयक

श्रीमती विद्या डांगे
एससीईआरटी

विषय विशेषज्ञ

शिव कुमार वर्मा

लेखक समूह

विद्या डांगे, पूर्णानंद पाण्डेय, डॉ. रचना दत्त,
पीला सिंह चौहान, चंपेश्वर राजपूत

टंकण एवं ले-आऊट डिजाइन

चरण साहू, संजय साहू, अमन शर्मा

प्रकाशक

राज्य शैक्षिक अनुसंधान और प्रशिक्षण परिषद्
रायपुर (छ.ग.)

आमुख

प्रश्न बैंक प्रश्नों का विशाल संग्रह है जो पाठ्य पुस्तक में दिए गए प्रश्नों के अतिरिक्त है। प्रश्न बैंक के प्रश्न जानकारी, अनुप्रयोग, कौशल एवं समझ आधारित है। प्रश्न बैंक का मुख्य उद्देश्य प्रश्नों के माध्यम से पाठ्यचर्या 2005 में वर्णित सिद्धांतों के अनुसार शिक्षा के लक्ष्यों को प्राप्त करना है। प्रश्न बैंक के प्रश्नों का उपयोग परीक्षा के लिए प्रश्न पत्र बनाने के अलावा कक्षा अध्यापन की प्रक्रिया में अपेक्षित कौशलों के विकास को जाँचने के लिए भी कर सकते हैं। इन प्रश्नों के माध्यम से बच्चों में स्वयं करके सीखने, अपने परिवेश को समझने, तर्क करने, चिंतन करने, अपने अनुभवों को अभिव्यक्त करने आदि कौशलों का विकास हो सकेगा। प्रश्न बैंक में दिए गए प्रदत्त कार्य, सर्वे कार्य, प्रोजेक्ट कार्य, पोर्टफोलियों के माध्यम से बच्चों में सक्रियता, सहभागिता, समुदाय से जुड़ाव तथा पाठ्यपुस्तक में वर्णित अवधारणाओं को और अधिक पुष्ट करने में मदद मिलेगी।

बच्चों को रटंत प्रणाली से दूर करने, विद्यालयीन ज्ञान को अपने दैनिक जीवन में उपयोग करने तथा भाषायी कौशलों के विकास हेतु प्रश्न बैंक में खुले प्रश्नों का समावेश किया गया है अर्थात् दिए गए प्रश्नों का उत्तर प्रत्येक विद्यार्थी द्वारा अपने-अपने संदर्भों में देने के कारण प्रश्नों के उत्तर पृथक-पृथक हो सकते हैं। अतः उत्तरों की जांच में शिक्षक की भूमिका अत्यन्त महत्वपूर्ण होगी, अतः शिक्षकों से यह अपेक्षा की जाती है कि वे एक ही प्रारूप में बच्चों से प्रश्नों के उत्तरों की अपेक्षा न करते हुए उनके द्वारा लिखे गए प्रश्नों की जांच संदर्भों के आधार पर करें। बच्चों को उत्तर ढूँढने के लिए पर्याप्त समय दे। उनके द्वारा किए गए कार्यों को प्रोत्साहित करें, प्रश्नों को हल करने में उनकी मदद करें तथा उनके द्वारा की गई त्रुटियों में सुधार करें।

आशा है यह प्रश्न बैंक आपके लिए उपयोगी होगा। प्रश्न बैंक संबंधी कोई सुझाव हो तो आप हमें अवश्य अवगत करावें।

विषय सूची - 6

इतिहास

क्र.	अध्याय	पृष्ठ
	इतिहास के स्रोत	1
1.	आदिमानव	3
2.	सिंधु घाटी की सभ्यता	4
3.	वैदिक काल	5
4.	महाजनपद काल	7
5.	नवीन धार्मिक विचारों का उदय	9
6.	मौर्यवंश और राजा अशोक	10
7.	विदेशों से व्यापार और संपर्क	11
8.	गुप्त काल	12
9.	प्रांतीय राज्यों का युग	13

नागरिक शास्त्र

1.	परस्पर निर्भरता	17
2.	कातिक और केकती गाँव	18
3.	पंचायती राज	19
4.	नगर पालिका और नगर निगम	21
5.	जिला प्रशासन	22
6.	सार्वजनिक संपत्तियाँ	23
7.	बच्चों के अधिकार	24

भूगोल

1.	मानचित्र का अध्ययन	27
2.	ग्लोब का अध्ययन	28
3.	पृथ्वी का परिमंडल	29
4.	पहाड़ी गाँव—ऊपरवेदी	30
5.	मैदान का एक गाँव— रिसदा	32
6.	पठार का एक गाँव — चाल्हा	34
7.	विविधताओं का महाद्वीप — एशिया	35
8.	द्वीपों का देश — इंडोनेशिया	36
9.	उगते हुए सूरज का देश — जापान	38
10.	टुण्ड्रा प्रदेश	39

विषय सूची - 7

इतिहास

क्र.	अध्याय	पृष्ठ
1.	पिछली कक्षा में आपने पढ़ा	41
2.	छोटे – छोटे राज्यों का विकास	42
3.	जीवन में आया बदलाव	44
4.	दिल्ली सल्तनत की स्थापना	46
5.	दिल्ली सल्तनत का विस्तार	48
6.	सल्तनत कालीन जन – जीवन	50
7.	मुगल साम्राज्य की स्थापना	51
8.	विरोध और विद्रोह का समय	55
9.	मुगलकालीन जन – जीवन	57

नागरिक शास्त्र

1.	देश और राज्य	59
2.	राज्य की सरकार भाग – एक	60
3.	राज्य की सरकार भाग – दो	62
4.	हमारी न्याय व्यवस्था	63
5.	उद्योग एक परिचय	64
6.	कोसा उद्योग	65
7.	छोटे कारखानों में काम	66
8.	बड़े कारखानों में काम	67
9.	सामान्य चेतना	68

भूगोल

1.	शाला का मानचित्र	70
2.	वर्षा और नदी	72
3.	भू – जल भंडार	74
4.	दिन – रात	75
5.	पृथ्वी की गतियाँ	77
6.	अफ्रीका	78
7.	यूरोप महाद्वीप	80
8.	फ्रांस	82

विषय सूची - 8

भूगोल

क्र.	अध्याय	पृष्ठ
1.	वायुमंडल	87
2.	तापमान	89
3.	भारत	91
4.	उत्तर का पर्वतीय प्रदेश	93
5.	उत्तर का विशाल मैदान	96
6.	दक्कन का पठार	98
7.	समुद्र तटीय मैदान व द्वीप समूह	100
8.	थार का मरुस्थल	102
9.	उत्तरी अमेरिका प्राकृतिक बनावट एवं जलवायु	104

इतिहास

1.	आधुनिक यूरोप का उदय	106
2.	भारत में ईस्ट इण्डिया कम्पनी शासन की स्थापना	108
3.	अंग्रेजी शासन का भारतीय जन जीवन पर प्रभाव	109
4.	भारत का प्रथम स्वतंत्रता संग्राम	111
5.	भारतीय समाज में नए विचार	112
6.	भारतीय राष्ट्रीय आंदोलन	113
7.	भारतीय गणतंत्र की स्थापना	115
8.	छत्तीसगढ़ अध्ययन	117

नागरिक शास्त्र

1.	हमारा संविधान	120
2.	मौलिक अधिकार एवं कर्तव्य	121
3.	केन्द्र की सरकार	123
4.	कर	125
5.	भारत में कृषि का विकास	127
6.	संयुक्त राष्ट्र संघ	128
7.	भारत की विदेश नीति	130
8.	सूचना का अधिकार	131

बफरग्ल दसल कर

सही उत्तर पर (✓) का निशान लगाओ।

1. इतिहास कहते हैं—
 (अ) पुराने समय की बातों को (ब) आने वाले समय की बातों को
 (स) आज की बातों को (द) किसी भी समय की बातों को
2. बहुत समय पहले लोग लिखना पढ़ना नहीं जानते थे, इसलिए वे अपनी बात—
 (अ) संकेतों में कहते थे (ब) चित्र बनाकर कहते थे
 (स) लिखकर कहते थे (द) मानचित्र बनाकर कहते थे
3. कबरा पहाड़ किस जिले में स्थित है—
 (अ) रायपुर जिला (ब) रायगढ़ जिला
 (स) बिलासपुर जिला (द) कांकेर जिला
4. शिलालेख कहते हैं—
 (अ) पत्थर पर खोदकर लिखी बातों को (ब) धातु पर लिखी बात को
 (स) भोजपत्र पर लिखी बात को (द) ताड़पत्र पर लिखी बात को
5. जो पुरानी बसाहटों को खोदकर उनके तथ्यों के बारे में पता लगाते हैं, उन्हें कहते हैं—
 (अ) इतिहासकार (ब) पुरातत्ववेत्ता
 (स) विद्वान (द) साहित्यकार
6. लक्ष्मण मंदिर स्थित है—
 (अ) सिरपुर में (ब) कानपुर में
 (स) नागपुर में (द) हस्तिनापुर में
7. महंत घासीदास संग्रहालय स्थित है—
 (अ) रायपुर में (ब) बिलासपुर में
 (स) महासमुंद में (द) धमतरी में
8. बिलासपुर जिले की किरारी गांव से प्राप्त हुआ है—
 (अ) पत्थरों के स्तम्भ लेख (ब) धातु के स्तम्भ लेख
 (स) लकड़ी के स्तम्भ लेख (द) मिट्टी के स्तम्भ लेख
9. सिंघनपुर की गुफाओं में आदि मानव काल के हैं—
 (अ) शैलचित्र (ब) शिलालेख
 (स) ताम्रपत्र (द) स्तम्भ लेख
10. रवि अपने मित्रों के साथ संग्रहालय देखने गया वहां उसने देखा—
 (अ) प्राचीन दुर्लभ वस्तुओं का संग्रह (ब) पशु पक्षियों को
 (स) नए-नए वैज्ञानिक उपकरणों को (द) खेल सामग्रियों को
11. पुराने ग्रंथों से हमें पता चलता है—
 (अ) उस समय के सामाजिक आर्थिक जनजीवन का
 (ब) वर्तमान जनजीवन का
 (स) ग्रामीण जनजीवन का
 (द) शहरी जनजीवन का

शिलालेख, ताम्रपत्र, भोजपत्र, स्तंभ लेख में क्या अंतर है?

प्रदत्त कार्य—

आप अपने विद्यालय का इतिहास निम्न बिंदुओं में लिखो –

कब बना, किसने बनवाया, किससे बना है, कौन कौन शिक्षक कब से पदस्थ है, वे क्या क्या विषय पढ़ाते हैं उनके पढ़ाये गए बच्चे कौन कौन से पद पर पदस्थ हैं? पहले कैसा था वर्तमान में क्या क्या सुविधायें प्राप्त हैं।



v/; k; & 1 vkfn ekuo

सही उत्तर पर (✓) का निशान लगाओ।

- आदि मानव को बर्तनों एवं चुल्हों की जरूरत नहीं होती थी, क्योंकि उन्हें—
 (अ) आग का ज्ञान नहीं था (ब) भोजन पकाना नहीं चाहते थे
 (स) पका हुआ भोजन अच्छा नहीं लगता था (द) उनका स्थायी निवास नहीं था
- आदि मानव आग का उपयोग करते थे—
 (अ) माँस को भूनकर खाने में (ब) जानवरों से रक्षा करने में
 (स) ठंड से बचने में (द) उपरोक्त सभी में
- आदि मानव के औजार पत्थरों से बने होते थे क्योंकि—
 (अ) धातुएँ बहुत मंहगी थी
 (ब) पत्थर आसानी से मिल जाते थे
 (स) धातु के औजारों के चोरी होने का डर होता था
 (द) धातु के औजार बनाने में समय बहुत अधिक लगता था
- आदिमानव का पहला पालतू पशु था—
 (अ) गाय (ब) बकरी
 (स) कुत्ता (द) भेंड़
- झूम खेती कहते हैं जहाँ—
 (अ) एक ही फसल हर साल उगाई जाती है
 (ब) दो तीन साल तक फसल उगाने के बाद उसे खाली छोड़ दिया जाता है
 (स) जहाँ सिर्फ चाय की ही फसल ली जाती है
 (द) हर साल अलग अलग फसलें बोई जाती हैं।
- आदि मानव काल में पुरुष और महिलाओं का जनजीवन पूर्णरूपेण प्रकृति पर निर्भर था कैसे? उदाहरण सहित स्पष्ट कीजिए।
- आदि मानव को आग की जानकारी होने से क्या क्या लाभ हुआ?
- पशुपालन से आदि मानव को क्या क्या लाभ हुए होंगे?
- आदि मानव द्वारा की जाने वाली खेती एवं वर्तमान में की जाने वाली खेती में क्या अंतर है?

प्रदत्त कार्य—

- ऐसी वस्तुओं की सूची बनाओ जिसे आप बिना पकाये खा सकते हो?
- आदि मानव एवं वर्तमान मानव में निम्न बिंदुओं में अंतर स्पष्ट करो—
 1. भोजन 2. कपड़ा
 3. आवास, 4. मनोरंजन के साधन
 5. शिक्षा 6. व्यवसाय



v/; k; & 2 fl a/kq?kkVh dh l H; rk

सही उत्तर पर (✓) का निशान लगाओ।

1. मोहनजोदड़ो एवं हड़प्पा स्थित है—
 (अ) भारत के पंजाब प्रांत में (ब) पाकिस्तान के पंजाब एवं सिंध प्रांत में
 (स) राजस्थान में (द) गुजरात में
2. सिंधुघाटी की सभ्यता थी—
 (अ) ग्रामीण सभ्यता (ब) नगरीय सभ्यता
 (स) अर्द्धनगरीय सभ्यता (द) पाश्चात्य सभ्यता
3. मोहन जोदड़ो के नगर बसे थे—
 (अ) आजकल के गांवों की तरह (ग) टेढ़ी-मेढ़ी गलियों की तरह
 (स) एक निश्चित योजना के अनुसार (द) वास्तुशास्त्र के अनुसार
4. हड़प्पा संस्कृति का विकास हुआ—
 (अ) सिंधु नदी के किनारे (ब) चिनाब नदी के किनारे
 (स) महानदी के किनारे (द) गंगा नदी के किनारे
5. मोहनजोदड़ों की खुदाई में प्राप्त हुआ—
 (अ) सुनियोजित नगर (ब) सोने के भंडार
 (स) डाइनासोर के अवशेष (द) मानव अवशेष
6. सिंधु सभ्यता विकसित हुई—
 (अ) 3500 से 4000 वर्ष पूर्व (ब) 600 ईसा पूर्व से 325 ईसा पूर्व
 (स) 2600 ईसा पूर्व से 1900 ईसा पूर्व (द) 322 ईसा पूर्व से 185 ईसा पूर्व
7. सिंधु नदी प्रवाहित होती है—
 (अ) भारत के उत्तर पश्चिम दिशा में (ब) भारत के पूर्व में
 (स) भारत के उत्तर पूर्व में (द) भारत के दक्षिण में
7. सिंधु सभ्यता भारत में पाई गई है—
 (अ) राजस्थान के कालीबंगा में (ब) पंजाब के रोपड़ में
 (स) गुजरात के लोथल में (द) उपरोक्त सभी जगह
8. सिंधु घाटी के लोग विदेशी व्यापार करते थे—
 (अ) जलमार्ग से (ब) थल मार्ग से (स) वायु मार्ग से (द) पैदल
9. गोदी कहते हैं—
 (अ) समुद्र के किनारे स्थित वह स्थान जहाँ जहाज खड़ा किया जाता है
 (ब) गड़ढा वाली जगह को (स) चारागाह को (द) खेती करने के स्थान को
10. सिंधु घाटी वासियों को ज्ञान नहीं था—
 (अ) लोहे का (ब) तांबे (स) कांसे का (द) पीतल का
11. हमारे घरों में पाए जाने वाले स्नानागार एवं सिंधु सभ्यता की खुदाई में मिले स्नानागार में क्या अंतर है?

प्रदत्त कार्य—

सिंधु सभ्यता की तरह विश्व में कौन कौन सी सभ्यताएं विकसित हुईं, पता कर उसके बारे में लिखो?

भारत के नक्शे में लोथल, कालीबंगा, रोपड़ को दर्शाओ।

v/; k; & 3 ofnd dky

सही उत्तर पर (✓) का निशान लगाओ।

1. 3500 से 4000 वर्ष पूर्व सिंधु-सरस्वती नदियों के मैदान में एक नई संस्कृति का विकास हुआ, उसे कहते हैं—
 (अ) हड़प्पा संस्कृति (ब) वैदिक संस्कृति
 (स) यूनानी संस्कृति (द) चीनी संस्कृति
2. वैदिक संस्कृति को विकसित किया गया—
 (अ) आर्यों द्वारा (ब) द्रविड़ों द्वारा
 (स) तमिलोंद्वारा (द) आदि मानव द्वारा
3. वेदों की भाषा है—
 (अ) संस्कृत (ब) हिन्दी
 (स) अंग्रेजी (द) उर्दू
4. विश्व का सबसे प्राचीन ग्रंथ है—
 (अ) अथर्ववेद (ब) सामवेद
 (स) यजुर्वेद (द) ऋग्वेद
5. वैदिक काल के लोगों का प्रमुख व्यवसाय पशुपालन था क्योंकि—
 (अ) पालतू पशुओं से परिचित थे (ब) खेती करने में अधिक मेहनत लगता था
 (स) कृषि योग्य भूमि का अभाव था (द) जल का अभाव था
6. वैदिक काल के कारीगर इनमें से लकड़ी का कौन सा सामान बनाते थे—
 (अ) रथ (ब) घर
 (स) खिलौना (द) हथियार
7. उत्तर वैदिक काल में कृष्ण-अयस्क या काला धातु कहते थे—
 (अ) लोहा (ब) पत्थर
 (स) लकड़ी (द) हड़डी
8. उत्तर वैदिक काल में परिवार के सबसे बुजुर्ग पुरुष मुखिया को कहा जाता था—
 (अ) गृहपति (ब) लक्ष्मीपति
 (स) भू पति (द) गणपति
9. 'सूक्त, का अर्थ है—
 (अ) अच्छी तरह से बोले गए मंत्र (ब) अच्छी तरह से सुने गए मंत्र
 (स) अच्छी तरह से पढ़े गए मंत्र (द) अच्छी तरह से लिखे गए मंत्र
10. इनमें से कौन उत्तर वैदिक काल की रचना नहीं है?
 (अ) अथर्ववेद (ब) सामवेद
 (स) यजुर्वेद (द) ऋग्वेद
11. ईस्वी सन् प्रारंभ माना जाता है—
 (अ) मौर्यकाल से (ब) वैदिक काल से
 (स) गुप्तकाल से (द) ईसा मसीह के जन्म के समय से

12. इनमें से कौन सा काल ईसा पूर्व की है—

- | | |
|----------------|-----------------|
| (अ) वैदिक काल | (ब) गुप्त काल |
| (स) सल्तनत काल | (द) ब्रिटिश काल |

12. उत्तर वैदिक काल में रचित रामायण एवं महाभारत की क्या क्या विशेषताएँ हैं लिखो?
 13. वैदिक काल की शासन व्यवस्था एवं वर्तमान काल की शासन व्यवस्था में क्या अंतर है?
 14. गणतांत्रिक व्यवस्था का क्या आशय है?
 15. उत्तर वैदिक कालीन शासन व्यवस्था एवं वर्तमान शासन व्यवस्था में क्या अंतर है?

प्रदत्त कार्य—

16. उत्तर वैदिक काल के किसी एक महाकाव्य की प्रमुख बातों का वर्णन करो।
 17. वर्तमान काल में संयुक्त परिवारों का चलन कम हो रहा है इसके क्या कारण हैं? पता कर लिखो इसके दुःपरिणामों का वर्णन करो?
 18. आप किस प्रकार के परिवार में रहना पसंद करोगे – एकाकी परिवार या संयुक्त परिवार और क्यों? कारण सहित लिखो।



v/; k; & 4 egkt ui n dky

सही उत्तर पर (✓) का निशान लगाओ।

1. प्राचीन भारत में महाजनपदों की संख्या थी—
 (अ) 14 (ब) 15
 (स) 16 (द) 17
2. किसी राजा के मरने के बाद उसके बड़े बेटे को राजा बनाने की प्रथा को कहते थे—
 (अ) वंशानुगत (ब) परम्परागत
 (स) क्रमागत (द) गणतंत्र
3. महाजनपद काल में अवंति राज्य की राजधानी थी—
 (अ) उज्जैन (ब) चम्पा
 (स) राजगृह (द) वैशाली
4. महाजनपद काल में मगध राज्य की राजधानी थी—
 (अ) उज्जैन (ब) चम्पा
 (स) राजगृह (द) वैशाली
5. मगध का प्रमुख राजा था—
 (अ) बिम्बिसार (ब) अजातशत्रु
 (स) घननंद (द) चाणक्य
6. नन्दवंश का अंतिम राजा था—
 (अ) बिम्बिसार (ब) अजातशत्रु
 (स) घननंद (द) चाणक्य
7. महाजनपद काल में पहले लेन देन होता था—
 (अ) वस्तु के बदले वस्तु से (ब) वस्तु के बदले रूपए से
 (स) वस्तु के बदले सोना से (द) वस्तु के बदले चांदी से
8. पहले सिक्के धातु के टुकड़ों के बनाए जाते थे—
 (अ) टुकड़ों पर ठप्पा लगाकर (ब) टुकड़ों को गला कर
 (स) टुकड़ों को मिला कर (द) टुकड़ों को ढालकर
9. सिक्कों के प्रचलन से व्यापार हो गया—
 (अ) सुगम (ब) दुर्गम
 (स) कठिन (द) दु कर
10. यूनान के मकदूनिया राज्य का राजा था—
 (अ) सिकन्दर (ब) पोरस
 (स) चन्द्रगुप्त (द) चाणक्य
11. महाजनपद काल में किसानों को अपने उपज का कितना भाग (हिस्सा) कर के रूप में देना पड़ता था—
 (अ) चौथा (ब) पांचवा
 (स) छठवा (द) सातवां

12. महाजनपद काल के 3 महानगरों के नाम लिखिए?
13. महाजनपद काल की राजतंत्र शासन व्यवस्था क्या है? लिखिए?
14. महाजनपद काल में गणतंत्र शासन व्यवस्था का वर्णन कीजिए?
15. महाजनपद काल में प्रचलित आहत सिक्के (ठप्पा लगा) और वर्तमान सिक्कों में क्या अंतर है?
16. महाजनपद काल में जनपदों का विकास नदियों के किनारे ही क्यों हुआ?
17. महाजनपद काल के जनजीवन का वर्णन अपने शब्दों में करो?
18. सिकन्दर और पोरस के बारे में क्या क्या जानते हैं, लिखिए?

प्रदत्त कार्य—

भारत के मानचित्र में महाजनपद काल के 16 जनपदों को दर्शाओ?



v/; k; & 5
uohu /kkfeb
fopkj k&dk mn;

सही उत्तर पर (✓) का निशान लगाओ।

1. किस धर्म में महापुरुषों को तीर्थंकर कहा जाता है?
(अ) जैन (ब) बौद्ध (स) हिन्दू (द) सिक्ख
2. त्रिरत्न एवं पंच महाव्रत किस धर्म से संबंधित है?
(अ) जैन (ब) बौद्ध (स) हिन्दू (द) सिक्ख
3. जैन धर्म में कैवल्य प्राप्ति का अर्थ है—
(अ) सच्चे ज्ञान की प्राप्ति (ब) सच्चे धर्म की प्राप्ति
(स) सच्चे अर्थ की प्राप्ति (द) सच्चे मोक्ष की प्राप्ति
4. जैन धर्म में किसको “जिन,, और “महावीर,, कहा गया है?
(अ) गौतम बुद्ध (ब) सिद्धार्थ (स) वर्धमान (द) त्रिशलादेवी
5. “निर्वाण,, से आशय है—
(अ) जन्म (ब) विवाह
(स) मृत्यु (द) जन्म एवं मृत्यु से मुक्ति
6. गौतम बुद्ध के बचपन का नाम था—
(अ) वर्धमान (ब) सिद्धार्थ (स) महावीर (द) शुद्धोधन
7. “बोधी,, वृक्ष कहा जाता है—
(अ) बरगद (ब) पीपल (स) आम (द) सागौन
8. गौतमबुद्ध ने अपना पहला उपदेश कहां दिया था—
(अ) लुम्बिनी में (ब) सारनाथ में (स) कुशीनगर में (द) वैशाली में
9. गौतम बुद्ध ने अपना उपदेश किस भाषा में दिया था?
(अ) प्राकृत (ब) पाली (स) संस्कृत (द) हिन्दी
10. “त्रिपिटक,, में है?
(अ) जैन धर्म की शिक्षा (ब) बौद्धधर्म की शिक्षा
(स) हिन्दुधर्म की शिक्षा (द) सिक्ख धर्म की शिक्षा
10. जैन धर्म में त्रिरत्न किसे कहा गया है?
11. पंच महाव्रत क्या है?
12. बौद्ध धर्म के अनुसार चार आर्य सत्य क्या है?

प्रदत्त कार्य—

जैन एवं बौद्ध धर्म केन्द्रों के चित्र एकत्र कर उनके बारे में लिखिए?



v/; k; & 6
ek\$ loak , oa
jktk v'kkd

सही उत्तर पर (✓) का निशान लगाओ।

1. किस राजा ने चाणक्य की मदद से मगध के राजा को हराया था—
(अ) चन्द्रगुप्त (ब) अशोक
(स) सिकन्दर (द) घनानंद
2. चाणक्य द्वारा लिखित किस पुस्तक से उस समय की शासन व्यवस्था संबंधी जानकारी मिलती है—
(अ) धर्मशास्त्र (ब) अर्थशास्त्र
(स) नीतिशास्त्र (द) वाणिज्यशास्त्र
3. चन्द्रगुप्त के पौत्र (नाती)का नाम था—
(अ) अशोक (ब) बिम्बिसार
(स) चाणक्य (द) सिकन्दर
4. "धम्म," का तात्पर्य है—
(अ) धर्म (ब) कर्म
(स) पूजापाठ (द) मोक्ष
5. अशोक ने अपने विचार पत्थरों के खम्भों और चट्टानों पर किस भाषा में खुदवाए?
(अ) संस्कृत (ब) प्राकृत
(स) हिन्दी (द) भोजपुरी
6. अशोक के राज्य की राजधानी थी—
(अ) कलिंग (ब) पाटिलीपुत्र
(स) उज्जैन (द) तक्षशिला
7. "महामात्य, कहा जाता था—
(अ) बड़े अधिकारी को (ब) छोटे अधिकारी को
(स) कर्मचारी को (द) राजकुमारो को
8. सम्राट अशोक किस धर्म को मानने वाले थे—
(अ) जैन धर्म (ब) बौद्ध धर्म
(स) हिन्दू धर्म (द) सिक्ख धर्म
9. सम्राट अशोक ने अपने विचार प्राकृत भाषा में ही क्यों खुदवाए?
10. सम्राट अशोक द्वारा बांटे गए चार प्रान्तों के नाम लिखो?
11. सम्राट अशोक ने कलिंग युद्ध जीतने के बाद कभी युद्ध न करने का संकल्प क्यों लिया?
12. सारनाथ के स्तम्भ-शीर्ष को हमारा राष्ट्रीय चिन्ह क्यों माना गया?



v/; k; & 7
fonʃ kkaɪ s0; ki kj
vks | Ei dʒ

सही उत्तर पर (✓) का निशान लगाओ।

- प्राचीन समय में श्रेष्ठी, सेट्ठी या सेठ कहा जाता था—
(अ) किसानों को (ब) व्यापारियों को
(स) सेवकों को (द) जनता को
- प्राचीन काल में व्यापार करने व्यापारी दिन में चलते और रात में पड़ाव डालकर रुक जाते थे, वे जब
(अ) गांव या जंगलों से गुजरते थे (ब) रेगिस्तानों से गुजरते थे
(स) समुद्री मार्गों से गुजरते थे (द) वायुमार्ग से गुजरते थे
- प्राचीन काल में भारतीय व्यापारी इंडोनेशिया, अरब, अफ्रीका आदि देशों में पहुंचते थे—
(अ) सड़क मार्ग (ब) जलमार्ग से
(स) वायु मार्ग से (द) रेलमार्ग से
- कुषाण वंश का प्रमुख शासक था—
(अ) कनिष्क (ब) अशोक
(स) चाणक्य (द) धननंद
- सम्राट अशोक के समय सिक्के बनते थे—
(अ) चांदी एवं तांबा से (ब) लोहा एवं तांबा से
(स) लोहा एवं पीतल से (द) एल्यूमिनियम से
- सम्राट अशोक के समय में सिक्के चांदी तांबा के टुकड़ों पर एक तरह से कैसे बनाए जाते थे—
(अ) ठप्पा (आहत) लगाकर (ब) ढालकर
(स) गलाकर (द) काटकर
- विश्व प्रसिद्ध ग्रंथ चरक संहिता और सुश्रुत संहिता किससे संबंधित है—
(अ) चिकित्सा शास्त्र (ब) वनस्पति शास्त्र
(स) भौतिक शास्त्र (द) अर्थशास्त्र
- सम्राट अशोक के शासन काल में व्यापारी किन किन साधनों से व्यापार करते थे?
- रेशमी मार्ग या रेशम का मार्ग किसे कहते हैं?
- सिक्के क्यों बनाए गए थे?
- अशोक के शासनकाल में व्यापारी कैसे व्यापार करते थे?
- भारत के लोगो का दूसरे देशों के साथ सम्पर्क से उन पर क्या प्रभाव हुआ होगा? प्रदत्त कार्य—

अपने आसपास के मथुरा शैली और गांधार शैली के मूर्तियों के चित्र एकत्र कर उनकी विशेषताओं का उल्लेख कीजिए?



v/; k; & 8 x|r dky

सही उत्तर पर (✓) का निशान लगाओ।

1. गुप्तकाल में छत्तीसगढ़ को किस नाम से जाना जाता था—
(अ) दक्षिण कोसल (ब) उत्तर कोसल (स) दण्डकारण्य (द) छोटा कोसल
2. गुप्तकाल में समुद्रगुप्त ने छत्तीसगढ़ के राजा महेन्द्र को पराजित करने के बाद उसके राज्य को क्या किया?
(अ) अपने राज्य में मिला लिया (ब) वापस कर दिया
(स) दूसरे को प्रदान कर दिया (द) राज्य को भंग कर दिया
3. पाटलीपुत्र को वर्तमान में किस नाम से जाना जाता है?
(अ) पटना (ब) पाटन (स) प्रभासचट्टन (द) पट्टनगढ़
4. समुद्रगुप्त की प्रशंसा का शिलालेख पाया गया है—
(अ) इलाहाबाद में (ब) दौलताबाद में (स) तुगलकाबाद में (द) अहमदाबाद में
5. समुद्रगुप्त दक्षिणापथ (दक्षिण भारत) के राजाओं को हराने के बाद उनका राज्य—
(अ) अपने राज्य में मिला लिया (ब) उन्हें लौटा दिया
(स) दूसरे को प्रदान कर दिया (द) राज्य को भंग कर दिया
6. फाह्यान किस देश से भारत आया था—
(अ) नेपाल (ब) चीन (स) भूटान (द) लंका
7. गुप्तकाल के राजा किस धर्म को मानते थे—
(अ) जैन (ब) बौद्ध (स) वैष्णव (द) शैव
8. गुप्तकाल में सबसे प्रमुख खगोलशास्त्री एवं गणितज्ञ थे—
(अ) आर्यभट्ट (ब) वराहमिहिर (स) चरक (द) बाणभट्ट
9. गुप्तकाल में फलित ज्योतिष के ज्ञाता थे—
(अ) वराहमिहिर (ब) चाणक्य (स) आर्यभट्ट (द) सुश्रुत
10. गुप्तकाल में उच्चकोटी के साहित्य किस भाषा में रचे गए—
(अ) संस्कृत (ब) हिन्दी (स) पाली (द) छत्तीसगढ़ी
11. छत्तीसगढ़ में गुप्तकाल की वास्तुकला की अनुपम कृति "लक्ष्मण मंदिर" किस स्थान पर स्थित है—
(अ) रायपुर (ब) बिलासपुर (स) सिरपुर (द) रतनपुर
12. गुप्तकाल के चित्रकला एवं वास्तुकला के बारे में लिखिए?
13. गुप्तकाल के संस्कृत भाषा के साहित्यकारों के नाम लिखिए?
14. इलाहाबाद के शिलालेख में समुद्रगुप्त की प्रशंसा में क्या लिखा गया है?



v/; k; & 9
i karh; jkT; kaok ; x

सही उत्तर पर (✓) का निशान लगाओ।

1. प्रारंभ में हर्षवर्धन के राज्य की राजधानी कहां थी—
 (अ) थानेश्वर (ब) नागेश्वर
 (स) महेश्वर (द) रामेश्वर
2. गुप्त वंश के पतन के ठीक बाद एक प्रसिद्ध राजा हुआ जिसका नाम था—
 (अ) हर्षवर्धन (ब) आर्यभट्ट
 (स) बाणभट्ट (द) पुलकेशिन
3. हर्षवर्धन ने कन्नौज को नई राजधानी बनाई क्योंकि—
 (अ) कन्नौज उसके राज्य के ठीक बीच में पड़ता था
 (ब) वह उसके राज्य का बड़ा शहर था
 (स) वहां के लोग चतुर थे
 (द) वह नगर उसे पसंद था
4. हर्ष के राज्य में संस्कृत के प्रसिद्ध दरबारी कवि का नाम था—
 (अ) आर्यभट्ट (ब) बाणभट्ट
 (स) कालिदास (द) माघ कवि
5. हर्ष चरित पुस्तक के लेखक है—
 (अ) आर्यभट्ट (ब) बाणभट्ट
 (स) कालिदास (द) माघ कवि
6. हर्ष के शासनकाल में चीन का भारत आने वाले बौद्ध भिक्षु का नाम था—
 (अ) फाह्यान (ब) ह्यानत्सांग
 (स) सांकृत्यायन (द) नृसिंह वर्मन
7. राजा हर्ष किसके उपासक थे—
 (अ) शिव (ब) विष्णु
 (स) बुद्ध (द) महावीर
8. बौद्ध भिक्षु ह्यानत्सांग किस देश से भारत आया था—
 (अ) चीन (ब) नेपाल
 (स) वर्मा (द) भूटान
9. हर्ष के काल में नालंदा शिक्षा का केन्द्र था क्योंकि—
 (अ) राजा शिक्षा का संरक्षक था (ब) नालंदा बड़ा शहर था
 (स) यहां निजी विद्यालय थे (द) लोग शिक्षा का प्रचार करते थे
10. हर्ष के काल में छत्तीसगढ़ में बौद्ध शिक्षा का केन्द्र था—
 (अ) सिरपुर (श्रीपुर) (ब) दंतेवाड़ा
 (स) रतनपुर (द) अम्बिकापुर
11. दक्षिण भारत के चालुक्य वंश के राजा पुलकेशिन द्वितीय किससे पराजित हुए थे—
 (अ) हर्षवर्धन (ब) महेन्द्र वर्मन
 (स) नृसिंह वर्मन (द) बाणभट्ट

12. चालुक्य राजाओं की राजधानी का नाम था—

- (अ) वातापी (ब) कोचीन
(स) कन्नौज (द) कांचीपुरम

13. चालुक्य कला के प्रेमी व संरक्षक थे इसलिए उन्होंने—

- (अ) चट्टान खोदकर गुफाएं व मंदिर बनवाए
(ब) नृत्य शालाएं बनवाए
(स) पाठशालाएं बनवायीं
(द) संगीत शालाएं बनवायीं

14. पल्लव वंश के राजाओं की राजधानी थी—

- (अ) वातापी (ब) महाबलीपुरम्
(स) कन्नौज (द) कांचीपुरम

15. शिव व विष्णु के उपासक राजा थे—

- (अ) पल्लव (ब) चालुक्य
(स) गुप्त (द) वर्धन

16. पत्थर की विशाल शिलाओं को काटकर मंदिर का रूप दिया गया है—

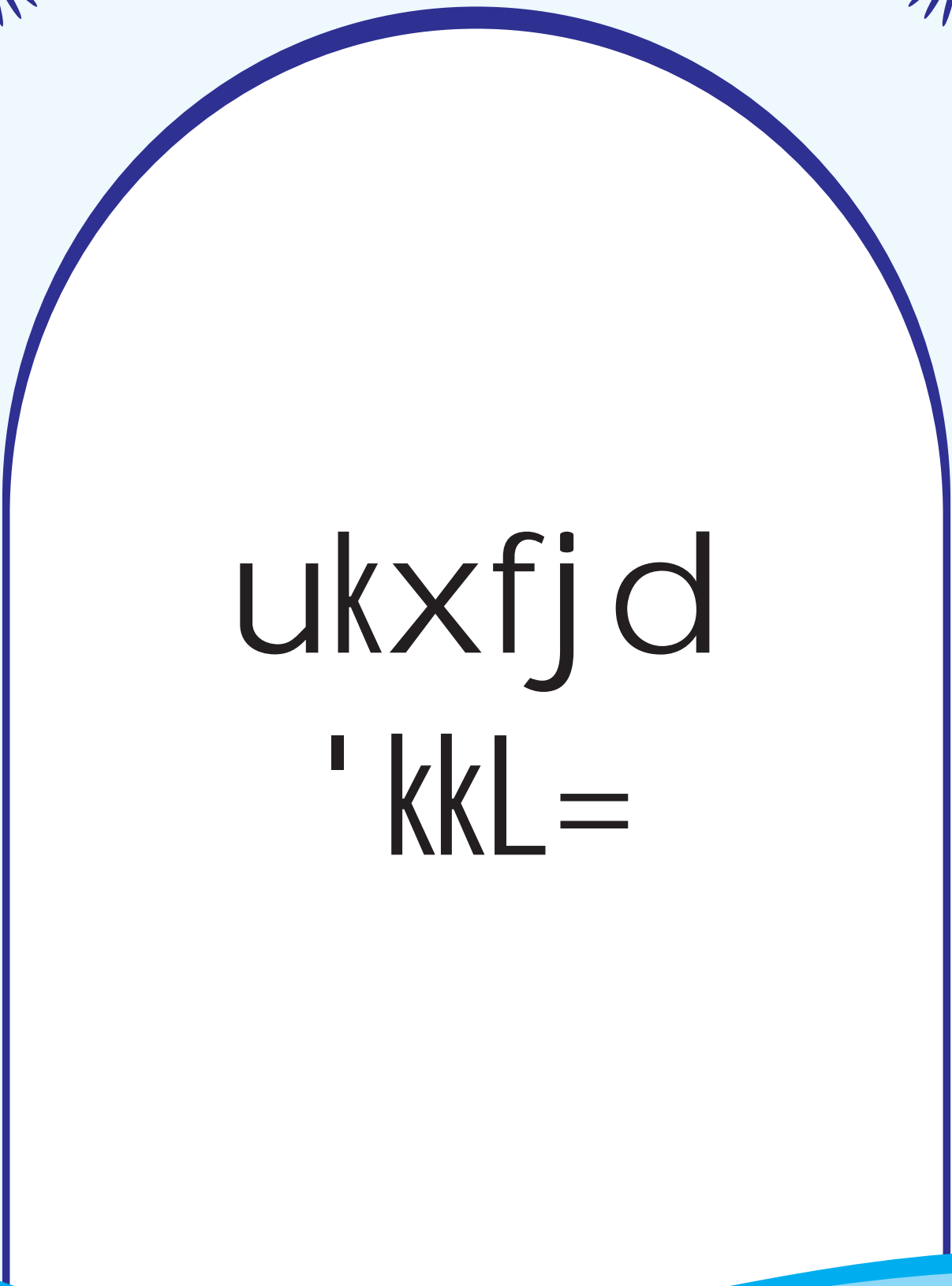
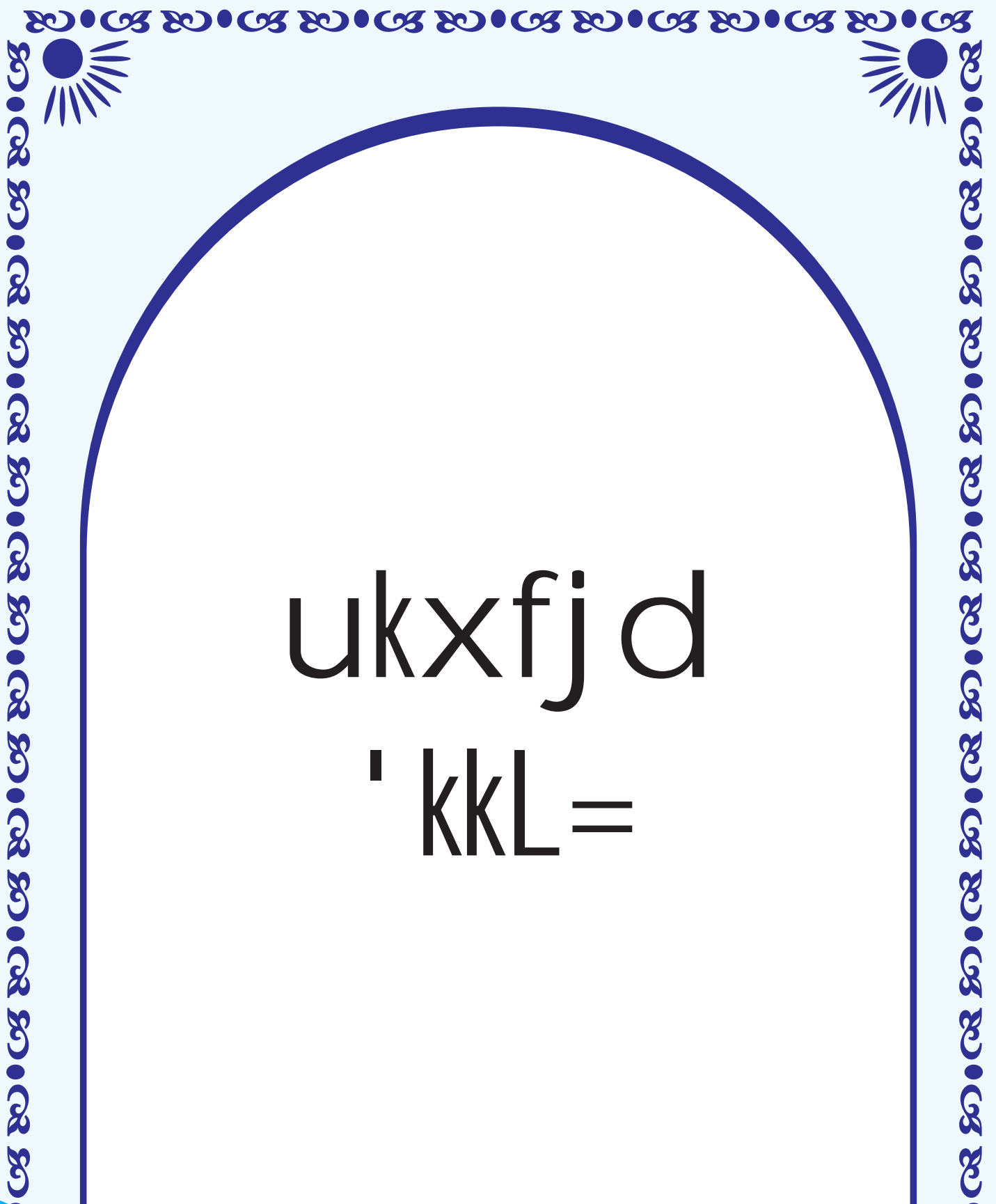
- (अ) वातापी (ब) महाबलीपुरम्
(स) कन्नौज (द) कांचीपुरम

15. पल्लव राजाओं के समय दक्षिण भारत में विष्णु एवं शिव के उपासकों को किस नाम से जाना जाता था?

16. हर्ष अपने जीते हुए राज्यों के साथ कैसा व्यवहार करते थे?

17. पल्लव वंश के बारे में संक्षिप्त टिप्पणी लिखिए?





ukxfj d

' kkl =

v/; k; & 1 i jLi j fuHkj rk

1. मनुष्यों का जीवन निर्भर है—
 (अ) गांव पर (ब) शहर पर
 (स) स्वयं पर (द) एक-दूसरे पर
2. परस्पर निर्भरता का आशय है—
 (अ) आवश्यकताओं की पूर्ति के लिए एक दूसरे पर निर्भर होना
 (ब) अपनी आवश्यकताओं की पूर्ति के लिए दूसरों पर निर्भर होना
 (स) अपनी आवश्यकताओं की पूर्ति स्वयं करना
 (द) अपनी आवश्यकताओं की पूर्ति प्रकृति से कर लेना
3. मनुष्य अपनी आवश्यकताओं की पूर्ति के लिए सामानों का—
 (अ) आयात निर्यात करते हैं (ब) केवल निर्यात करते हैं
 (स) केवल आयात करते हैं (द) स्वयं उत्पादन करते हैं
4. कम्प्यूटर, टी.वी के माध्यम से विश्व के सभी देशों में विचारों का आदान-प्रदान करना—
 (अ) एक प्रकार का अपराध है (ब) परस्पर वैमनस्यता है
 (स) अपराध है (द) परस्पर निर्भरता है
5. छ.ग राज्य शक्कर के लिए दूसरे राज्य पर निर्भर है क्योंकि—
 (अ) यहां के निवासी अधिक मीठा खाते हैं (ब) दूसरे राज्य की शक्कर सस्ती होती है
 (स) यहाँ शक्कर का उत्पादन कम होता है (द) छ.ग. राज्य में शक्कर बहुत मंहगी है
6. छ.ग राज्य दूसरे राज्य को चावल का निर्यात करता है क्योंकि—
 (अ) यहां चावल का उत्पादन अधिक होता है (ब) यहां चावल की खपत अधिक है
 (स) यहां का चावल सस्ता होता है (द) यहां का चावल मोटा होता है
7. गांव व शहर एक दूसरे पर—
 (अ) परस्पर निर्भर होते हैं (ब) आत्मनिर्भर होते हैं
 (स) आत्म संतुष्ट होते हैं (द) परस्पर निर्भर नहीं होते
8. आयात निर्यात करने हेतु कौन- कौन सी बातों का होना आवश्यक है?

प्रदत्त कार्य—

- क्या तुम्हारे यहाँ ऐसी कोई उपज है या वस्तु बनती है जो दूर-दूर तक भेजी जाती है? इस वस्तु या उपज की क्या खास बात है, जिस कारण वह तुम्हारे यहां बनती है।
- पता करो कि तुम्हारे यहां इलायची व लौंग कहां से आते हैं ? ये राज्य हमारे राज्य में इन सामग्री को क्यों भेजते हैं?



v/; k; & 2
dkfrd vkj
dadrh dk xkp

1. पेन्ड्री में नदी है—
(अ) शिवनाथ नदी (ब) महानदी
(स) हाफ नदी (द) अरपा नदी
2. हाफ नदी प्रवाहित होती है—
(अ) बिलासपुर जिले से (ब) दंतेवाड़ा जिले से
(स) महासमुंद जिले से (द) रायपुर जिले से
3. गांव में स्थानीय स्तर पर बांध का पानी रोका जाता है—
(अ) बांध बनाकर (ब) रेती की बोरियों से
(स) दीवार बनाकर (द) गड्डा खोदकर
4. अमराई कहते हैं—
(अ) आम के बगीचे को (ब) जाम के बगीचे को
(स) पेड़ पौधों के झुंड को (द) वनों को
5. बांध बनाए जाते हैं—
(अ) मछली पकड़ने के लिए (ब) विद्युत उत्पादन एवं सिंचाई करने के लिए
(स) बाढ़ का पानी रोकने के लिए (द) उपरोक्त सभी कारणों से
6. यदि आपका दोस्त प्रतिदिन स्कूल जाने के लिए घर से निकलता है किन्तु स्कूल न जाकर बाहर दिनभर खेलता तो आप क्या करोगे—
(अ) गुरुजी से शिकायत करोगे
(ब) उसको समझाओगे कि पढाई करना अच्छी बात है
(स) तुम भी उसके साथ खेलने चले जाओगे
(द) कुछ नहीं करोगे
7. महिला बचत समूह गांव में क्या क्या बनाती है?

प्रदत्त कार्य—

आपके क्षेत्र में चल रहे महिलाओं के स्व सहायता समूह के बारे में लिखो?



v/; k; & 3
i pk; rh jkt

1. ग्राम पंचायत के मुखिया को कहते हैं—
 (अ) पंच (ब) सरपंच
 (स) उपसरपंच (द) पंचायत सचिव
2. ग्राम पंचायत के प्रत्येक वार्ड से एक एक प्रतिनिधि चुना जाता है उसे कहते हैं—
 (अ) पंच (ब) सरपंच
 (स) उपसरपंच (द) पंचायत सचिव
3. वार्ड बनाया जाता है—
 (अ) जनसंख्या के आधार पर (ब) शिक्षित जनसंख्या के आधार पर
 (स) पुरुषों की संख्या के आधार पर (द) महिलाओं की संख्या के आधार पर
4. उम्मीदवार कहते हैं—
 (अ) मतदान करने वाले को (ब) चुनाव लड़ने वाले को
 (स) भाषण देने वाले को (द) सरपंच को
5. एक वार्ड के पंच चुनने के लिए मतदान करते हैं—
 (अ) उस वार्ड के सभी मतदाता (ब) उस ग्राम पंचायत के सभी मतदाता
 (स) सभी पंच एवं सरपंच (द) सभी पंच एवं पंचायत सचिव
6. सरपंच चुनने के लिए मतदान करते हैं—
 (अ) उस वार्ड के सभी मतदाता (ब) उस ग्राम पंचायत के सभी मतदाता
 (स) सभी पंच एवं सरपंच (द) सभी पंच एवं पंचायत सचिव
7. उपसरपंच का चुनाव करते हैं—
 (अ) उस वार्ड के सभी मतदाता (ब) उस ग्राम पंचायत के सभी मतदाता
 (स) सभी पंच एवं सरपंच (द) सभी पंच एवं पंचायत सचिव
8. आपकी कक्षा की लक्ष्मी पंच बनना चाहती है किन्तु वह पंच नहीं बन सकती क्योंकि—
 (अ) वह कक्षा 6वीं में पढ़ती है (ब) वह लड़की है
 (स) उसकी आयु 21 वर्ष से कम है (द) उसके पास धन नहीं है
9. पंचायत चुनाव लड़ने के लिए उम्मीदवार की आयु होनी चाहिए—
 (अ) 21 वर्ष से अधिक (ब) 21 वर्ष से कम
 (स) किसी भी आयु का हो (द) केवल विवाहित हो
10. किसी पद के लिए होने वाले चुनाव में जब केवल एक उम्मीदवार हो तो वह चुना जाता है—
 (अ) मतदान द्वारा (ब) निर्विरोध
 (स) मुखिया द्वारा (द) मतदाता द्वारा
11. पंचायत का चुनाव होता है—
 (अ) प्रत्येक 5 वर्ष में (ब) पांच वर्ष से कम
 (स) कभी भी (द) प्रत्येक वर्ष

12. पिछला पंचायत चुनाव सन् 2009 में हुआ था तो अब उसका अगला चुनाव होगा—
 (अ) 2013 में (ब) 2014 में
 (स) 2015 में (द) 2016 में
13. पंचायतों के चुनाव में महिलाओं अनुसूचित जाति, अनुसूचित जनजाति, या अन्य पिछड़ा वर्ग के लोगों के लिए स्थान आरक्षित किए जाने का कारण है—
 (अ) सभी वर्गों को प्रतिनिधित्व देना (ब) उनका आर्थिक विकास करना
 (स) केवल वर्ग विशेष को ही प्रतिनिधित्व देना (द) दूसरे वर्गों को प्रतिनिधित्व से रोकना
14. हमारी पंचायती राज व्यवस्था है—
 (अ) द्वि स्तरीय (ब) त्रि स्तरीय
 (स) चतुर्थ स्तरीय (द) पंच स्तरीय
15. जनपद पंचायत के अध्यक्ष का चुनाव किया जाता है—
 (अ) सभी पंचों द्वारा (ब) सभी सरपंचों द्वारा
 (स) सभी जनपद पंचायत सदस्यों द्वारा (द) सभी जिला पंचायत सदस्यों द्वारा
16. ग्राम पंचायत के आय के प्रमुख साधन क्या हैं?
 17. ग्राम पंचायत के प्रमुख कार्यों का विवरण दीजिए?
 18. जनपद पंचायत के प्रमुख कार्यों को लिखिए?
 19. जिला पंचायत के प्रमुख कार्यों को लिखिए।
 20. यदि आपके मोहल्ले में नालियां नहीं है और गंदा पानी सड़कों पर बहता है तो तुम क्या करोगे अपने शब्दों में लिखो?

प्रदत्त कार्य—

1. आपके पंचायत द्वारा किए गए पांच कार्यों का पता लगाएँ तथा उसके बारे में लिखिए?



v/; k; & 4
uxji kfydk vkj
uxj fuxe

- यदि बेमेतरा शहर की जनसंख्या 35000 से अधिक है तो वहाँ पर स्थानीय प्रशासन के लिए कौन सी शासन व्यवस्था होगी—
(अ) नगर पंचायत (ब) नगरपालिका (स) नगरनिगम (द) महानगर पालिका
- नगरपालिका के वार्ड के सदस्य को किस नाम से जाना जाता है—
(अ) अध्यक्ष (ब) पार्षद (स) उपाध्यक्ष (द) महापौर
- पार्षद समस्याओं के निराकरण कराने के लिए जिम्मेदार होते हैं—
(अ) ग्राम की (ब) अपने वार्ड की (स) पूरे शहर की (द) जिले की
- नगर पंचायत एवं ग्राम पंचायत में क्या अंतर है अपने शब्दों में लिखो?
- नगर निगम/नगर पालिका के मुख्य कार्य हैं?
- नगर पालिका और नगर निगम को पैसे कहां से मिलते हैं?

प्रदत्त कार्य—

- यदि आपके शहर में कई जगह गंदगी कई दिनों से पड़ी है आप इस संबंध में चिट्ठी किसको और कैसे लिखोगे लिखकर बताओ?
- पता करो कि आपके राज्य में कितनी नगर पालिका और कितने नगर निगम हैं उनकी सूची बनाओ?
- आपके शहर के संबंध में अधोलिखित जानकारी एकत्र कर लिखिए—
1. वार्ड का नाम वार्ड क्र.
3. शहर का नाम नगर पंचायत/नगरपालिका/नगरनिगम
वार्ड की जनसंख्या - कुल पुरुष महिला.....
शहर की जनसंख्या - कुल पुरुष महिला.....

क.	विवरण	नाम	पुरुष/महिला	जातिवर्ग
1	अध्यक्ष			
2	उपाध्यक्ष			
3	पार्षद वार्ड नं. 1			
4	पार्षद वार्ड नं. 2			
5	पार्षद वार्ड नं. 3			
6	पार्षद वार्ड नं. 4			
7	पार्षद वार्ड नं. 5			
8	पार्षद वार्ड नं. 6			
9	पार्षद वार्ड नं. 7			
10	पार्षद वार्ड नं. 8			
11	पार्षद वार्ड नं. 9			
12	पार्षद वार्ड नं. 10			

v/; k; & 5 ft yk i t kkl u

- जिले का सबसे बड़ा अधिकारी होता है—
 (अ) तहसीलदार (ब) अनुविभागीय अधिकारी
 (स) कलेक्टर (द) जिला पुलिस अधिकारी
- तहसीलों को मिलाकर बनता है—
 (अ) जनपद पंचायत (ब) जिला
 (स) राज्य (द) देश
- छत्तीसगढ़ राज्य का उच्च न्यायालय स्थित है—
 (अ) रायपुर (ब) बिलासपुर
 (स) जशपुर (द) सूरजपुर
- जिलाधीश को कहा जाता है—
 (अ) जिला दण्डाधिकारी (ब) न्यायाधीश
 (स) आयुक्त (द) निरीक्षक
- तहसीलदार का संबंध किस विभाग से है—
 (अ) शिक्षा (ब) राजस्व
 (स) पुलिस (द) स्वास्थ्य
- आपके जिले के किसी भी पांच विभाग का नाम लिखिए?
- जिलाधीश के क्या क्या कार्य हैं, लिखिए।

प्रदत्त कार्य—

- दिए गए विभाग के समक्ष जिले के प्रमुख अधिकारी का पदनाम लिखो?
- तुम्हारे जिले में कौन कौन सी तहसीले हैं नाम लिखो और बताओ कि सबसे बड़ी तहसील कौन सी है?

क्र.	विभाग का नाम	जिले के प्रमुख अधिकारी का पदनाम
1	शिक्षा विभाग	
2	पुलिस विभाग	
3	चिकित्सा विभाग	
4	सिंचाई विभाग	
5	खाद्य विभाग	



v/; k; & 6 I koʒt fud I à fRr; k;

1. सार्वजनिक सम्पति के रूप में जाना जाता है जिस पर—
 (अ) सबका अधिकार होता है (ब) एक व्यक्ति का अधिकार होता है।
 (स) सरपंच का अधिकार होता है (द) नेता का अधिकार होता है
2. जिस वस्तुओं या सम्पति पर किसी एक व्यक्ति का अधिकार होता है उसे कहते हैं—
 (अ) सार्वजनिक सम्पति (ब) निजी सम्पति
 (स) सरकारी सम्पति (द) समाज की सम्पति
3. हमें सार्वजनिक सम्पति को नुकसान नहीं पहुँचाना —
 (अ) सबके लिए उपयोगी होती है (ब) सुरक्षा की जिम्मेदारी पूरा करने
 (स) तोड़-फोड़ या नष्ट होने से बचाने (द) स्वच्छ व सुंदर दिखाने
4. इनमें से सार्वजनिक सम्पति का उदाहरण है—
 (अ) मेरा घर (ब) मेरी सायकल
 (स) मेरा विद्यालय (द) मेरी पुस्तक
5. उन सार्वजनिक सम्पतियों की सूची बनाइए जिनका उपयोग आप अपने जीवन में करते होंगे?
6. यदि आपके आसपास के कोई सार्वजनिक सम्पति को नुकसान पहुंचा रहा हो तो आप क्या करेंगे?
7. यदि हमारे लिए सार्वजनिक सम्पतियों की सुविधाएं नहीं होती तो आपको किन किन कठिनाईयों का सामना करना पड़ेगा?

प्रदत्त कार्य—


सार्वजनिक सम्पतियों की सुरक्षा से संबंधित नारे, चित्र आदि एकत्र कर या निर्मित कर अपनी पोर्टफोलियों में लगाए




v/; k; & 7
cPpk&ds v f/kdkj

1. तिलक मैदान पर बच्चों के लिए प्रदर्शनी लगी थी उसका नाम था—
 (अ) हमारे अधिकार (ब) तुम्हारे अधिकार
 (स) बुजुर्गों के अधिकार (द) महिलाओं के अधिकार
2. दिए गए विकल्प में से बच्चों का अधिकार नहीं है—
 (अ) खेलना (ब) शिक्षा पाना
 (स) विद्यालय न जाना (स) भोजन और आश्रय पाना
3. तिलक मैदान के प्रदर्शनी के द्वार पर क्या लिखा था?
4. बच्चों के अधिकारों की सूची बनाइए?
5. बच्चों के अधिकार से संबंधित नारे, संकलित या निर्माण कर पोर्टफोलियों में रखो?





Hkwxksy



v/; k; & 1 ekufp= dk v/; ; u

1. मानचित्र में उत्तर दिशा हमेशा उपर की ओर होती है तो पूर्व दिशा होगी—
 (अ) बायीं ओर (ब) दाहिनी ओर
 (स) नीचे की ओर (द) मध्य में
2. उत्तर दिशा ज्ञात की जा सकती है—
 (अ) सूर्य द्वारा (ब) चुबंकीय सुई द्वारा
 (स) ध्रुव तारे द्वारा (द) उपरोक्त सभी के द्वारा
3. नक्शे में पैमाना बनाया जाता है—
 (अ) दूरी ज्ञात करने के लिए (ब) ऊँचाई ज्ञात करने के लिए
 (स) दिशा ज्ञात करने के लिए (द) विभिन्न स्थालाकृतियों का पता करने के लिए
4. पैमाना कहते हैं—
 (अ) मानचित्र की दूरी को
 (ब) कागज की दूरी को
 (स) मानचित्र एवं जमीन की वास्तविक दूरी के अनुपात को
 (द) जमीन की दूरी को
5. नक्शे में रायपुर से महासमुंद की दूरी 11 सेन्टीमीटर है यदि पैमाना 1 सेमी मीटर बराबर 5 किलोमीटर है तो वास्तविक दूरी होगी—
 (अ) 5 मीटर (ब) 55 मीटर
 (स) 55 किलोमीटर (द) 11 किलोमीटर
6. नक्शा बनाने के लिए आवश्यक है—
 (अ) पैमाना (ब) संकेत
 (स) दिशा (द) उपरोक्त सभी
7. रेखाचित्र कहते हैं—
 (अ) बिना पैमाने और दिशा के बनाया गया चित्र (ब) मानचित्र
 (स) खींचा गया फोटो (द) नदी पहाड़ के चित्र को
8. नक्शे में दिए गए संकेत होते हैं—
 (अ) पूरे राज्य के लिए एक समान
 (ब) पूरे विश्व के लिए एक समान
 (स) अलग अलग देशों के लिए अलग अलग
 (द) हर राज्य का अलग अलग
9. नक्शा बनाना और नक्शा पढ़ना दोनों में क्या अंतर है ? दोनों के लिए किन-किन बातों का जानना आवश्यक है?
 प्रदत्त कार्य—
 1. छ.ग. के सभी जिलों की सूची बनाकर ज्ञात करें कि वे जिले राज्य के किस किस दिशा में स्थित हैं।
 2. रेखाचित्र के द्वारा आप अपने मित्र को विद्यालय से अपने घर का रास्ता बताओ?

v/; k; & 2 Xykc dk v/; ; u

1. ग्लोब के द्वारा ज्ञात किया जाता है—
 (अ) पृथ्वी की सूर्य से दूरी (ब) पृथ्वी का आकार
 (स) पृथ्वी की लंबाई (द) पृथ्वी का व्यास
2. निम्न में से किस तिथि को सूर्य की किरणें भूमध्य रेखा पर सीधी पड़ती है—
 (अ) 21 मार्च से 23 सितम्बर (ब) 21 जून
 (स) 22 दिसंबर (द) 21 मार्च एवं 23 सितम्बर को
3. भूमध्य रेखा से ध्रुवों की तरफ जाने पर अक्षांश रेखाओं का आकार—
 (अ) घटता है (ब) बढ़ता है
 (स) स्थिर रहता है (द) पहले घटता है फिर बढ़ता है
4. भूमध्य रेखा को कहते हैं—
 (अ) कर्क रेखा (ब) मकर रेखा
 (स) ग्रीनविच रेखा (द) विषुवत रेखा
5. निम्न में से कौन सा वृत्त सबसे बड़ा है—
 (अ) भूमध्य रेखा (ब) $23\frac{1}{2}^{\circ}$ उत्तरी अक्षांश रेखा
 (स) 23° अंश दक्षिणी अक्षांश रेखा (द) $66\frac{1}{2}^{\circ}$ उत्तरी अक्षांश रेखा
6. वह अक्षांश रेखा जिस पर दिन रात की अवधि बराबर होती है—
 (अ) भूमध्य रेखा (ब) उत्तरी ध्रुव रेखा
 (स) दक्षिणी ध्रुव रेखा (द) कर्क रेखा पर
7. भूमध्य रेखा पर दिन की अवधि होती है—
 (अ) 12 घंटे (ब) 24 घंटे
 (स) 10 घंटे (द) $12\frac{1}{2}$ घंटे
8. अंतर्राष्ट्रीय तिथि रेखा स्थित है—
 (अ) भूमध्य रेखा के पास (ब) ग्रीनविच रेखा के विपरित दिशा में
 (स) दक्षिणी गोलार्द्ध में (द) उत्तरी गोलार्द्ध में
9. देशान्तर रेखाओं द्वारा ज्ञात किया जाता है—
 (अ) किसी स्थान की जलवायु (ब) किसी स्थान की स्थिति
 (स) किसी स्थान की दूरी (द) सभी
10. भूमध्य रेखा पर सूर्य की किरणें वर्ष भर सीधी क्यों पड़ती हैं?
11. अक्षांश एवं देशान्तर रेखाओं में क्या अंतर है?
12. मीना के अनुसार भारत उत्तरी गोलार्द्ध में स्थित है रमेश के अनुसार भारत पूर्वी गोलार्द्ध में स्थित है आप के अनुसार क्या सही है और क्यों?
13. ग्रीनविच रेखा और भूमध्य रेखा में क्या अंतर है?
14. निम्न रेखाओं पर तापमान कैसी होती है— भूमध्य रेखा, ध्रुवों पर, मकर एवं कर्क रेखा पर?



v/; k; & 3 lkFoh dk i fjeMy

1. दक्षिणी ध्रुव क्षेत्र में स्थित महाद्वीप का नाम है—
 (अ) यूरोशिया (ब) अफ्रीका महाद्वीप
 (स) एशिया महाद्वीप (द) अन्टार्कटिका महाद्वीप
2. अंटलाटिक महासागर स्थित है—
 (अ) उत्तर अमेरिका दक्षिण अमेरिका यूरोप एवं अफ्रीका के मध्य
 (ब) उत्तर अमेरिका एवं दक्षिण अमेरिका के मध्य
 (स) भारत एवं एशिया के मध्य
 (द) आस्ट्रेलिया एवं अफ्रीका के मध्य में
3. जनसंख्या अधिक निवास करती है—
 (अ) मैदानी क्षेत्र में (ब) पहाड़ी क्षेत्र में
 (स) पठारी क्षेत्र में (द) मरुस्थलीय क्षेत्र में
4. अबूझमाड़ की पहाड़िया स्थित है—
 (अ) बस्तर जिले में (ब) कोरिया जिले में
 (स) जशपुर जिले में (द) रायगढ़ जिले में
5. पारिस्थितिकी तंत्र में जीवों में परस्पर संबंधों का आधार है—
 (अ) भोजन (ब) श्वसन
 (स) प्रकाश संश्लेषण (द) जीवों में स्पर्धा
6. आवागमन का सबसे सस्ता साधन है—
 (अ) वायुमार्ग (ब) जल मार्ग
 (स) रेलमार्ग (द) सड़क मार्ग
7. मैदानों का निर्माण होता है—
 (अ) नदियों द्वारा लाये गए अवसादों के जमाव से
 (ब) वनों के कटाव से
 (स) अत्यधिक खेती के द्वारा
 (द) सरकार द्वारा किए गए प्रयासों से।
8. महासागरों से हमें क्या-क्या लाभ है?
9. उत्तरी गोलार्द्ध एवं दक्षिणी गोलार्द्ध में कौन-कौन से महाद्वीप स्थित है?
10. महाद्वीप एवं महासागर में क्या अंतर है?
11. आप कौन सी जगह रहना पसंद करोगे पहाड़ी, पठारी या मैदानी भाग में और क्यों?
12. अन्टार्कटिका महाद्वीप में सदैव बर्फ जमा रहता है क्यों?

प्रदत्त कार्य—

विश्व के नक्शे में महाद्वीप एवं महासागरों को अंकित करो



v/; k; & 4
i gkM# xko
mi jonh

1. पहाड़ कहते हैं—
 (अ) अत्यधिक ऊँचे क्षेत्र को
 (ब) अत्यधिक ऊँचे एवं मंद ढाल वाले क्षेत्र को
 (स) अत्यधिक ऊँचे, तीव्रढाल एवं शिखरयुक्त क्षेत्र को
2. पहाड़ का ढाल होता है—
 (अ) मंद
 (ब) तीव्र
 (स) चिकना
 (द) नहीं होता है
3. पहाड़ी भूमि होती है—
 (अ) उबड़ खाबड़
 (ब) मैदानी
 (स) दलदली
 (द) रेतीली
4. पहाड़ों पर पाए जाते हैं—
 (अ) जंगल
 (ब) खेत
 (स) बड़े-बड़े कारखाने
 (द) बड़े-बड़े भवन
5. पहाड़ों पर जनसंख्या कम होती है क्योंकि—
 (अ) वहां प्राकृतिक आपदायें अधिक आती हैं
 (ब) वहां जंगली जानवर पाए जाते हैं
 (स) वहां स्कूल नहीं होते हैं
 (द) वहां की भूमि अनुपजाऊ होती है
6. कम पानी की फसले हैं—
 (अ) चावल
 (ब) गेहूं
 (स) अरहर
 (द) कोदो-कुटकी
7. जंगलों से प्राप्त होता है—
 (अ) चावल दाल बाजरा
 (ब) गेहूं, चना, मटर
 (स) हर्षा बहेरा तेंदू
 (द) हरी साग सब्जी
8. सल्फी वृक्ष का उपयोग किया जाता है—
 (अ) शिकार करने में
 (ब) रस निकालकर पीने में
 (स) मछली पकड़ने में
 (द) आग जलाने में
9. घोटुल है—
 (अ) सिनेमा घर
 (ब) बस्तर के ग्राम सभा स्थान
 (स) आदिवासियों के बैठक स्थान
 (द) मनोरंजन एवं सांस्कृतिक केन्द्र
10. युवाओं के सांस्कृतिक केन्द्र को कहते हैं
 (अ) सिनेमा घर
 (ब) घोटुल
 (स) सभा कक्ष
 (द) पंचायत स्थल
11. उपरवेदी स्थित है—
 (अ) कांकेर जिले में
 (ब) कोण्डागांव जिले में
 (स) बस्तर जिले में
 (द) दंतेवाड़ा जिले में

12. बस्तर में स्थित है—

(अ) मैकाल श्रेणी की पहाड़ियाँ

(ब) आल्पस की पहाड़ियाँ

(स) अबूझमाड़की पहाड़ियाँ

(द) छूरी की पहाड़ियाँ

13. यदि आपको पहाड़ी क्षेत्र में रहना पड़े तो आप कौन सा व्यवसाय करोगे और क्यों?

14. पहाड़ी क्षेत्र में धान की खेती क्यों नहीं की जाती?

15. पहाड़ी क्षेत्र में आबादी कम पाई जाती है क्यों?

प्रदत्त कार्य—

1. छ.ग राज्य में कौन-कौन से पहाड़ है सूची बनाओ?

2. बस्तर के आदिवासियों की जानकारी निम्न बिंदुओं में एकत्रित करो। विभिन्न जनजातियों के नाम, निवास क्षेत्र, रहन-सहन, व्यवसाय, संस्कृति, शिक्षा,



v/; k; & 5
eñku dk
, d xkp fjl nk

1. मैदानों का निर्माण होता है—
 (अ) नदियों द्वारा बहाकर लाई गई मिट्टी से (ब) कूड़ा—करकट से
 (स) प्लास्टिक के लगातार जमा होने से (द) कारखानों से निकले राख से
2. मैदानी क्षेत्र होते हैं—
 (अ) उपजाऊ (ब) अनुपजाऊ
 (स) मरुस्थलीय (द) बर्फीले
3. मैदानी क्षेत्र में नदियों का प्रवाह धीमा होता है क्योंकि—
 (अ) ढाल तीव्र होता है (ब) पानी कम हो जाता है
 (स) ढाल मंद होता है (द) पानी को जगह—जगह रोका जाता है।
4. मैदानी क्षेत्र में आसान होता है—
 (अ) खेती करना (ब) सिंचाई करना
 (स) पशुपालन करना (द) उपरोक्त सभी
5. मैदानी क्षेत्रों में जनसंख्या अधिक होती है क्योंकि—
 (अ) यहाँ की मिट्टी कृषि योग्य होती है
 (ब) यहां परिवहन एवं व्यवसाय की सुविधा होती है
 (स) पानी की समस्या नहीं होती है
 (द) उपरोक्त सभी
6. धान के लिए मटासी मिट्टी उपयोगी है क्योंकि—
 (अ) यह पानी को शीघ्र सोख लेता है
 (ब) पानी अधिक समय तक ऊपरी सतह पर रुकता है
 (स) पानी बह जाता है
 (द) यह मिट्टी सभी जगह आसानी से मिल जाती है।
7. नलकूप, कुआँ खोदना आसान होता है—
 (अ) पहाड़ी क्षेत्रों में (ब) पठारी क्षेत्रों में
 (स) दलदली क्षेत्रों में (द) मैदानी क्षेत्रों
8. मैदानी क्षेत्रों में नलकूप एवं कुआँ खोदना आसान होता है क्योंकि —
 (अ) यहां की मिट्टी अनुपजाऊ होती है
 (ब) यहां की मिट्टी अत्यधिक कठोर होती है
 (स) यहां की मिट्टी नरम होती है
 (द) यहां की मिट्टी में खाद अधिक पाया जाता है
9. रबी फसल है—
 (अ) चावल ज्वार बाजरा (ब) गेहूं चना मटर
 (स) चावल गेहूँ चना (द) ज्वार बाजरा मक्का
10. कन्हार, डोरसा है—
 (अ) मिट्टी का नाम (ब) धान का नाम
 (स) जंगली कंद मूल फल का नाम (द) साग सब्जी का नाम

11. मैदानी क्षेत्र का धरातल होता है—

- (अ) समतल (ब) उबड़ खाबड़
(स) तीव्र ढाल वाला (द) पथरीला

12. धान की खेती के लिए सबसे अच्छी मिट्टी है—

- (अ) पीली मटासी मिट्टी (ब) दोमट मिट्टी
(स) भाठा मिट्टी (द) काली मिट्टी

13. महानदी की सहायक नदी है—

- (अ) शिवनाथ (ब) शबरी
(स) इन्द्रावती (द) ईव नदी

14. रोपा विधि से बोया जाता है—

- (अ) धान (ब) गेहूं
(स) चना (द) अरहर

15. मैदानी क्षेत्र में मुख्य रूप से कौन सा व्यवसाय किया जाता है और क्यों?

16. आप पहाड़ी, पठारी, मैदानी किन क्षेत्रों में रहना पसंद करोगे और क्यों?

17. निम्न बिंदुओं के आधार पर पहाड़ी और मैदानी क्षेत्रों में अंतर स्पष्ट करो। धरातलीय बनावट, जल, मिट्टी व्यवसाय मानव बस्ती।

प्रदत्त कार्य—

महानदी, शिवनाथ, इन्द्रावती नदियों की जानकारी निम्न बिंदुओं में एकत्रित कर छ.ग के नक्शे में दर्शाओ—

- कहां से निकलती है
- किन-किन क्षेत्रों से प्रवाहित होती है
- सहायक नदी कौन सी है
- नदियों पर कौन-कौन से व्यवसाय किया जाता है
- नदियों के किनारे कौन-कौन से धार्मिक सांस्कृतिक एवं पर्यटन स्थल हैं? नदी जल का उपयोग किन-किन कार्यों के लिए किया जाता है सूची तैयार करें।

आप अपने गांव या शहर में पता लगाकर लिखो कि धान की फसल कब बोई जाती है—

- कौन कौन सा धान बोया जाता है?
- किस विधि से बोया जाता है?
- सिंचित क्षेत्र है या असिंचित क्षेत्र
- सिंचाई की क्या व्यवस्था है?
- कौन सी मिट्टी में बोया जाता है?
- कौन सी खाद का उपयोग किया जाता है?
- औसतन प्रति हेक्टेयर उत्पादन कितना होता है?
- किसानों की क्या-क्या समस्याएँ हैं।

प्रोजेक्ट कार्य—

आप अपने आसपास के पांच किसानों से पता करो कि पिछले पांच सालों से प्रति हेक्टेयर कितना उत्पादन हुआ है। यह घटा या बढ़ा है इसके घटने और बढ़ने के कारणों का पता करो।

v/; k; & 6
i Bkj dk
, d xkp pkYgk

1. पठार कहते हैं—
 (अ) ऊँचे क्षेत्र को
 (स) समतल एवं मंद ढाल वाले क्षेत्र को
 (ब) तीव्र ढाल वाले क्षेत्र को
 (द) ऊँचे एवं समतल क्षेत्र को
2. महल पत्ते से बनाया जाता है—
 (अ) चटाई
 (स) दोना-पत्तल
 (ब) बीड़ी
 (द) झाड़ू
3. ढोढी होता है—
 (अ) तालाब
 (स) गहरा कुआ
 (ब) नलकूप
 (द) बांध
4. तिराही का उपयोग किया जाता है—
 (अ) तेल निकालने में
 (स) दूध निकालने में
 (ब) फसल काटने में
 (द) पानी निकालने में
5. तेदूपत्ता मिलता है—
 (अ) नदी तालाब में
 (स) बाजार में
 (ब) खेत में
 (द) जंगल में
6. तेंदू पत्ते से बनाया जाता है—
 (अ) चटाई
 (स) बीड़ी
 (ब) झाड़ू
 (द) दोना पत्तल



v/; k; & 7
fofo/krkvkɑdk
egk}hi , f' k; k

1. सबसे बड़ा महाद्वीप है—
 (अ) एशिया (ब) यूरोप
 (स) उत्तरी अमेरिका (द) अफ्रीका
2. महाद्वीप कहते हैं—
 (अ) वह बड़ा भू-भाग जो चारों ओर जल से घिरा हो
 (ब) जो तीन ओर जल से घिरा हो
 (स) जहां बड़े बड़े समुद्र हो
 (द) जहां दो सागर आकर मिलते हैं
3. झील कहते हैं—
 (अ) जहां नदियां आकर मिलती हैं
 (ब) जहां जल प्राकृतिक रूप से एकत्र हो जाता है
 (स) तालाब में जमा जल को
 (द) मनुष्यों द्वारा एकत्रित किए गए जल को
4. मानसूनी जलवायु पाई जाती है—
 (अ) भारत (ब) जापान में
 (स) अरब में (द) न्यूयार्क में
5. कम वर्षा वाले क्षेत्र में पाया जाता है—
 (अ) घने वन (ब) कंटीली झाड़ियाँ
 (स) घास के मैदान (द) समुद्री वनस्पति
6. एशिया का पश्चिमी भाग है—
 (अ) गर्म एवं शुष्क (ब) अत्यधिक ठंडा
 (स) अत्यधिक वर्षा वाला (द) गर्म एवं ठंडा
7. मानसूनी जलवायु की विशेषता है—
 (अ) वर्ष भर वर्षा (ब) शीत ऋतु में वर्षा
 (स) वर्ष के तीन चार माह वर्षा (द) अत्यधिक न्यून वर्षा
8. विश्व का सबसे ऊँचा पठार है—
 (अ) तिब्बत का पठार (ब) चाल्हा का पठार
 (स) बस्तर का पठार (द) छोटा नागपुर का पठार
9. एशिया महाद्वीप स्थित है—
 (अ) उत्तरी गोलार्द्ध में (ब) दक्षिणी गोलार्द्ध में
 (स) पश्चिमी गोलार्द्ध में (द) उत्तर दक्षिण गोलार्द्ध में
10. साइबेरिया के मैदान में बहने वाली नदियों में बर्फ जम जाता है क्योंकि—
 (अ) यह ध्रुवीय प्रदेश की ओर बहती है (ब) कर्क रेखा के समीप स्थित है
 (स) यहां वर्षा अधिक होती है (द) यह समुद्रों में जाकर गिरती है।
11. विभिन्न प्रकार की सभ्यताओं का विकास नदियों के किनारे ही क्यों हुआ?

v/; k; & 8
}hi k&dk n's k
b. Mksuf' k; k

- 1 द्वीप कहते हैं—
 - (अ) वह छोटा भू-भाग जो चारों ओर से समुद्र से घिरा हो
 - (ब) जो तीन ओर से समुद्र से घिरा हो
 - (स) जो एक तरफ से स्थल भाग से जुड़ा हो
 - (द) जहां नदियां आकर मिलती हो।
2. इण्डोनेशिया के एक द्वीप से दूसरे द्वीप की यात्रा जलमार्ग से की जा सकती है क्योंकि—
 - (अ) इन द्वीपों के चारों ओर जल ही जल है
 - (ब) जलमार्ग सस्ता होता है
 - (स) नाव से जल्दी पहुंचा जा सकता है
 - (द) रेलगाड़ी का मार्ग बहुत कठिन है
3. इण्डोनेशिया की जलवायु की विशेषताएँ हैं—

(अ) सालभर वर्षा एवं गर्मी	(ब) साल भर अत्यधिक ठंडी
(स) साल भर वर्षा	(द) साल भर गर्मी
4. भूमध्य रेखीय वनों की विशेषता है—

(अ) वन घने होते हैं	(ब) पेड़ों से लताएँ लिपटी रहती हैं
(स) वनों में दलदल पाए जाते हैं	(द) उपरोक्त सभी
5. भूमध्यरेखीय वनों को सदाबहार वन कहते हैं क्योंकि—
 - (अ) यहां घने वने हैं
 - (ब) ये वन सदैव हरे भरे रहते हैं
 - (स) ये वन ग्रीष्म ऋतु में अपने पत्ते गिरा देते हैं
 - (द) इन वनों में जानवर पाए जाते हैं
6. इण्डोनेशिया में प्रति दिन तेज गर्मी और प्रति दिन बारिश होती है क्योंकि—

(अ) यह भूमध्य रेखा पर स्थित है	(ब) यह उत्तरी गोलार्द्ध में स्थित है
(स) यह दक्षिणी गोलार्द्ध में स्थित है	(द) यह पश्चिमी गोलार्द्ध में स्थित है।
7. सीढ़ीनुमा खेत बनाए जाते हैं—

(अ) मैदानी क्षेत्रों में	(ब) पहाड़ी ढलानों पर
(स) शुष्क क्षेत्रों में	(द) आर्द्र क्षेत्रों में
8. पहाड़ों पर सीढ़ीनुमा खेत बनाने से—
 - (अ) मिट्टी के कटाव को रोका जा सकता है
 - (ब) खेतों में मशीन चलाना आसान होता है
 - (स) मिट्टी उपजाऊ बन जाती है
 - (द) खेतों में पानी रुका रहता है

9. गर्म मसालों के उत्पादन के लिए जलवायु आवश्यक है—
 (अ) अधिक वर्षा (ब) अधिक गर्मी
 (स) अधिक वर्षा और अधिक गर्मी (द) कम तापमान
10. बड़े-बड़े खेतों में एक ही प्रकार की फसल बोई जाती है उसे कहते हैं—
 (अ) स्थानान्तरित कृषि (ब) मिश्रित कृषि
 (स) सिंचित कृषि (द) बागाती कृषि
11. झूम खेती को अन्य नाम से जाना जाता है—
 (अ) स्थानान्तरण खेती (ब) सघन खेती
 (स) सीढ़ीदार खेती (द) रोपण खेती
12. झूम खेती और सीढ़ीदार खेती में क्या अंतर है इस प्रकार की खेती में कौन कौन सी फसलें बोई जाती हैं।
13. यदि इण्डोनेशिया में रोज तेज धूप नहीं पड़ती तो भी क्या वहां रोज बारिश होती? कारण सहित समझाओ
14. इण्डोनेशिया में गर्म मसालों की खेती क्यों की जाती है?

प्रदत्त कार्य—

15. छ.ग. राज्य एवं इण्डोनेशिया में निम्न बिन्दुओं अंतर लिखो—

- | | | | |
|------------|------------------|---------------|-----------|
| 1. स्थिति | 2. धरातलीय बनावट | 3. जलवायु | 4. मिट्टी |
| 5. वनस्पति | 6. व्यवसाय | 7. मुख्य भाषा | |



v/; k; & 9
mxrsgq l j t dk
n'sk t ki ku

1. जापान देश के संबंध में कौन सा कथन असत्य है—
 (अ) जापान द्वीपों का देश है (ब) जापान पहाड़ों का देश है
 (स) जापान में ज्वालामुखी पाए जाते हैं (द) जापान एक चौड़ा मैदानी क्षेत्र है।
2. उगते सूर्य का देश कहा जाता है—
 (अ) नेपाल (ब) जापान
 (स) भूटान (द) अरुणाचल प्रदेश
3. होकाइदो होन्शू, क्यूशू और शिकोकू चार बड़े द्वीप हैं—
 (अ) इण्डोनेशिया में (ब) जापान में
 (स) मलेशिया में (द) भारत में
4. देवदार वृक्ष की मुख्य विशेषता है—
 (अ) साल भर हरे भरे रहते हैं
 (ब) बहुत घने होते हैं
 (स) अपनी पत्तियों को ग्रीष्म ऋतु में घिरा देते हैं
 (द) अत्यधिक फलदार होते हैं
5. सीढ़ी नुमा खेती की जाती है—
 (अ) पहाड़ी ढलानों पर (ब) पठार पर
 (स) मैदानी क्षेत्र में (द) सभी जगह
6. जापान के लोग मशीन से खेती करते हैं क्योंकि वहाँ—
 (अ) खेत में काम करने के लिए मजदूर नहीं मिलते
 (ब) खेती में रुचि नहीं है
 (स) मशीन के बिना खेती संभव नहीं है
 (द) पहाड़ी क्षेत्र है
7. चाय की खेती पहाड़ी ढलानों में की जाती है क्योंकि—
 (अ) चाय की खेती पहाड़ी क्षेत्रों में की जाती है
 (ब) चाय की खेती को बहते हुए पानी की आवश्यकता होती है
 (स) चाय की खेती के लिए उबड़ खाबड़ भूमि की आवश्यकता होती है
 (द) चाय की खेती के लिए मैदानी भागों में जगह नहीं है।
8. रेशम का उत्पादन किया जाता है—
 (अ) अमरूद के पेड़ पर (ब) आम के पेड़ पर
 (स) शहतूत के पेड़ पर (द) बरगद के पेड़ पर
9. जापान में मिनी माटा बीमारी होती है—
 (अ) मच्छरों से (ब) विषैली मछलियों के खाने से
 (स) बासी भोजन से (द) गंदे पानी से



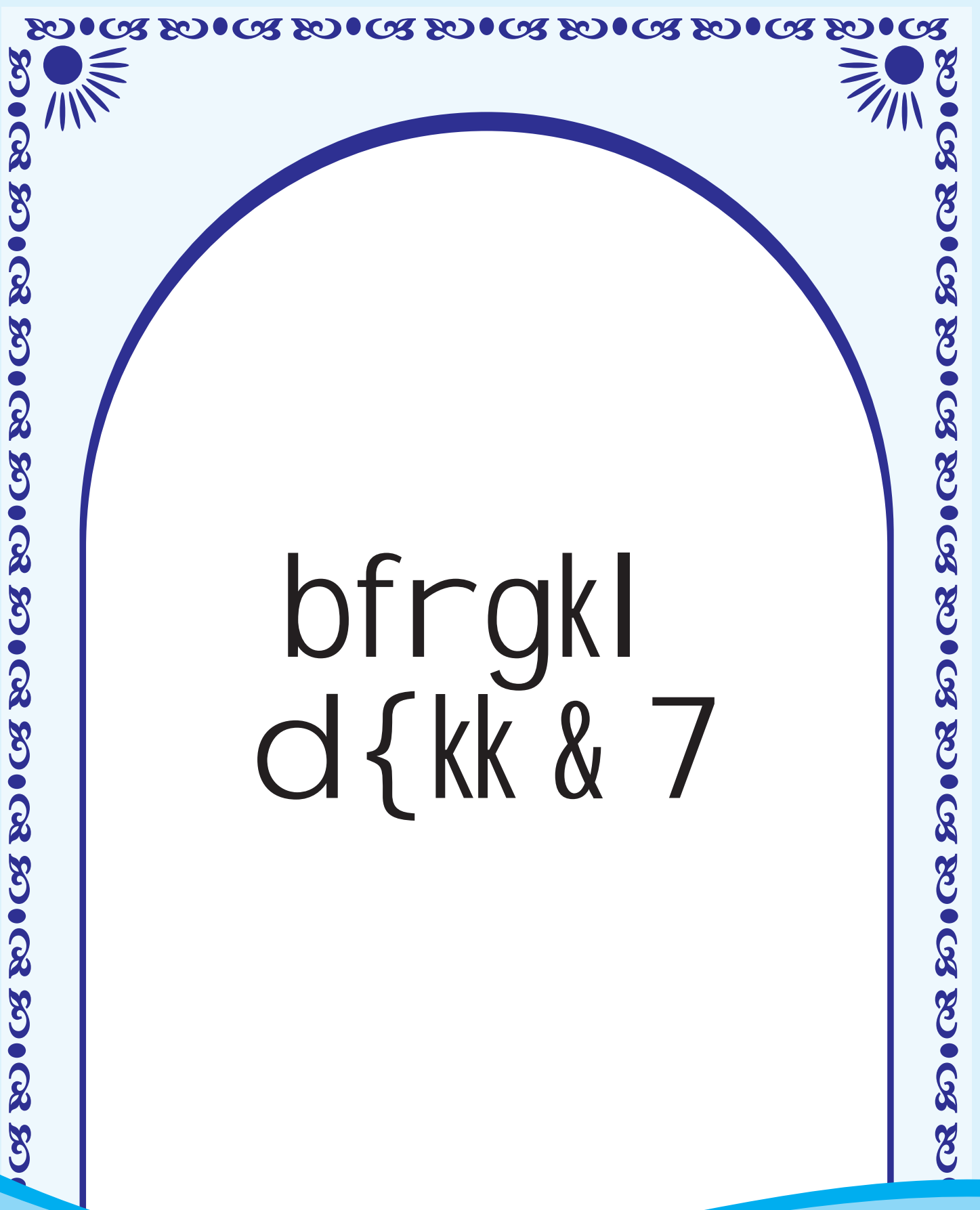
✓/; k; & 10 Vq Mk i n\$ k

1. छः महीने दिन एवं छः महीने की रात होती है—
 (अ) अरुणाचल प्रदेश में (ब) यूरोप में
 (स) टुण्ड्रा प्रदेश में (द) अफ्रीका में
2. टुण्ड्रा प्रदेश का विस्तार पाया जाता है—
 (अ) साइबेरिया में (ब) जापान में
 (स) इण्डोनेशिया में (द) चीन में
3. टुण्ड्रा के लोगों का व्यवसाय नहीं है—
 (अ) पशुपालन (ब) शिकार करना
 (स) मछलीपालन (द) खेती करना।
4. स्लेज गाड़ी होती है—
 (अ) रेलगाड़ी (ब) बिना पहिए की गाड़ी
 (स) चार पहिए की गाड़ी (द) बैलगाड़ी
5. टुण्ड्रा प्रदेश में घर बने होते हैं—
 (अ) मिट्टी से (ब) पत्थर से
 (स) लकड़ी से (द) बर्फ से
6. टुण्ड्रा प्रदेश में हारपून होता है—
 (अ) एक नुकीला औजार (ब) नाव
 (स) घर (द) गाड़ी
7. टुण्ड्रा प्रदेश की जलवायु अत्यधिक ठंडी है क्योंकि यहां—
 (अ) सूर्य की किरणें सीधी पड़ती हैं
 (ब) सूर्य की किरणें जनवरी से दिसम्बर तिरछी पड़ती हैं
 (स) सूर्य की किरणें वर्ष भर तिरछी पड़ती हैं
 (द) सूर्य की किरणें कर्क रेखा पर सीधी पड़ती हैं
8. आपके घर एवं इग्लू में क्या अंतर है?
9. टुण्ड्रा प्रदेश के लोगों को रेनडियर से क्या-क्या चीजें प्राप्त होती हैं?
10. टुण्ड्रा प्रदेश के लोगों को ठंड के दिनों में शिकार करना मुश्किल होता है क्यों?
11. हमारे देश की गर्मी की ऋतु एवं टुण्ड्रा प्रदेश की ग्रीष्म ऋतु में क्या अंतर है?
12. आपके भोजन एवं टुण्ड्रा प्रदेश के लोगों के भोजन में क्या अंतर है?

प्रदत्त कार्य—

समुद्री जीवों के नाम एवं उसके उपयोग के बारे जानकारी एकत्रित कर लिखो?





bfrgkl
d {kk & 7

v/; k; & 1

fi Nyh d{kk eavki usi <k

1. आदि मानव के औजार बने होते थे—

(अ) लोहे के	(ब) लकड़ी और पत्थरों के
(स) केवल पत्थरों के	(द) केवल लकड़ी के
 2. आर्य संस्कृति विकसित हुई—

(अ) गंगा यमुना नदी के किनारे	(ब) महानदी व पैरी नदी के किनारे
(स) खारून व शिवनाथ के किनारे	(द) सोन व नर्मदा नदी के किनारे
 3. आर्य संस्कृति के क्षेत्र को कहते हैं—

(अ) मध्यप्रदेश	(ब) उत्तर प्रदेश
(स) सप्तसिंधु प्रदेश	(द) हिमाचल प्रदेश
 4. आर्यों का मुख्य काम था—

(अ) खेती करना	(ब) पशु पालन
(स) व्यापार	(द) बागवानी
 5. आर्य अपने देवी देवताओं के लिए करते थे—

(अ) यज्ञ	(ब) मंदिर बनवाना
(स) आरती	(द) भजन
 6. कौशल, वत्स, और मगध सबसे शक्तिशाली थे—

(अ) जिला	(ब) जनपद
(स) महाजनपद	(द) राज्य
 7. महाजनपद काल में धातुओं का प्रचलन हुआ—

(अ) सिक्कों में	(ब) मूर्तियों में
(स) नोटों में	(द) टकसालों में
 8. आर्यों की भाषा थी—

(अ) अरबी	(ब) फारसी
(स) उर्दू	(द) संस्कृत
 9. छत्तीसगढ़ में प्रसिद्ध लक्ष्मण मंदिर स्थित है—

(अ) डोंगरगढ़ में	(ब) बारसूर में
(स) सिरपुर में	(द) शिवरीनारायण में
- प्रदत्त कार्य—**
1. सिरपुर के बारे में निम्न बिन्दुओं पर जानकारी एकत्रित करिए एवं संबंधित चित्रों का भी संकलन कीजिए—
 - कहाँ स्थित है।
 - आपके जिले/शहर से कितने किलोमीटर दूर है
 - आपके शहर से सिरपुर तक जाने के कौन-कौन से साधन हैं।
 - सिरपुर का ऐतिहासिक महत्व क्या है?
 - सिरपुर में कौन-कौन से दर्शनीय स्थल हैं?
 - सिरपुर के संरक्षण हेतु सरकार द्वारा कौन-कौन से उपाय किए गए हैं?
 2. भारत के नक्शे में सिंधु, सतलज, झेलम, एवं व्यास नदियों को दर्शाओ?

v/; k; & 2
NkV&NkV/sjkT; ka dk
fodkl

1. राष्ट्रकूट वंश के शासक चालुक्य राजाओं के—
 (अ) कर्मचारी थे (ब) अधिकारी थे
 (स) सामंत थे (द) मंत्री थे
2. त्रिपुरी राज्य के कलचुरियों ने अपना शासन स्थापित किया—
 (अ) छत्तीसगढ़ (ब) उड़ीसा
 (स) महाराष्ट्र (द) आंध्रप्रदेश
3. प्राचीन राजवंशों ने अपने को श्रेष्ठ और ऊँचा सिद्ध करने के लिए अपने वंश का संबंध जोड़ा—
 (अ) देवताओं व ऋषियों से (ब) गांवों व शहरों से
 (स) अपने नाम के जगहों से (द) देश व राज्य से
4. छत्तीसगढ़ के कलचुरी शासक रत्नदेव तृतीय का दान देने के रूप में प्रमाण प्राप्त हुआ है—
 (अ) भोज पत्र में (ब) ताम्रपत्र में
 (स) शिलालेख में (द) स्मारक में
5. खैरागढ़ के राजा लक्ष्मीनिधि राय के दरबार में कवि थे—
 (अ) दलराम राव (ब) विनयशरण
 (स) दिनेश राव (द) रामचरण राव
6. छत्तीसगढ़ नाम का पहली बार उपयोग किसने किया—
 (अ) कलचुरी राजा ने (ब) रतनपुर के शासक ने
 (स) कवि दलराम राव ने (द) राजा लक्ष्मीनिधि ने
7. राजाओं के शासन में भाटों का कार्य था—
 (अ) राजाओं का यश गान करना (ब) कृषि करना
 (स) किसानों से लगान वसूल करना (द) अश्वमेघ यज्ञ करना
8. छत्तीसगढ़ नाम का प्रयोग सर्वप्रथम कहाँ किया गया—
 (अ) अश्वमेघ यज्ञ के समय
 (ब) दलराम राव ने अपनी कविता में
 (स) विभिन्न राजवंशों ने राज्य जीतने पर
 (द) ब्राम्हणों ने प्राप्त दान दक्षिणा के समय
9. भारत के विभिन्न स्थानों पर शासित सन 650 से 1200 ई. तक के राजवंशों के नाम लिखो?
10. सन् 650 से 1200 ई. तक छत्तीसगढ़ में किस वंश के राजाओं ने राज्य किया उनके नाम पता कर लिखो?

11. अलबरूनी कौन था वह भारत क्यों आया था?
12. चोल राजाओं ने समुद्र पार कर किन-किन देशों पर चढाई की थी?
13. कन्नौज पर अधिकार के लिए किन-किन राजवंशों के बीच कितने समय तक लड़ाई हुआ

14. सही जोड़ी—

राजा भोज	परमार वंश
महमूद गजनवी	मध्य एशिया का शक्तिशाली शासक
अलबरूनी	ताहकीक ए हिन्द (अरबी भाषा)
चोल वंश	दक्षिण भारत का शक्तिशाली राजवंश
राजा राज चोल	राजराजेश्वर मंदिर
चोल राजाओं	थल और जल सेना

प्रदत्त कार्य—

आपके आसपास या आपके जिले में कल्चुरी वंश के समय का कोई इमारत या मंदिर हो तो पता कर उसके बारे में विस्तार से लिखो।



v/; k; & 3 thou eavk; k cnyko

1. मंदिरों को गांव देने की प्रथा को कहते थे—
 (अ) ब्रम्हदान (ब) देवदान
 (स) पल्ली (द) पंचकुल
2. दक्षिण भारत में कई गांव मिलकर नाडू बनाते थे। इस नाडू का कार्य था—
 (अ) लगान इकट्ठा करना (ब) दंड देना
 (स) झगड़े निपटाना (द) उपरोक्त सभी
3. भक्ति आंदोलन की शुरुआत हुई—
 (अ) तमिलनाडू (ब) वाराणसी
 (स) उज्जैन (द) रामेश्वरम्
4. भक्ति काल की विशेषता थी—
 (अ) सभी देवी देवताओं की पूजा करते थे
 (ब) केवल शिव व विष्णु की ही उपासना करते थे
 (स) ब्राम्हण ही पूजा करते थे
 (द) लगान से प्राप्त धन को मंदिरों में खर्च करते थे
5. भक्ति काल के शिव भक्तों को कहा जाता था—
 (अ) आलवार (ब) नायनार
 (स) महेश्वर (द) शिव भक्त
6. महिलाओं पर अनेक पाबंदिया थी—
 (अ) वैदिक काल में (ब) मुगल काल में
 (स) अंग्रेजों के शासन काल में (द) 650 ई से 1200 ई तक
7. कोणार्क का सूर्य मंदिर है—
 (अ) उड़ीसा में (ब) कर्नाटक में
 (स) तमिलनाडू में (द) केरल में
8. रतनपुर का महामाया मंदिर बनवाया था—
 (अ) कल्चुरी शासकों ने (ब) नागवंशी शासकों ने
 (स) छिंद शासकों ने (द) चोल शासकों ने
9. गांवों की समस्या को सुलझाने के लिए निर्मित पंचकुल के सदस्य होते थे—
 (अ) कृषक परिवार के मुखिया (ब) राजपरिवार के मुखिया
 (स) सांमत (द) सेना के प्रमुख
10. भक्ति काल में क्षेत्रीय भाषाओं का क्या योगदान था?
11. घुमक्कड़ लोग, पंचकुल, उर, नाडू, ब्रम्हदेव, देवदान, मंडपिक, वीथियां, नायनार, आलवार ये शब्द किससे संबंधित हैं इन पर दो दो वाक्य लिखो?

प्रदत्त कार्य—

छत्तीसगढ़ का प्रमुख पर्यटन स्थल भोरमदेव के बारे में निम्न बिंदुओं पर जानकारी एकत्रित करो—

- भोरमदेव किस जिले में स्थित है?
- आपके जिले से यह कितनी दूर स्थित है व किन-किन साधनों से जाया जा सकता है?
- यह मंदिर किसने व कब बनवाया?
- मंदिर का निर्माण किन-किन चीजों से हुआ है?
- मंदिर में किसकी प्रतिमा स्थित है?
- मंदिर की मुख्य विशेषताएं क्या-क्या हैं?
- मंदिर के संरक्षण हेतु सरकार द्वारा क्या-क्या प्रयास किए गए हैं?
- यदि आप पिकनिक हेतु इस स्थान पर जाओगे तो किन-किन बातों का ध्यान रखोगे?



v/; k; & 4
fnYyh I Yrur dh
LFkki uk

1. सन् 1206 ई. से 1290 ई तक दिल्ली सल्तनत का कार्यकाल था—
 (अ) 83 वर्ष (ब) 84 वर्ष
 (स) 94 वर्ष (द) 95 वर्ष
2. दिल्ली सल्तनत था—
 (अ) पुर्तगालियों का राज्य (ब) मुगलों का राज्य
 (स) तुर्कों का राज्य (द) यूनानियों का राज्य
3. अरबी भाषा में शासक को कहा जाता है—
 (अ) राजा (ब) सुल्तान
 (स) शासक (द) नवाब
4. भारत में आने वाले गोर के सुल्तान का नाम था?—
 (अ) मुहम्मद गोरी (ब) मुहम्मद बिन तुगलक
 (स) इल्तुतमिश (द) कुतुबुद्दीन ऐबक
5. मुहम्मद गोरी और पृथ्वीराज चौहान के मध्य प्रथम युद्ध कहां हुआ था? (1191 ई.)
 (अ) हल्दी घाटी (ब) पानीपत
 (स) तराईन (द) अजमेर
6. मुहम्मद गोरी और पृथ्वीराज चौहान के मध्य द्वितीय युद्ध हुआ था? (समय—1192 ई.)
 (अ) पानीपत (ब) अजमेर
 (स) तराईन (द) हल्दीघाटी
7. तराईन के दूसरे युद्ध के बाद दिल्ली में राज्य स्थापित हुआ—
 (अ) मराठों का (ब) मुगलों का
 (स) राजपूतों का (द) तुर्कों का
8. मुहम्मद गोरी की मृत्यु के बाद दिल्ली का सुल्तान बना—
 (अ) कुतुबुद्दीन ऐबक (ब) मुहम्मद बिन तुगलक
 (स) शेरशाह सूरी (द) रजिया सुल्तान
9. दिल्ली का पहला सुल्तान था—
 (अ) बलवन (ब) कुतुबुद्दीन ऐबक
 (स) मुहम्मद बिन तुगलक (द) मुहम्मद गोरी
10. कुतुबमीनार का निर्माण प्रारंभ कराया—
 (अ) कुतुबुद्दीन ऐबक (ब) बलवन
 (स) रजिया सुल्तान (द) इल्तुतमिश
11. कुतुबमीनार का निर्माण कार्य पूर्ण कराया—
 (अ) कुतुबुद्दीन ऐबक (ब) बलवन
 (स) इल्तुतमिश (द) रजिया सुल्तान

12. रजिया सुल्तान इल्तुतमिश की कौन थी—
 (अ) बेटी (ब) पटरानी
 (स) माँ (द) बहन
13. दिल्ली की गद्दी पर बैठने वाली एकमात्र महिला शासक थी—
 (अ) लक्ष्मीबाई (ब) रजिया सुल्तान
 (स) अवंति बाई (द) दुर्गावती
14. तुर्क सरदारों का रजिया सुल्तान को गद्दी पर बैठाने का उद्देश्य था—
 (अ) अपने स्वार्थ की पूर्ति हेतु (ब) कुशल प्रशासन हेतु
 (स) सामंतों से बदलना लेने हेतु (द) रजिया में ज्यादा प्रशासनिक क्षमता थी
15. रजिया के बाद दिल्ली का सुल्तान था—
 (अ) अलाउद्दीन खिलजी (ब) गयासुद्दीन बलवन
 (स) आमीर (द) कैकुबाद
16. गुलामवंश का अंतिम शासक था—
 (अ) बलवन (ब) इल्तुतमिश
 (स) रजिया बेगम (द) कैकुबाद
17. तुर्क सुल्तानों के शासनकाल में दिल्ली पर किस मंगोल आक्रमणकारी के आक्रमण हुए—
 (अ) शेर खाँ (ब) चंगेज खाँ
 (स) बैरम खाँ (द) आदम खाँ
18. तराईन के प्रथम युद्ध में किसकी जीत हुई?
 19. तराईन का प्रथम युद्ध किसके-किसके मध्य हुआ?
 20. तराईन के द्वितीय युद्ध में किसकी हार हुई?
 21. तुर्क अपने साथ भारत में क्या-क्या लेकर आये?
 22. मुहम्मद गोरी ने अपने राज्य का विस्तार दिल्ली की ओर क्यों किया?
 23. पृथ्वीराज और मुहम्मद गोरी की सेनाओं का विस्तृत वर्णन करें?
 24. "गुलाम" किसे कहते थे एवं उनका क्या कार्य था?
 25. इल्तुतमिश के सामने किस-किस प्रकार की समस्याएँ थी?
 26. तुर्क सरदारों द्वारा रजिया की हत्या क्यों की गई?
 27. गयासुद्दीन बलवन की शासन व्यवस्था पर टिप्पणी लिखें।

प्रदत्त कार्य—

- भारत के मानचित्र में दिल्ली सल्तनत को दर्शाते हुए रंग भरो।



v/; k; & 5 fnYyh I Yrur dk foLrkj

1. बलवन की मृत्यु के बाद दिल्ली का सुल्तान बना—
 (अ) अलाउद्दीन खल्जी (ब) जलालुद्दीन खल्जी
 (स) सलालुद्दीन खल्जी (द) मुहम्मद गोरी
2. तारीख-ए-फिरोजशाह नामक पुस्तक के लेखक—
 (अ) अमीर खुसरो (ब) अलबरुनी
 (स) रहीम खानखाना (द) चंदबरदाई
3. तारीख-ए-फिरोजशाह नामक पुस्तक से किसके बारे में जानकारी प्राप्त होती है—
 (अ) अलाउद्दीन खल्जी (ब) जलालुद्दीन खल्जी
 (स) मुहम्मद गोरी (द) मुहम्मद बिन तुगलक
4. अलाउद्दीन खल्जी के समय में प्रसिद्ध फारसी कवि था —
 (अ) अलबरुनी (ब) अमीर खुसरो
 (स) जायसी (द) चंदबरदाई
5. अलाउद्दीन खल्जी ने अपने राज्य में नहीं मिलाया—
 (अ) रणथंभौर (ब) मालवा
 (स) चित्तौड़ (द) देवगिरि
6. अलाउद्दीन खल्जी ने किसानों को लगान के रूप में देने को कहा—
 (अ) उपज का आधा हिस्सा (ब) उपज का एक चौथाई हिस्सा
 (स) उपज का दो चौथाई हिस्सा (द) उपज का तीन चौथाई हिस्सा
7. अलाउद्दीन खल्जी ने दिल्ली सल्तनत को किस आक्रमणकारियों से बचाया—
 (अ) हूण (ब) मंगोल
 (स) शक (द) डच
8. अलाउद्दीन खल्जी का देवगिरी पर आक्रमण करने का मुख्य उद्देश्य था—
 (अ) साम्राज्य का विस्तार करना (ब) धन प्राप्त करना
 (स) वहां के शासक से बदला लेना (द) किसानों से लगान वसूल करना
9. अलाउद्दीन खल्जी की मृत्यु के बाद दिल्ली में स्थापित हुआ—
 (अ) तुगलक वंश (ब) मौर्य वंश
 (स) परमार वंश (द) चालुक्य वंश
10. तुगलक वंश का पहला सुल्तान अथवा संस्थापक था—
 (अ) मुहम्मद बिन तुगलक (ब) गयासुद्दीन तुगलक
 (स) मीर कासिम (द) मीर जाफर
11. गयासुद्दीन तुगलक ने किस नगर को बसाया—
 (अ) देवगिरी (ब) रत्नागिरी
 (स) तुगलकाबाद (द) उदयपुर

12. मुहम्मद बिन तुगलक का किसी व्यक्ति को ऊँचे पद पर नियुक्त करने का मापदंड था—

- | | |
|-------------------------|------------------------------|
| (अ) व्यक्ति की ईमानदारी | (ब) व्यक्ति की योग्यता |
| (स) व्यक्ति का धर्म | (द) व्यक्ति की आर्थिक स्थिति |

13. सेना में भ्रष्टाचार रोकने के लिए अलाउद्दीन खल्जी ने चालू किया—

- | | |
|---------------------------------|---------------------------|
| (अ) हुलिया प्रथा | (ब) जाति प्रथा |
| (स) रिश्तेदारों को ऊँचे पद देना | (द) सैन्य संचालन खुद करना |

14. ऐतिहासिक घटनाओं की जानकारी हमें कहाँ से मिलती है?

15. अलाउद्दीन खल्जी के शासन व्यवस्था का विस्तृत वर्णन करें?

16. अलाउद्दीन खल्जी ने अमीरों के विद्रोह को रोकने के लिए क्या किया?

17. अलाउद्दीन खल्जी ने अपने राज्य का विस्तार कैसे किया?

18. अलाउद्दीन खल्जी ने किन-किन राज्यों को अपने राज्य में मिलाकर राज्य विस्तार किया?

19. अलाउद्दीन खल्जी के लगान संबंधी नीति पर टिप्पणी लिखें?

20. अलाउद्दीन खल्जी ने सैन्य संचालन एवं सैन्य हित में क्या-क्या किया?

21. मुहम्मद बिन तुगलक ने अपनी राजधानी कहाँ से कहाँ स्थानान्तरित की?

22. मुहम्मद बिन तुगलक के राजधानी स्थानान्तरण संबंधी नीति पर संक्षिप्त टिप्पणी लिखो।

23. मुहम्मद बिन तुगलक का चाँदी के सिक्के के स्थान पर काँसे के सिक्कों के प्रचलन का क्या कारण था?

24. मुहम्मद बिन तुगलक के सिक्के परिवर्तन संबंधी नीति के क्या दुष्परिणाम हुए?

25. मुहम्मद बिन तुगलक कौन सी नीतियाँ असफल रही?

26. मुहम्मद बिन तुगलक के अत्यधिक सल्तनत विस्तार से क्या समस्याएँ उत्पन्न हुईं?

प्रदत्त कार्य—

- अलाउद्दीन खल्जी के साम्राज्य की सीमा किन-किन राज्यों को छूती थी? ज्ञात करो
- तुगलक साम्राज्य के प्रसिद्ध शहरों को भारत के मानचित्र में दर्शाओ।



v/; k; & 6 I Yrur dkyhu t u&t hou

- अपने-आपको हिन्दुस्तानी तुर्क कहने वाले कवि का नाम था—
 (अ) चंदबरदायी (ब) मलिक मुहम्मद जायसी
 (स) अमीर खुसरो (द) अलबरुनी
- तुर्को द्वारा भारत में लाई गई कागज एवं पुस्तकों पर जिल्द चढ़ाने की कला से—
 (अ) लेखन कला का विकास हुआ (ब) लिखित सामग्री सुरक्षित रखी जाने लगी
 (स) लेखन कला आसान हो गई (द) उपरोक्त सभी
- सूत कातने के लिए चरखे का उपयोग किसके काल में हुआ—
 (अ) अंग्रेजी काल (ब) मुगलकाल
 (स) सल्तनत काल (द) प्राचीन काल
- सल्तनत काल में प्रभावशाली धर्म था—
 (अ) हिन्दू (ब) पारसी
 (स) इस्लाम (द) इसाई
- इस्लाम में वर्जित है—
 (अ) एकेश्वरवाद (ब) नमाज
 (स) मस्जिद जाना (द) मूर्तिपूजा
- सल्तनत बनने का मुख्य परिणाम क्या हुआ?
- चंगेज खाँ के आक्रमण का मध्य एशिया के राज्यों पर क्या दुष्परिणाम हुआ?
- लगान व्यवस्था से किसानों के जीवन पर क्या प्रभाव पड़ा?
- तुर्क अपने साथ भवन निर्माण कला (वस्तुकला) की किन-किन खूबियाँ को भारत में लेकर आये?
- तुर्कों के आगमन से भारत में आये कला एवं सांस्कृतिक बदलाव पर प्रकाश डालें?
- तुर्कों ने भारत से कौन-कौन सी विधायें सीखी?
- सुल्तानों ने इस्लाम धर्म के प्रसार के लिए क्या कार्य किये?
- अमीर खुसरो कौन थे ? अमीर खुसरो की संगीत के क्षेत्र में क्या योगदान है?
- इस्लाम एवं हिन्दू धर्म के मेल-मिलाप से दोनों धर्मों के संतों पर क्या प्रभाव पड़ा?

प्रदत्त कार्य—

- कबीर व नानक क मानव समाज को क्या योगदान था? कबीर से संबंधित दोहे एकत्रित करो?
- अमीर खुसरो से संबंधित पहलियों को एकत्रित करो?



v/; k; & 7
exy l kekT; dh
LFkki uk

1. भारत में दिल्ली सल्तनत का शासनकाल था—
 (अ) लगभग डेढ़ सौ वर्षों तक (ब) लगभग सौ वर्षों तक
 (स) लगभग दो सौ वर्षों तक (द) लगभग सवा सौ वर्षों तक
2. दिल्ली सल्तनत पर शासन करने वाला अंतिम वंश—
 (अ) चोल वंश (ब) परमार वंश
 (स) राष्ट्रकूट वंश (द) लोदी वंश
3. मुगल साम्राज्य का संस्थापक था—
 (अ) अकबर (ब) बाबर
 (स) जहाँगीर (द) हुमायूँ
4. पानीपत का प्रथम युद्ध हुआ—
 (अ) सन् 1525 ई. (ब) सन् 1526 ई.
 (स) सन् 1527 ई. (द) सन् 1761 ई.
5. पानीपत का प्रथम युद्ध हुआ—
 (अ) अकबर व बाबर के मध्य (ब) हेमू व राणा साँगा के मध्य
 (स) बाबर और इब्राहीम लोदी के बीच (द) अकबर व इब्राहीम लोदी के मध्य
6. बाबर और राणा साँगा के युद्ध में—
 (अ) बाबर की हार हुई (स) बाबर और राणा साँगा के मध्य संधि हुई
 (ब) राणा साँगा की हार हुई (द) अकबर व इब्राहीम लोदी के मध्य संधि हुई
7. जजिया कर को हटाया—
 (अ) शेरशाह ने (ब) अकबर ने
 (स) बाबर ने (द) हुमायूँ ने
8. अकबर की जीवनी को अकबरनामा में लिखने का श्रेय जाता है—
 (अ) अबुल फजल (ब) टोडरमल
 (स) बीरबल (द) तानसेन
9. बाबर की आत्मकथा है—
 (अ) बाबरनामा (ब) तारीख—ए—बाबरी
 (स) तुजुक—ए—बाबरी (द) तारीख ए फिरोजशाह
10. बाबर ने अपनी आत्मकथा लिखी—
 (अ) तुर्की भाषा में (ब) अरबी भाषा में
 (स) फारसी भाषा में (द) उर्दू भाषा में
11. बाबर की मृत्यु के बाद बादशाह बना—
 (अ) अकबर (ब) दारा शिकोह
 (स) सूजा (द) हुमायूँ

12. हुमायूँ ने किसकी मदद से पुनः दिल्ली में मुगल साम्राज्य की स्थापना की—
 (अ) अफगान के शाह (ब) तुर्कीस्तान के शाह
 (स) ईरान के शाह (द) कजाकिस्तान के शाह
13. हुमायूँ की मृत्यु हुई—
 (अ) अस्थमा से (ब) ज्वर से
 (स) छत से गिरने से (द) सीढ़ियों से पाँव फिसलने से
14. शेरशाह की जागीर थी—
 (अ) बिहार के सासाराम में (ब) पटना में
 (स) टाटानगर (द) राँची में
15. नए सिक्कों का चलन प्रारंभ किया—
 (अ) अकबर ने (ब) राणा प्रताप ने
 (स) शेरशाह ने (द) राणा साँगा ने
16. शेरशाह कालीन ताँबे के सिक्के को कहते थे—
 (अ) रुपया (ब) छदाम
 (स) मुद्रा (द) दाम
17. चाँदी के सिक्के को कहते थे—
 (अ) दाम (ब) छदाम
 (स) रुपया (द) मुद्रा
18. दीन-ए-इलाही धर्म चलाया—
 (अ) अकबर ने (ब) शेरशाह ने
 (स) बाबर ने (द) हुमायूँ ने
19. शेरशाह पुत्र था—
 (अ) ईरानी सरदार का (ब) अफगान सरदार का
 (स) तुर्की सरदार का (द) मुगल बादशाह का
20. अकबर की धार्मिक नीति में विशेष योगदान था—
 (अ) जोधाबाई की (ब) अबुलफजल की
 (स) बीरबल का (द) राजपूतों का
21. रानी दुर्गावती के पुत्र का नाम—
 (अ) राम नारायण सिंह (ब) जयनारायण सिंह
 (स) विजय नारायण सिंह (द) वीर नारायण सिंह
22. रानी दुर्गावती शासिका थी—
 (अ) गोंडवाना की (ब) मालवा की
 (स) कन्नौज की (द) भीलवाड़ा की
23. अकबर ने किसकी मदद से गोंडवाना पर आक्रमण किया—
 (अ) बैरम ख़ाँ (ब) आसफ़ ख़ाँ
 (स) शेर ख़ाँ (द) अहमद ख़ाँ

24. छत्तीसगढ़ राज्य का प्राचीन नाम—

- (अ) बिलासपुर (ब) छतरपुर
(स) रतनपुर (द) रायपुर

25. अकबर के गोंडवाना आक्रमण के समय छत्तीसगढ़ में किस वंश का शासन था

- (अ) मौर्यवंश (ब) कल्चुरी राजवंश
(स) चालुक्य वंश (द) परमार राजवंश

26. अकबर की राजधानी थी—

- (अ) उदयपुर (ब) जयपुर
(स) फतेहपुर सीकरी (द) अजमेर

27. मनसबदारों के लगान वसूली हेतु निर्धारित क्षेत्र को कहते हैं—

- (अ) जागीर (ब) रियासत
(स) साम्राज्य (द) राज्य

28. सासाराम में मकबरा है—

- (अ) शेरशाह का (ब) अकबर का
(स) बाबर का (द) हुमायूँ

29. शेरशाह की मृत्यु हुई—

- (अ) सन् 1545 ई. में (ब) सन् 1526 ई. में
(स) सन् 1556 ई. में (द) सन् 1546 ई. में

30. अकबर के संरक्षक का नाम—

- (अ) शेर खाँ (ब) टोडरमल
(स) बैरम खाँ (द) मान सिंह

31. बैरम खाँ अकबर के थे—

- (अ) संरक्षक (ब) मंत्री
(स) सेनापति (द) राजकवि

32. हुमायूँ के पुत्र का नाम था—

- (अ) बाबर (ब) शेरशाह
(स) औरंगजेब (द) अकबर

33. हल्दीघाटी का युद्ध हुआ—

- (अ) अकबर व बाबर के बीच (ब) अकबर व शेरशाह के बीच
(स) अकबर व राणा प्रताप के बीच (द) राणाप्रताप व हुमायूँ के बीच

34. हल्दीघाटी के युद्ध में जीत हुई—

- (अ) अकबर की (ब) राणा प्रताप की
(स) हुमायूँ की (द) शेरशाह की

35. गोंडवाना (गढ़ाकंटगा) की राजधानी थी—

- (अ) चौरागढ़ (ब) चौराचौरी
(स) चौरड़ाधाम (द) चित्तौड़गढ़

36. राजा दलपत के देहावसान के बाद गद्दी पर बैठी—

- | | |
|--------------------|----------------------|
| (अ) रानी कर्मावती | (ब) रानी लक्ष्मीबाई |
| (स) रानी दुर्गावती | (द) रानी अहिल्या बाई |

प्रदत्त कार्य—

1. बाबर को फरगना की गद्दी से विरोधियों ने क्यों उतार दिया?
2. पानीपत का प्रथम युद्ध किनके-किनके बीच हुआ तथा दोनों सेनाओं की क्या-क्या विशेषताएँ थीं?
3. राणा साँगा से युद्ध के दौरान बाबर के सैन्य संचालन का वर्णन करें?
4. हुमायूँ के राज्य विस्तार के मार्ग में क्या-क्या कठिनाइयाँ आईं?
5. शेरशाह के सुधार कार्यों का वर्णन करें?
6. अकबर के साम्राज्य विस्तार का विस्तृत वर्णन करें?
7. अकबर के साम्राज्य विस्तार की क्या नीति थी?
8. अकबर की राजपूत नीतियों पर टिप्पणी लिखें?
9. अकबर की प्रशासनिक व्यवस्था पर नोट लिखें?
10. मनसबदारी व्यवस्था किसे कहते हैं?
11. अकबर के समय लगान व्यवस्था कैसी थी? उसमें उसके द्वारा क्या-क्या सुधार किये गये?
12. अकबर की धार्मिक नीति पर टिप्पणी लिखें?
13. मुगल बादशाहों की क्रमानुसार सूची तैयार कर उनके कार्यकाल को दर्शाओ—
14. पानीपत के प्रथम युद्ध में दोनों सेनाओं की विशेषताओं को दर्शाते हुए रेखाचित्र बनाओ।



v/; k; & 8
fojksk vkj foækg
dk l e;

1. बादशाह अकबर ने राज किया—
 (अ) 50 वर्षों तक (ब) 45 वर्षों तक
 (स) 56 वर्षों तक (द) 40 वर्षों तक
2. जहाँगीर के बेटे का नाम—
 (अ) अकबर (ब) शाहजहाँ
 (स) औरंगजेब (द) दाराशिकोह
3. दिल्ली का लाल किला एवं जामा मस्जिद बना—
 (अ) अकबर के काल में (ब) शाहजहाँ के काल में
 (स) बाबर के काल में (द) हुमायूँ के काल में
4. मुगल साम्राज्य में किसानों की हालत—
 (अ) अच्छी थी (ब) खराब थी
 (स) संतोषप्रद थी (द) बहुत अच्छी थी
5. अहोम राज्य वर्तमान में है—
 (अ) अरुणाचल में (ब) उत्तरप्रदेश में
 (स) महाराष्ट्र में (द) असम में
6. मराठे महाराष्ट्र के कुशल योद्धा थे—
 (अ) उत्तरी पहाड़ी भाग (ब) मध्यवर्ती भाग
 (स) पश्चिमी पहाड़ी भाग (द) दक्षिणी भाग
7. शिवाजी की माता का नाम—
 (अ) आशा भोसले (ब) जीजाबाई
 (स) तीजन बाई (द) अहिल्या बाई
8. शिवाजी के पिता का नाम—
 (अ) सुदेश भोसले (ब) शाह जी भोसले
 (स) संभाजी भोसले (द) बाजी राव
9. शिवाजी ने बीजापुर में किस सेनापति को मारा—
 (अ) शेर खाँ (ब) सलीम खाँ
 (स) अकरम खाँ (द) अफजल खाँ
10. मुगल साम्राज्य का महत्वपूर्ण व्यापार केन्द्र था—
 (अ) सूरत (ब) गोलकुंडा
 (स) दिल्ली (द) बीजापुर
11. शिवाजी के युद्धकला को कहते हैं—
 (अ) धर्मयुद्ध (ब) शीतयुद्ध
 (स) छापामार युद्ध (द) गृहयुद्ध

12. शिवाजी को काबू में लाने के लिए औरंगजेब ने दूत के रूप में भेजा—

- | | |
|----------------|------------------|
| (अ) हनुमान | (ब) राजा जयसिंह |
| (स) जसवंत सिंह | (द) राजा मानसिंह |

13. शिवाजी ने उपाधि धारण की—

- | | |
|--------------|-----------------|
| (अ) शोधोपाधि | (ब) छत्रपति |
| (स) महात्मा | (द) पंजाब केसरी |

14. शिवाजी ने अपने आपको स्वतंत्र राजा घोषित किया—

- | | |
|------------------|------------------|
| (अ) सन् 1674 में | (ब) सन् 1675 में |
| (स) सन् 1615 में | (द) सन् 1700 में |

15. जयसिंह एवं जसवंत सिंह जैसे हिन्दू सर्वोच्च पद पर थे—

- | | |
|--------------------------|--------------------------|
| (अ) अकबर के दरबार में | (ब) हुमायूँ के दरबार में |
| (स) औरंगजेब के दरबार में | (द) शाहजहाँ के दरबार में |

16. औरंगजेब के काल में रतनपुर एवं रायपुर में राज कर रहे थे—

- | | |
|-----------------|-----------------|
| (अ) होल्कर राजा | (ब) कलचुरी राजा |
| (स) परमार राजा | (द) चंदेल राजा |

लघुत्तरीय प्रश्न—

- मुगलकाल में किसानों की हालत दयनीय क्यों हो गई थी?
- औरंगजेब के समय किसानों द्वारा हुए विद्रोह के क्या कारण थे?
- किसानों व जमींदारों के विद्रोह का मुगल साम्राज्य पर क्या प्रभाव पड़ा?
- जगीरदारों के तबादले का कृषि पर क्या प्रभाव पड़ा?
- औरंगजेब के बीजापुर तथा गोलकुंडा जीत के क्या परिणाम हुए?
- राजपूतों ने औरंगजेब के खिलाफ विद्रोह क्यों किया तथा उसके क्या परिणाम हुए?
- शिवाजी के युद्धकला पर संक्षिप्त टिप्पणी लिखें?
- औरंगजेब की धार्मिक नीति कैसी थी?
- औरंगजेब की धार्मिक कट्टरता के क्या परिणाम हुए?
- अकबर, शाहजहाँ एवं औरंगजेब के समय के हिन्दू अमीरों की संख्या का तुलनात्मक वर्णन करें।
- औरंगजेब ने साम्राज्य के हित में कौन-कौन सी नीतियाँ अपनाईं?
- औरंगजेब की मृत्यु के बाद मुगल साम्राज्य की क्या स्थिति थी?
- अकबर और औरंगजेब की धार्मिक नीति की तुलना करो?

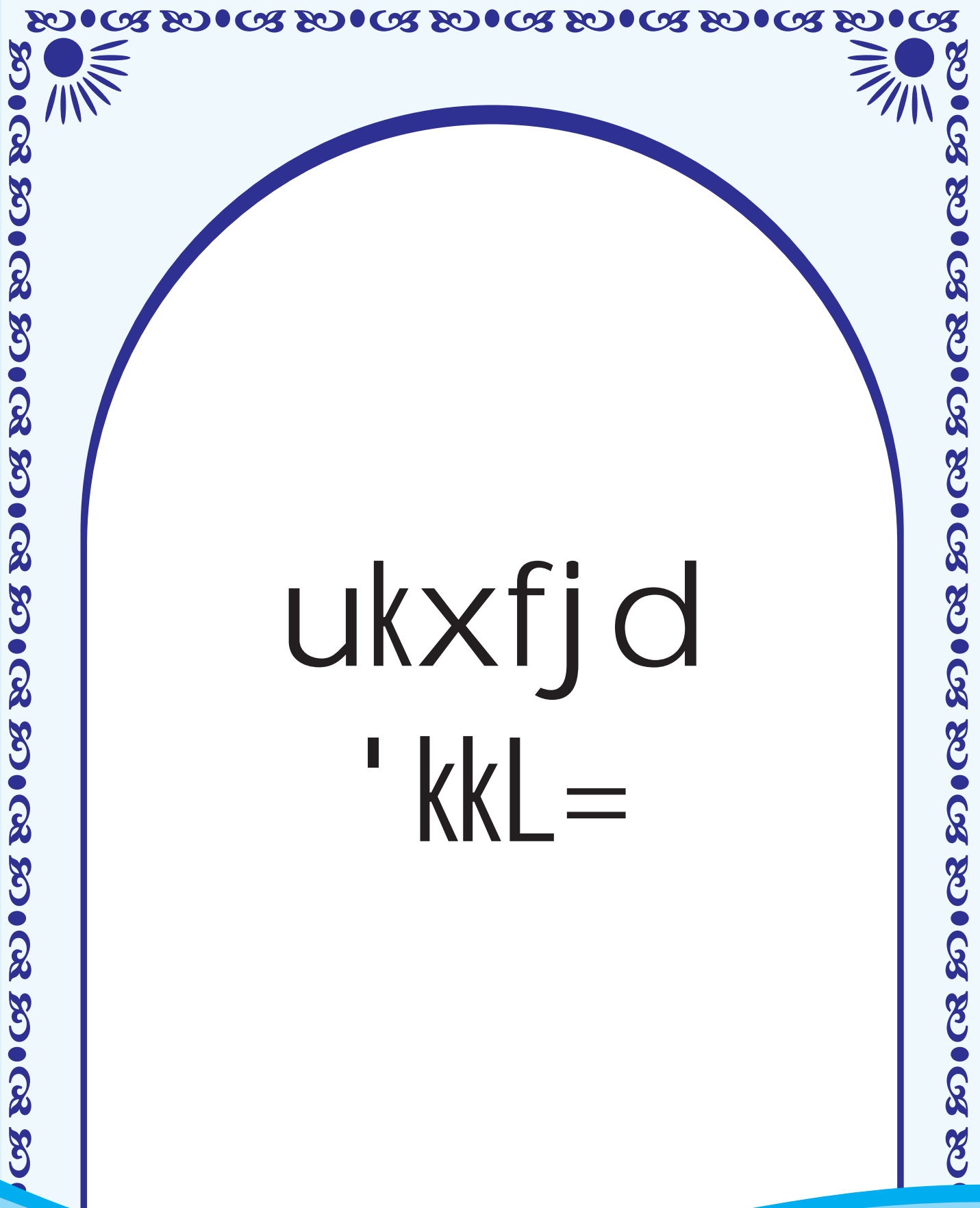


v/; k; & 9

exydkyhu tuthou

1. मुगलकाल में शासन का सर्वोच्च होता था—
 (अ) राजा (ब) सम्राट
 (स) बादशाह (द) अधिपति
2. मुगलकाल में छत्तीसगढ़ में शासन था—
 (अ) कलचुरियों का (ब) चंदेलों का
 (स) होल्करों का (द) परमारों का
3. मुगल सम्राट अनुयायी थे—
 (अ) हिन्दु धर्म के (ब) इस्लाम धर्म के
 (स) जैन धर्म के (द) ईसाई धर्म के
4. छत्तीसगढ़ के भक्त कवि हुए—
 (अ) तुलसीदास (ब) सूरदास
 (स) रहीम (द) गोपाल मिश्र
5. मुगलकाल में छत्तीसगढ़ में आगमन हुआ—
 (अ) साई पंथ का (ब) कबीर पंथ का
 (स) इस्लाम धर्म का (द) जैन धर्म का
6. कबीर पंथियों का प्रमुख तीर्थस्थल—
 (अ) बिलासपुर (ब) साईखेड़ा
 (स) दामाखेड़ा (द) रायपुर
7. कलचुरियों के शासन काल में छत्तीसगढ़ में प्रारंभ हुई—
 (अ) मूर्ति पूजा (ब) हनुमान पूजा
 (स) देवपूजा (द) शक्तिपूजा
8. मुगलकाल का समाज—
 (अ) उद्योग प्रधान था (ब) कृषि प्रधान था
 (स) धर्म प्रधान था (द) कर्म प्रधान था
9. अकबर के समय किसानों से लगान में फसल का भाग लिया जाता था—
 (अ) दो तिहाई भाग (ब) आधा भाग
 (स) एक तिहाई भाग (द) दो चौथाई भाग
10. मुगलकालीन वास्तुकला मिश्रण है भारतीय कला एवं—
 (अ) ईरानी व मध्य एशियाई कला का (ब) तुर्की कला का
 (स) भारतीय व यूनानी कला का (द) भारतीय व फारसी कला का





ukxfj d

' kkl =

v/; k; & 1
n's k v'kj jkT;

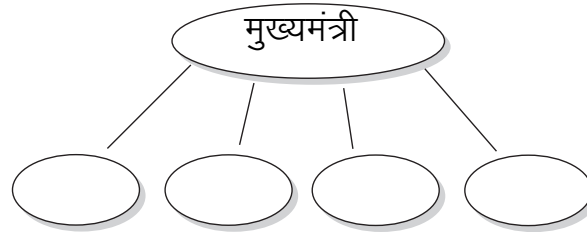
1. भारत के उत्तर पश्चिम का पड़ोसी देश है—
 (अ) नेपाल (ब) भूटान
 (स) पाकिस्तान (द) बंगलादेश
 2. भारत का वह पड़ोसी देश जिसकी सीमा रेखा भारत को छूती नहीं है—
 (अ) बंगलादेश (ब) पाकिस्तान
 (स) श्री लंका (द) भूटान
 3. छत्तीसगढ़ राज्य की सीमा से लगा राज्य नहीं है—
 (अ) मध्यप्रदेश (ब) उड़ीसा
 (स) कर्नाटक (द) आंध्रप्रदेश
 4. केन्द्रशासित प्रदेश में शासन होता है—
 (अ) राज्यपाल का (ब) केन्द्र सरकार का
 (स) राज्य सरकार का (द) राष्ट्रपति का
 5. इनमें से केन्द्र शासित प्रदेश नहीं है—
 (अ) दिल्ली (ब) पांडिचेरी
 (स) मुंबई (द) चंडीगढ़
 6. भारत में राज्य है—
 (अ) 28 (ब) 29
 (स) 26 (द) 25
 7. भारत में पश्चिम बंगाल है—
 (अ) भारत का पड़ोसी देश (ब) भारत का राज्य
 (स) खाड़ी प्रदेश (द) केन्द्र शासित प्रदेश
 - 8- केन्द्र और राज्य में क्या अंतर है?
 9. भारत के पड़ोसी देशों के नाम लिखो?
 10. भारत के विभिन्न राज्यों में क्या-क्या सामनतायें एवं क्या-क्या विभिन्नतायें होती हैं?
- प्रदत्त कार्य—**
- छत्तीसगढ़ से दिल्ली जाने वाली रेलगाड़ियां कौन-कौन सी हैं नाम लिखकर उनके स्टेशनों के नाम लिखो?
 - दी गई तालिका में भारत के विभिन्न राज्यों के नाम एवं उनकी राजधानियों के नाम लिखो तथा उस राज्य की किसी खास विशेषता को लिखो?

राज्य	राजधानी	विशेषता
कश्मीर	श्रीनगर	पर्यटन स्थल है

v/; k; & 2 jkT; dh | jdkj

1. छत्तीसगढ़ राज्य में विधानसभा क्षेत्र है—
 (अ) 70 (ब) 80
 (स) 90 (द) 95
2. चुनाव लड़ने वाले को कहते हैं—
 (अ) उम्मीदवार (ब) मंत्री
 (स) विधायक (द) सांसद
3. छत्तीसगढ़ विधानसभा में 90 क्षेत्र है सरकार बनाने के लिए कितने विधायकों की जरूरत होगी?
 (अ) 46 से अधिक (ब) 46 से कम
 (स) 90 से अधिक (द) 33 से कम
4. वोट देने का अधिकार है—
 (अ) 18 वर्ष से अधिक का नागरिक
 (ब) 18 वर्ष से कम का नागरिक
 (स) विदेशी नागरिक
 (द) मतदाता सूची में शामिल नहीं 18 वर्ष से अधिक का नागरिक
5. छत्तीसगढ़ राज्य की मान्यता प्राप्त पार्टी नहीं है—
 (अ) भारतीय जनता पार्टी (ब) कांग्रेस पार्टी
 (स) बहुजन समाजवादी पार्टी (द) लाल पार्टी
6. विकास दुर्ग से अपने कालेज के समय के दोस्त वैभव के शहर रायपुर आया, रायपुर में उस दिन राज्य का चुनाव था चुनाव में वैभव ने वोट डाला किन्तु विकास नहीं डाल सका क्योंकि—
 (अ) उसकी आयु 18 साल से अधिक थी
 (ब) उसे मालूम नहीं था
 (स) उसका नाम रायपुर की मतदाता सूची में नहीं था
 (द) वह वोट देना नहीं चाहता था
7. राज्य में राज्यपाल की नियुक्ति होती है—
 (अ) राज्य सरकार द्वारा (ब) केन्द्र सरकार द्वारा
 (स) मुख्यमंत्री द्वारा (द) उच्च न्यायालय द्वारा
8. चुनाव का सही क्रम है—
 (अ) चुनाव प्रचार, नामांकन, मतदान, चुनाव परिणाम
 (ब) नामांकन, चुनाव प्रचार, मतदान, चुनाव परिणाम
 (स) मतदान, चुनाव प्रचार, नामांकन, चुनाव परिणाम
 (द) नामांकन, मतदान, चुनाव प्रचार, चुनाव परिणाम
9. उम्मीदवार एवं मतदाता में क्या अंतर है दोनों के लिए आवश्यक शर्तें क्या-क्या हैं?
10. आप अपने विधानसभा क्षेत्र के विधायक तथा उनकी पार्टी का नाम लिखो?

11. छत्तीसगढ़ का मुख्य मंत्री कौन तथा किस दल से हैं?
12. यदि हम अपना वोट सही व्यक्ति को नहीं देते है तो क्या होगा?
13. वोट डालने के बाद यह कैसे तय होता है कि उस क्षेत्र के विधान सभा का सदस्य कौन है?
14. दिए गए रिक्त स्थानों में मंत्रियों के विभागों के नाम लिखो-



15. 90 विधान सभा वाले राज्य के प्रमुख पार्टियों के परिणाम निम्नानुसार है-

पार्टी	सीट
एक्शन पार्टी	35
समझौता पार्टी	24
आंदोलन पार्टी	11
राष्ट्रीय पार्टी	10
विकासपार्टी	7
अन्य पार्टी	3

तालिका देखकर बताओ कि -

- सरकार बनाने के लिए कितने सदस्यों की आवश्यकता होगी? क्या उपरोक्त पार्टी में किसी दल को बहुमत प्राप्त है?
 - उपरोक्त पार्टी में कौन सी पार्टी सरकार बनाने हेतु दावा कर सकती है? तथा किस पार्टी की मदद से सरकार बना सकती है?
 - यदि एक्शन पार्टी सरकार नहीं बनाती है तो कौन सी पार्टी सरकार बनाने का दावा कर सकती है?
 - जब एक से अधिक पार्टी द्वारा सरकार बनाई जाती है तो उसे क्या कहते है?
16. वर्तमान में केन्द्र व राज्य में किस तरह की सरकार है,
 17. हम विधायकों को कैसे चुनते है?

प्रदत्त कार्य-

- चुनाव के समय कुछ दलों के लोग अपने पक्ष में वोट डालने हेतु विभिन्न वस्तुयें साड़ी, कंबल आदि बांटते है क्या यह उचित है? यदि नही तो क्यों?
- छत्तीगढ़ राज्य में कौन-कौन सी राजनैतिक पाटियां है, सूची बनाकर उनके चुनाव चिन्हों को लिखो ?

v/; k; & 3 jkT; I jdkj Hkkx&2

1. सरकार के कार्य है—
 - (अ) कानून बनाना
 - (ब) कानून लागू करना
 - (स) न्याय दिलाना
 - (द) उपरोक्त सभी

2. तैयार कानून प्रकाशित किया जाता है—
 - (अ) हितवाद में
 - (ब) राजपत्र में
 - (स) शोध पत्र में
 - (द) दैनिक समाचार पत्र में

3. राज्य में कानून बनाने के बाद उसमें हस्ताक्षर होते हैं—
 - (अ) मुख्यमंत्री के
 - (ब) वित्तमंत्री के
 - (स) राज्यपाल के
 - (द) विधि मंत्री के

4. कानून बनाने का कार्य करती है—
 - (अ) विधायिका
 - (ब) न्यायपालिका
 - (स) नगरपालिका
 - (द) कार्यपालिका



v/; k; & 4
gekjh U; k; 0; oLFkk

1. दीवानी मुकदमे के अंतर्गत मामले दर्ज किए जाते हैं—
 (अ) मारपीट संबंधी (ब) हत्या संबंधी
 (स) जमीन जायदाद संबंधी (द) चोरी संबंधी
2. एफ.आई.आर के अंतर्गत—
 (अ) किसी घटना की सूचना पुलिस को देनी होती है
 (ब) किसी घटना की सूचना थाने में लिखित रूप में दर्ज करानी होती है
 (स) घटना से संबंधित व्यक्ति को पुलिस थाने में ले जाया जाता है।
 (द) घटना से संबंधित व्यक्ति से मारपीट की जाती है
3. फौजदारी मामले के अंतर्गत मामले दर्ज किए जाते हैं—
 (अ) मारपीट संबंधी (ब) हत्या संबंधी
 (स) चोरी रिश्वत संबंधी (द) उपरोक्त सभी
4. पुलिस अपराध करने पर अपराधी को क्यों गिरफ्तार करती है—
 (अ) सजा देने के लिए (ब) थाने में बंद करने के लिए
 (स) पूछताछ करने के लिए (द) झगड़ा बंद करने के लिए
5. गिरफ्तारी के बाद किसी व्यक्ति को न्यायालय में पेश किया जाता है—
 (अ) 24 घंटे के भीतर (ब) एक सप्ताह में
 (स) एक माह में (द) कभी भी
6. छत्तीसगढ़ का उच्च न्यायालय है—
 (अ) रायपुर (ब) बिलासपुर
 (स) दुर्ग (द) भोपाल
7. न्याय के लिए अपील करने का सही क्रम है—
 (अ) जिला न्यायालय, उच्च न्यायालय, उच्चतम न्यायालय, राष्ट्रपति
 (ब) राष्ट्रपति जिला न्यायालय, उच्च न्यायालय, उच्चतम न्यायालय
 (स) उच्च न्यायालय उच्चतम न्यायालय राष्ट्रपति जिला न्यायालय
 (द) उच्चतम न्यायालय जिला न्यायालय, उच्च न्यायालय, राष्ट्रपति
8. देश का सबसे बड़ा न्यायालय है—
 (अ) उच्च न्यायालय (ब) उच्चतम न्यायालय
 (स) जिला न्यायालय (द) पंचायत
9. देश का सर्वोच्च न्यायालय कहाँ स्थित है—
 (अ) बिलासपुर (ब) जबलपुर
 (स) भोपाल (द) नई दिल्ली
10. दीवानी और फौजदारी अपराध में क्या अंतर है उदाहरण सहित समझाओ?
11. यदि थानेदार रिपोर्ट दर्ज न करे तो रिपोर्ट दर्ज करने वाले को क्या करना चाहिए?
12. जब कोई व्यक्ति तहसील कोर्ट के फैसले से असंतुष्ट हो तो वह अपनी अपील कहाँ कर सकता है?

v/; k; & 5
m | ksx , d i fjp;

1. किसी भी उद्योग के लिए आवश्यक है—
 (अ) कच्चा माल (ब) परिवहन
 (स) बाजार (द) उपरोक्त सभी
2. मिट्टी के बर्तन बनाने का काम कहलाता है—
 (अ) दस्तकारी का काम (ब) ठेकेदारी का काम
 (स) छोटे कारखाने का काम (द) बड़े कारखाने का काम
3. मिट्टी के खिलौने बनाए जाते हैं—
 (अ) काली मिट्टी से (ब) पीली मिट्टी से
 (स) लाल मिट्टी से (द) कांप मिट्टी से
4. मिट्टी के सामान बनाने के लिए किस प्रकार की मिट्टी की आवश्यकता होती है? यह मिट्टी कैसे तैयार की जाती है?
5. वर्तमान में मिट्टी से विभिन्न प्रकार के चीजें तैयार करने में कुंभकार को क्या-क्या कठिनाइयां उत्पन्न हो रही हैं?
6. मिट्टी के अतिरिक्त और किन-किन चीजों से खिलौने तैयार किए जाते हैं?

निम्नांकित उद्योगों के सामने उनके लिए आवश्यक कच्चे माल का नाम लिखो—

- शक्कर उद्योग
- कपड़ा उद्योग
- कोसा उद्योग
- लोहा उद्योग

प्रदत्त कार्य—

- उन त्यौहारों की सूची बनाओ जिनमें मिट्टी से बनी वस्तुओं की आवश्यकता होती है?
- मिट्टी से कोई भी एक खिलौना बनाओ एवं इस खिलौने को बनाने के लिए आपने क्या-क्या किया उसके बारे में लिखो?



v/; k; & 6
dkl k m | ksx

1. कोसा उद्योग के लिए कच्चा माल है—

(अ) रेशम	(ब) कपास
(स) नायलोन	(द) पटसन
2. मुख्य रूप से रेशम की कीड़े पाले जाते हैं—

(अ) साल वृक्ष पर	(ब) सागौन वृक्ष पर
(स) नीम के वृक्ष पर	(द) शहतूत के वृक्ष पर
3. कोसा कपड़ा बनाने का सही क्रम है—

(अ) कोसा उबालना, कोसा फल से धागा निकालना, ताना बना बुनना
(ब) ताना बना बुनना, कोसा उबालना कोसा फल से धागा निकालना
(स) कोसा फल से धागा निकालना, कोसा उबालना, ताना बना बुनना
4. छत्तीसगढ़ में कोसा उद्योग कहां-कहां पाया जाता है?
5. कोसे से कपड़ा कैसे तैयार किया जाता है विस्तार से लिखो?
6. कोसा उद्योग में क्या-क्या समस्याएँ हैं



v/; k; & 7 Nk/sdkj [kkukaeadke

1. धान का कटोरा कहलाता है—
 (अ) केरल (ब) उड़ीसा
 (स) मध्यप्रदेश (द) छत्तीसगढ़
2. धान से चावल निकाला जाता है—
 (अ) मूसल एवं ढेकी (ब) हालर मशीन
 (स) चावल मिल (द) उपरोक्त सभी
3. सरकार समितियों में धान खरीदा जाता है—
 (अ) समर्थन मूल्य पर (ब) अधिक कीमत पर
 (स) कम कीमत पर (द) लागत मूल्य पर
4. सरकारी समितियों का धान जमा होता है—
 (अ) भारतीय खाद्य निगम में (ब) मिल मालिक के पास
 (स) बड़े साहूकारों के पास (द) किराना दुकान में
5. धान से चावल निकालने का सही क्रम है—
 (अ) पॉलिश करना, भूसा अलग करना, चावल निकालना, धान की सफाई करना
 (ब) धान की सफाई करना, पॉलिश करना, भूसा अलग करना, चावल निकालना
 (स) भूसा अलग करना, पॉलिश करना, चावल निकालना, धान की सफाई करना
 (द) धान की सफाई करना, चावल निकालना, भूसा को अलग करना, पॉलिश करना
6. बरसात के दिनों में चावल की मिलों में काम बंद रहता है क्यों?
7. मशीन द्वारा धान से चावल निकालने की प्रक्रिया का वर्णन करो,
8. उसना चावल एवं साधारण चावल में क्या अंतर है?
9. किसी भी उद्योग के लिए परिवहन का होना आवश्यक है क्यों?
10. धान से निकले विभिन्न पदार्थों का क्या-क्या उपयोग है?
11. चावल से निकले कोढ़े का क्या उपयोग किया जाता है?
12. किसी भी उद्योग के लिए किन-किन चीजों का होना आवश्यक है?

प्रदत्त कार्य—

- छत्तीसगढ़ में राइस मिलें कहाँ हैं, पता कर सूची बनाओ?



v/; k; & 8
cM&dkj [kkuk&eadke


1. इनमें कौन सा उद्योग बड़े उद्योग के अंतर्गत आता है—
 (अ) मिट्टी उद्योग (ब) बीड़ी उद्योग
 (स) चावल उद्योग (द) सीमेंट उद्योग
2. सीमेंट उद्योग के लिए आवश्यक है—
 (अ) चूना पत्थर (ब) लोहा
 (स) कपास (द) कांप मिट्टी
3. क्रेन मशीन द्वारा किया जाता है—
 (अ) बड़े-बड़े सामान को उठाया जाता है (ब) पत्थरों को तोड़ा जाता है
 (स) पत्थरों को बारीक किया जाता है (द) मशीने सुधारी जाती है।
4. सीमेंट कारखाने में बड़े पत्थरों को तोड़ा जाता है—
 (अ) थ्रेशर द्वारा (ब) क्रशर हापर द्वारा
 (स) ग्रास हापर द्वारा (द) सेपरेटर द्वारा
5. मजदूरों के हित में काम करने वाला संगठन है—
 (अ) मजदूर संघ (ब) कर्मचारी संघ
 (स) व्यापारी संघ (द) शिक्षाकर्मी संघ
6. बड़े उद्योगों की स्थापना के लिए किन-किन बातों का होना आवश्यक है?
7. सीमेंट उद्योग कच्चे माल के पास ही क्यों लगाया जाता है?
8. सीमेंट उद्योग में कार्य करने वाले मजदूरों के स्वास्थ्य पर क्या प्रभाव पड़ता है?
9. छत्तीसगढ़ में सीमेंट कारखाने कहाँ-कहाँ स्थापित किए गए?




v/; k; & 9 I kekl; pruk

1. मानव अधिकार दिवस मनाया जाता है—
 (अ) 5 दिसम्बर (ब) 10 दिसम्बर
 (स) 19 नवम्बर (द) 2 अक्टूबर
2. छत्तीसगढ़ में मानव अधिकार आयोग स्थित है—
 (अ) बिलासपुर में (ब) सरगुजा में
 (स) रायपुर में (द) महासमुंद में
3. कानून के अनुसार लड़के, लड़कियों की विवाह योग्य आयु है—
 (अ) लड़के लड़कियों दोनों की आयु 18 वर्ष
 (ब) लड़के की आयु 18 वर्ष लड़की की आयु 21 वर्ष
 (स) लड़के की आयु 21 वर्ष एव लड़की की आयु 18 वर्ष
 (द) लड़के की आयु 25 वर्ष लड़की की आयु 18 वर्ष
4. मानव अधिकारों से आप क्या समझते हैं? इसकी क्या आवश्यकता पड़ी?
5. बाल विवाह से क्या-क्या नुकसान है?





Hkwxksy

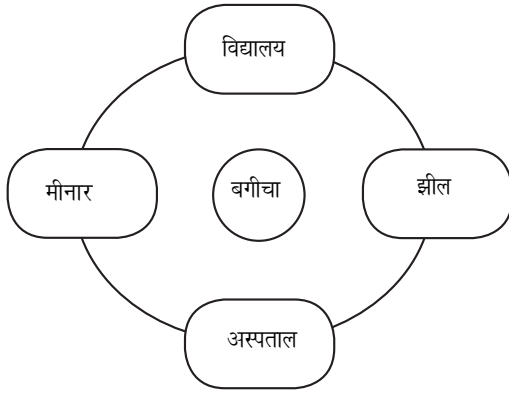


v/; k; & 1

'kkyk dk ekufp= cuk, a

1. नक्शे में उत्तर दिशा होती है।
 (अ) दाँई ओर (ब) बाँई ओर
 (स) ऊपर की ओर (द) नीचे की ओर
2. राखी पश्चिम दिशा की ओर मुँह करके खड़ी है, उसके पीछे की ओर दिशा होगी—
 (अ) पूर्व (ब) पश्चिम
 (स) उत्तर (द) दक्षिण
3. कागज में नक्शा बनाते समय किसी जगह को—
 (अ) बड़ा करके दिखाते हैं (ब) छोटा करके दिखाते हैं
 (स) जैसी रहता है वैसा ही बनाते हैं (द) जगह को नहीं दिखाते
4. नक्शे में महत्वपूर्ण नहीं होता—
 (अ) पैमाना (ब) संकेत
 (स) दिशा (द) नक्शा बनाने वाले का नाम
5. नक्शे में पैमाना लिया जाता है—
 (अ) दिशा ज्ञात करने के लिए (ब) ऊँचाई ज्ञात करने के लिए
 (स) दूरी ज्ञात करने के लिए (द) स्थिति ज्ञात करने के लिए
6. मानचित्र समझने के लिए आवश्यक होता है—
 (अ) दिशा (ब) पैमाना
 (स) संकेत (द) उपरोक्त सभी
7. नजरी नक्शा कहते हैं—
 (अ) मानचित्र को (ब) देखकर अंदाज से बनाए गए चित्र को
 (स) फोटो द्वारा खींचे गए चित्र को (द) कोई भी चित्र को
8. पैमाना कहते हैं—
 (अ) मानचित्र की दूरी को (ब) कागज की दूरी को
 (स) जमीन की दूरी को (द) नक्शे पर दूरी और जमीन की वास्तविक दूरी के अनुपात को
9. दिए गए निर्देशानुसार चित्र बनाओ।
 रमा का घर बीच में है। घर के पूर्व दिशा में हैण्डपम्प है। घर के पश्चिम की ओर तालाब और राजू का घर है। दक्षिण में स्कूल है और उत्तर दिशा में अस्पताल है।
10. रायपुर से बेमेतरा की दूरी 70 किलोमीटर है यदि पैमाना 1 से.मी. बराबर 10 किलोमीटर है तो कागज पर मानचित्र की दूरी होगी—
 (अ) 7 सेन्टीमीटर (ब) 17 सेन्टीमीटर
 (स) 70 सेन्टीमीटर (द) 700 सेन्टीमीटर

11- रेखाचित्र देखकर उत्तर दो-



उत्तर

1. रेखाचित्र के अनुसार सूर्य किस ओर डूबेगा?
2. अस्पताल किस दिशा में है?
3. मीनार किस दिशा में है?
4. पूर्व दिशा में क्या है?

12. रवि ने अपनी कक्षा की लंबाई चौड़ाई अपने कदमों से नापी। कक्षा की लंबाई 15 कदम और चौड़ाई 10 कदम है तो कोई पैमाना लेकर रवि की कक्षा का नक्शा बनाओ?

13. पूरा करो-

संकेत

स्थान

A

घर

B

अस्पताल

C

पुल

D

गतिअवरोधक

E

अपनी इच्छानुसार कोई भी संकेत

14. नक्शा बनाने के क्या-क्या लाभ हैं?

15. नक्शा का उपयोग किन-किन कार्यों में होता है?

16. नक्शा बनाते समय पैमाना लेने की आवश्यकता क्यों होती है?

17. पुराने समय में नक्शा नहीं होता था, तो क्या-क्या परेशानी होती रही होगी?

18. नक्शा बनाते समय पैमाने का उपयोग न किया जाए तो कौन-कौन सी कठिनाइयाँ आयेगी?

प्रदत्त कार्य-

19. अपने मोहल्ले के घरों को देखकर नजरी नक्शा बनाओ।

20. अपने घर का नक्शा बनाओ।

शहर का नाम

अम्बिकापुर और जशपुर

कांकेर और जगदलपुर

रायपुर बिलासपुर और रायगढ़

समुद्र सतह से उंचाई

600 मीटर से अधिक

300 से 600 मीटर तक

300 मीटर से

v/; k; & 2 o"kkzvks unh

1. वाष्पीकरण कहते हैं—
 (अ) धूप निकलने को (ब) पानी के बहाव को
 (स) जल का वाष्प में बदलने को (द) बादल आने को
2. वाष्पीकरण की प्रक्रिया होती है—
 (अ) रात में अधिक (ब) ठंड में अधिक
 (स) धूप में अधिक (द) छाया में अधिक
3. वाष्पीकरण की प्रक्रिया किस भाग में अधिक मात्रा में होती है—
 (अ) स्थल भाग में (ब) जल भाग में
 (स) पेड़ पौधों में (द) जीव जन्तुओं में
4. वर्षा के दिनों में बादल काले दिखाई देते हैं—
 (अ) धूल कणों के कारण (ब) प्रदूषण के कारण
 (स) जल वाष्प के कारण (द) अंधेरे के कारण
5. वृष्टि छाया प्रदेश कहते हैं—
 (अ) अधिक वर्षा वाले क्षेत्र को (ब) कम वर्षा वाले क्षेत्र को
 (स) स्थल क्षेत्र को
 (द) किसी पहाड़ी की ओट के कारण वर्षा न होने वाले क्षेत्र को
6. मानसूनी हवाओं की बढ़ने की दिशा होती है—
 (अ) उत्तर पूर्व की ओर (ब) दक्षिणी पश्चिमी ओर
 (स) उत्तर दक्षिण की ओर (द) दक्षिण से उत्तर की ओर
7. जल प्रपात में जल का बहाव होता है—
 (अ) ऊपर से नीचे की ओर (ब) नीचे से ऊपर की ओर
 (स) दक्षिण से उत्तर की ओर (द) उत्तर से दक्षिण की ओर
8. “V” आकार की घाटी का निर्माण हो जाता है—
 (अ) भूकम्प के कारण (ब) ज्वालामुखी के कारण
 (स) ढाल के कारण (द) नदी के द्वारा किनारों के कटाव के कारण
9. विशंकर जलाशय किस नदी में निर्मित है—
 (अ) शिवनाथ (ब) अरपा
 (स) हसदो (द) महानदी
10. हीराकुण्ड बांध किस राज्य में स्थित है—
 (अ) उड़ीसा (ब) आंध्रप्रदेश
 (स) कर्नाटक (द) छत्तीसगढ़
11. महानदी की सहायक नदियां हैं—
 (अ) गंगा एवं यमुना (ब) शिवनाथ एवं जोंक
 (स) नर्मदा एवं पैरी (द) कृष्णा एवं कावेरी

12. डेल्टा का निर्माण होता है—

- (अ) नदियों के उद्गम स्थल पर (ब) पहाड़ी भाग पर
(स) मैदानी भाग पर (द) नदी के समुद्र में मिलन स्थल पर

13. हीराकुण्ड बांध से लाभ है—

- (अ) मत्स्य पालन का (ब) बिजली उत्पादन का
(स) सिंचाई का (द) उपरोक्त सभी का

14. वाष्पीकरण की प्रक्रिया तीव्र कब होती है?
15. बादल कैसे बनते हैं?
16. वृष्टि छाया का प्रदेश कैसे बनते हैं?
17. मानसूनी हवाओं की कितनी शाखाएँ होती हैं? उनकी विशेषताएँ भी लिखिए?
18. छत्तीसगढ़ में किन हवाओं से वर्षा होती है?
19. छत्तीसगढ़ के दो प्रमुख सिंचाई परियोजनाओं के बारे में लिखिए?
20. महानदी की सहायक नदियों के नाम लिखिए?
21. जल का अपव्यय रोकने के लिए आप क्या-क्या उपाय कर सकते हैं?

प्रदत्त कार्य—

- जल प्रपात का नामांकित चित्र बनाइए?
- “V” आकार की घाटी का चित्र बनाइए?
- छत्तीसगढ़ के किन-किन जिलों में सबसे अधिक एवं सबसे कम वर्षा होती है, दिए गए तालिका में लिखिए—

जिले का नाम	अधिक वर्षा	कम वर्षा

- डेल्टा का चित्र बनाकर नाम लिखिए?
- अपने राज्य की प्रमुख सिंचाई परियोजनाओं के चित्र संकलित करें?
- जल के अपव्यय रोकने से संबंधित नारे, चित्र, कार्टून का करें?
- छत्तीसगढ़ के किसी एक बांध परियोजना की जानकारी अधोलिखित बिन्दुओं में दें—
नदी का नाम
उद्गम का स्थान/क्षेत्र एवं जिला
प्रवाहित क्षेत्र एवं जिले
बांध पर आधारित व्यवसाय

v/; k; & 3 Hkwt y Hk. Mkj

1. आग्नेय चट्टान का उदाहरण है—
 (अ) संगमरमर (ब) स्लेट पत्थर
 (स) बालू (द) ग्रेनाइट
2. ताप व दाब के कारण स्वरूप बदलने वाले चट्टान को कहते हैं—
 (अ) कार्यांतरित (ब) अवसादी
 (स) आग्नेय (द) बलुआ या प्रवेश्य
3. भू जल की दृष्टि से छत्तीसगढ़ को कितने भागों में बांटा गया है—
 (अ) 2 (ब) 3
 (स) 4 (द) 5
4. बस्तर के पठार की औसत ऊँचाई है—
 (अ) 200 मीटर (ब) 300 मीटर
 (स) 400 मीटर (द) 100 मीटर
5. नलकूपों के अधिक उपयोग से जल का स्तर—
 (अ) बढ़ रहा है (ब) घट रहा है
 (स) स्थिर है (द) अपरिवर्तनीय है
6. ग्रेनाइट चट्टानों को सोखने की क्षमता—
 (अ) अधिक होती है (ब) कम होती है
 (स) अधिक एवं कम दोनों होती है (द) स्थिर होती है
7. पृथ्वी में पाए जाने वाले चट्टानों के प्रकारों के नाम लिखो?
8. भू जल स्तर किसे कहते हैं?
9. बरसात के दिनों में भूमि का जलस्तर क्यों बढ़ जाता है?
10. हम अपने आसपास के जल को सुरक्षित रखने के लिए क्या-क्या प्रयास कर सकते हैं?
11. पेड़ पौधे भू जल स्तर को बढ़ाने में सहायता प्रदान करते हैं, कैसे?

प्रदत्त कार्य—

छत्तीसगढ़ का नक्शा लेकर उसे भूजल की दृष्टि से वितरित भागों के अनुसार विभाजित कर उसमें रंग भरे।



v/; k; & 4 fnu vkj jkr

1. पृथ्वी को प्रकाश मिलता है—
 (अ) स्वयं से (ब) सूर्य से
 (स) चन्द्रमा से (द) ग्रहों से
2. पृथ्वी अपने स्थान कितने समय में एक बार घूम जाती है—
 (अ) 21 घंटे (ब) 22 घंटे
 (स) 23 घंटे (द) 24 घंटे
3. दोपहर के समय पृथ्वी पर सूर्य की किरणें—
 (अ) तिरछी पड़ती हैं (ब) सीधी पड़ती हैं
 (स) दिखाई नहीं देती (द) धीमी पड़ती हैं
4. पृथ्वी पर कटिबंधों की संख्या है—
 (अ) 3 (ब) 4
 (स) 5 (द) 6
5. उष्ण कटिबंध कहते हैं जहां वर्ष भर—
 (अ) जहाँ अधिक गर्मी तथा अधिक वर्षा हो
 (ब) जहाँ अधिक ठंड व हल्की गर्मी हो
 (स) जहाँ अधिक ठंड हो
 (द) मौसम का पता न हो
6. शीतोष्ण कटिबंध कहते हैं जहाँ वर्ष भर—
 (अ) अधिक वर्षा हो (ब) जहाँ साधारण ठंड व हल्की गर्मी हो
 (स) जहाँ अधिक ठंड हो (द) मौसम का पता न हो
7. पृथ्वी व आकाश के मिलन स्थल को कहते हैं—
 (अ) बादल (ब) अंतरिक्ष
 (स) आसमान (द) क्षितिज
8. जब हम बस या ट्रेन में सफर कर रहे होते हैं तब पेड़-पौधे पीछे की ओर भागते क्यों दिखाई देते हैं?
9. क्षितिज किसे कहते हैं?
10. टुण्ड्रा प्रदेश की क्या विशेषताएं होती हैं?
11. पृथ्वी के कटिबंधों के नाम लिखकर उनकी विशेषताएं लिखें?
12. पृथ्वी के अलग अलग हिस्सों में मौसम में अंतर क्यों होता है?
13. पृथ्वी यदि घूमना बंद कर दे तो क्या होगा, सोचकर उत्तर लिखें?

प्रदत्त कार्य—

1. पृथ्वी पर कटिबंधों का चित्र बनाकर उसमें रंग भरिए तथा उनके नाम भी लिखिए?
2. ग्लोब या नक्शे में देखकर निम्नांकित कटिबंधों में स्थित देशों के नाम लिखिए।

कटिबंध का नाम**उस कटिबंध में स्थित देश का नाम**

शीत कटिबंध

.....

शीतोष्ण कटिबंध

.....

उष्ण कटिबंध

.....



v/; k; & 5 i Foh dh xfr; kj

1. पृथ्वी द्वारा सूर्य का एक बार चक्कर लगाने को कहते हैं—
 (अ) धूर्णन गति (ब) परिक्रमण गति
 (स) दैनिक गति (द) इनमें से कोई नहीं
2. पृथ्वी अपने अक्ष पर झुकी हुई है—
 (अ) 23.5 अंश (ब) 45 अंश
 (स) 90 अंश (द) 180 अंश
3. उत्तरी गोलार्ध पर सबसे छोटा दिन व सबसे लम्बी रातें होती है—
 (अ) 22 दिसम्बर (ब) 21 जून
 (स) 23 सितम्बर (द) 21 मार्च
4. जब उत्तरी गोलार्ध में खूब गर्मी पड़ती है तब—
 (अ) दक्षिणी गोलार्ध में गर्मी पड़ती है
 (ब) दक्षिणी गोलार्ध में सूर्यकिरणे सीधी पड़ती हैं
 (स) उत्तरी गोलार्ध में सूर्य की किरणें सीधी पड़ती हैं
 (द) उत्तरी गोलार्ध में सूर्य की किरणें तिरछी पड़ती हैं
5. जब हमारे देश में गर्मी का दिन होता है तब सूर्य किस गोलार्ध में होता है—
 (अ) उत्तरी गोलार्ध (ब) दक्षिणी गोलार्ध
 (स) मध्य (द) किसी में नहीं
6. पृथ्वी की दैनिक गति एवं वार्षिक गति में क्या अंतर है?
7. जब पृथ्वी के उत्तरी गोलार्ध में ग्रीष्म ऋतु होता है तब दक्षिणी गोलार्ध में शीत ऋतु क्यों होता है?
8. भूमध्य रेखा से उत्तरी एवं दक्षिणी ध्रुवों की ओर 23.5 अंश पर कौन सी रेखा पाई जाती है, नाम लिखिए?
9. दक्षिणी गोलार्ध पर सबसे बड़ा दिन एवं सबसे छोटी रातें कब पाई जाती हैं, लिखें?
10. यदि पृथ्वी अपने अक्ष पर न घूमती तो क्या होगा?

प्रदत्त कार्य—

ग्लोब का रेखाचित्र खींच कर उसमें कर्क, मकर एवं विषुवत रेखाओं तथा ध्रुवों को दर्शाइए?

1. पृथ्वी द्वारा सूर्य की परिक्रमा का चित्र बनाइए।



v /; k; & 6 v Yhdk

1. अफ्रीका महाद्वीप एशिया महाद्वीप के किस दिशा में स्थित है—
 (अ) उत्तर (ब) पूर्व
 (स) पश्चिम (द) दक्षिण
2. अफ्रीका महाद्वीप की स्थिति के संदर्भ में निम्न में से कौन सा कथन सही है—
 (अ) अफ्रीका महाद्वीप यूरोप के दक्षिण में स्थित है
 (ब) अफ्रीका महाद्वीप एशिया के उत्तर में है
 (स) अफ्रीका महाद्वीप के दक्षिण में एशिया एवं यूरोप महाद्वीप है
 (द) अंटार्कटिका के दक्षिण में अफ्रीका महाद्वीप है
3. अफ्रीका महाद्वीप से जाने वाली रेखाएँ हैं—
 (अ) कर्क रेखा (ब) मकर रेखा
 (स) भूमध्य रेखा (द) उपरोक्त सभी रेखाएँ
4. निम्न में से कौन से महाद्वीप का विस्तार उत्तरी एवं दक्षिणी दोनों गोलार्द्ध में है—
 (अ) एशिया (ब) उत्तर अमेरिका
 (स) अफ्रीका (द) यूरोप
5. अफ्रीका महाद्वीप से संदर्भ में कौन सा कथन असत्य है—
 (अ) अफ्रीका महाद्वीप में हजारों मील लंबे चौड़े रेगिस्तान एवं जंगल हैं।
 (ब) अफ्रीका महाद्वीप में सैकड़ों किलोमीटर घास के मैदान हैं
 (स) अफ्रीका में संसार की सबसे लंबी नदी बीती है।
 (द) अफ्रीका का उत्तरी भाग सदैव बर्फ से ढँका रहता है?
6. संसार का सबसे बड़ा मरुस्थल है—
 (अ) कालाहारी मरुस्थल (ब) सहारा मरुस्थल
 (स) थार का मरुस्थल (द) अरब का मरुस्थल
7. सहारा मरुस्थल से होकर बहने वाली नदी है—
 (अ) कांगो (ब) जंबेजी
 (स) नील (द) नाईजर
8. किलीमंजारो पर्वत स्थित है—
 (अ) सूडान (ब) लीबिया
 (स) अंगोला (द) तंजानिया
9. नील नदी किस सागर में जाकर मिलती है—
 (अ) भूमध्य सागर (ब) लाल सागर
 (स) काला सागर (द) पीला सागर
10. निम्न में कौन से ऊँची घास है जिसमें हाथी भी छिप जाते हैं—
 (अ) सवाना घास (ब) प्रेयरी घास
 (स) स्टेपी घास (द) कटीली घास

11. किस देश को नील नदी की देन कहते हैं?
12. अफ्रीका के भूमध्यरेखीय वन से प्रवाहित होने वाली मुख्य नदी का नाम बताइए?
13. सउदी अरब से अफ्रीका आने के लिए कौन सा सागर पार करना पड़ता है?
14. अफ्रीका महाद्वीप में संसार की किन दो खनिजों की सबसे बड़ी खदानें हैं?
15. अफ्रीका के उन दो बंदरगाहों का नाम बताइए जहाँ से यूरोप निवासी सोना हाथी दांत, और मसाला अपने देश ले जाते थे?
16. उस पुर्तगाली नाविक का नाम बताइए जो अफ्रीका का चक्कर लगाते हुए सबसे पहले भारत पहुंचा?
17. अफ्रीका में सन् 1915 में राष्ट्रपिता महात्मागांधी ने किस नीति के विरुद्ध सत्याग्रह आंदोलन चलाया था?
18. अफ्रीका के प्रथम अश्वेत राष्ट्रपति का नाम क्या था?
29. अफ्रीका महाद्वीप के चार झीलों के नाम बताइए?
20. रंग भेद नीति क्या है?
21. अफ्रीका महाद्वीप का मानचित्र देखकर 1 से 4 तक प्रदर्शित नदियों के नाम पहचान कर लिखिए।



v/; k; & 7
; j ks

1. यूरोप महाद्वीप एशिया महाद्वीप के किस ओर स्थित है—
 (अ) पश्चिम (ब) उत्तर
 (स) दक्षिण (द) पूर्व
2. यूरोप महाद्वीप को अफ्रीका महाद्वीप से अलग करने वाले सागर का नाम है—
 (अ) काला सागर (ब) कैस्पियन सागर
 (स) भूमध्य सागर (द) बाल्टिक सागर
3. जिब्राल्टर जल संधि है—
 (अ) स्पेन एवं अफ्रीकाके बीच (ब) यूरोप और एशिया के बीच
 (स) इटली एवं अफ्रीकाके बीच (द) यूनान एवं सउदी अरब के बीच
4. यूरोप के पश्चिम में कौन-सा महासागर है—
 (अ) प्रशांत महासागर (ब) अटलांटिक महासागर
 (स) हिन्द महासागर (द) आर्कटिक महासागर
5. यूरोप की सबसे लंबी नदी है—
 (अ) यूराल नदी (ब) नीपर नदी
 (स) राईन नदी (द) वोल्गा नदी
6. पछुआ पवनों के बहने की दिशा होती है—
 (अ) दक्षिण से उत्तर की ओर (ब) उत्तर से दक्षिण की ओर
 (स) पूर्व से पश्चिम की ओर (द) दक्षिण पश्चिम से उत्तर पूर्व की ओर
7. यूरोप महाद्वीप के संबंध में निम्न कथनों में कौन सा कथन सही नहीं है—
 (अ) यूरोप महाद्वीप का तट अत्यधिक कटा फटा है
 (ब) यूरोप महाद्वीप में उद्योगों का बहुत विकास हुआ है
 (स) उत्तरी यूरोप में भूमध्य सागरीय जलवायु पाई जाती है
 (द) यूरोप के अधिकांश भागों में भूमध्यरेखीय वन है
8. जल संधि किसे कहते हैं,
9. यूरोप एवं एशिया महाद्वीप के बीच कौन सा पर्वत एवं नदी विभाजक का कार्य करती है।
10. यूरोप के दक्षिण में स्थित दो सागरों के नाम बताइए?
11. यूरोप के तीन देशों के नाम बताइए जो तीन ओर से समुद्र से घिरे हैं
12. यूरोप का पश्चिमी तट उच्च अक्षांशों में स्थित होते हुए भी नदियों में बर्फ नहीं जमता क्यों?
13. पछुआ पवनें यूरोप की जलवायु को प्रभावित करता है इस कथन की पुष्टि करिए?
14. जलधारा किसे कहते हैं? जलधाराओं का यूरोप की जलवायु पर क्या प्रभाव पड़ता है? लिखिए
15. पश्चिमी यूरोप में कम ठंड पड़ती है जबकि पूर्वी यूरोप में कड़ाके की ठंड पड़ती है क्यों?
16. यूरोप में जलवायु संबंधी विभिन्नताएँ हैं इस कथन को स्पष्ट कीजिए?

सही संबंध जोड़िए—

(अ) आल्पस	जलधारा
(ब) गल्फस्ट्रीम	नदी
(स) राइन	पर्वत
(द) बाल्टिक	देश
(ड) नार्वे	सागर

यूरोप के मानचित्र में निम्नलिखित भौगोलिक तथ्यों को प्रदर्शित कीजिए—

1. तीन ओर समुद्र से घिरा हुआ कोई एक देश नाम सहित।
2. चारों ओर समुद्र से घिरा हुआ कोई एक देश का नाम सहित।
3. चारों ओर स्थलखंड से घिरा हुआ कोई एक सागर नाम सहित।
4. राइन नदी
5. आल्पस पर्वत
6. गल्फस्ट्रीम की जलधारा

प्रदत्त कार्य—

यूरोप महाद्वीप के कोई 10 देशों की सूची बनाकर उनकी राजधानी को नक्शे में दर्शाओ एवं मुद्रा का पता कर लिखें?

भूमध्य सागरीय जलवायु वाले प्रदेशों में मिलने वाले फलों क सूची बनाइये हमारे देश में इन फलों की खेती किन राज्यों में होती है पता कीजिए?



v/; k; & 8

Yka

1. फ्रांस की राजधानी है—
 (अ) पेरिस (ब) लंदन
 (स) वियना (द) लिस्बन
2. फ्रांस यूरोप के किस भाग में है—
 (अ) पूर्व (ब) पश्चिम
 (स) उत्तर (द) इनमें से कोई नहीं
3. पेरिस किस नदी के किनारे बसा है—
 (अ) सीन नदी (ब) राईन नदी
 (स) वोल्गा नदी (द) यूराल नदी
4. पेरिस में एक विशाल मीनार है इसका नाम है—
 (अ) कुतुब मीनार (ब) पीसा की मीनार
 (स) एफिल टावर (द) चार मीनार
5. फ्रांस के संबंध में निम्नलिखित में से कौन सा कथन असत्य है—
 (अ) फ्रांस पश्चिमी यूरोप का एक बड़ा देश है
 (ब) फ्रांस की सड़कें चौड़ी हैं
 (स) फ्रांस में आम और केले की खेती बड़े पैमाने पर होती है
 (द) फ्रांस में जाड़े का मौसम लंबा होता है
6. फ्रांस के पश्चिम की ओर कौन सी खाड़ी है—
 (अ) बिस्के की खाड़ी (ब) बंगाल की खाड़ी
 (स) मैक्सिको की खाड़ी (द) मन्नार की खाड़ी
7. फ्रांस में पतझड़ का मौसम होता है—
 (अ) जून जुलाई (ब) जनवरी फरवरी
 (स) सितम्बर अक्टूबर (द) मार्च-अप्रैल
8. फ्रांस में गर्मी का मौसम होता है—
 (अ) जून से अगस्त (ब) सितम्बर से नवम्बर
 (स) दिसम्बर से फरवरी (द) मार्च से मई तक
9. फ्रांस में शक्कर बनाया जाता है—
 (अ) गन्ने से (ब) चुकन्दर से
 (स) गाजर से (द) शलजम
10. फ्रांस में डबल रोटी बनाया जाता है—
 (अ) गेहूं एवं राई से (ब) धान एवं चना से
 (स) मक्का और जौ से (द) जई और मसूर से
11. फ्रांस पेट्रोल मंगाता है—
 (अ) अरब देश से (ब) इंग्लैण्ड से
 (स) जर्मनी से (द) भारत से

12. विश्व में ज्वारीय जल से बिजली बनाने का सबसे बड़ा बिजली घर स्थापित है—

- (अ) दक्षिणी फ्रांस के समुद्री तट पर (ब) उत्तरी फ्रांस के समुद्री तट पर
(स) पश्चिमी फ्रांस के समुद्री तट पर (द) पूर्वी फ्रांस में

13. एफिल टावर किस देश में है?

14. फ्रांस किन देशों से कोयला मंगाता है

15. फ्रांस में एफिल टावर किस खुशी में बनाया गया था?

16. फ्रांस के एक बड़े बंदरगाह का नाम बताइए जो भूमध्य सागर के तट पर स्थित है

17. फ्रांस में सर्दी के मौसम में जानवरों को बाड़ों में रखा जाता है क्यों?

18. फ्रांस में कृषि कार्य गर्मी के मौसम में किया जाता है, क्यों?

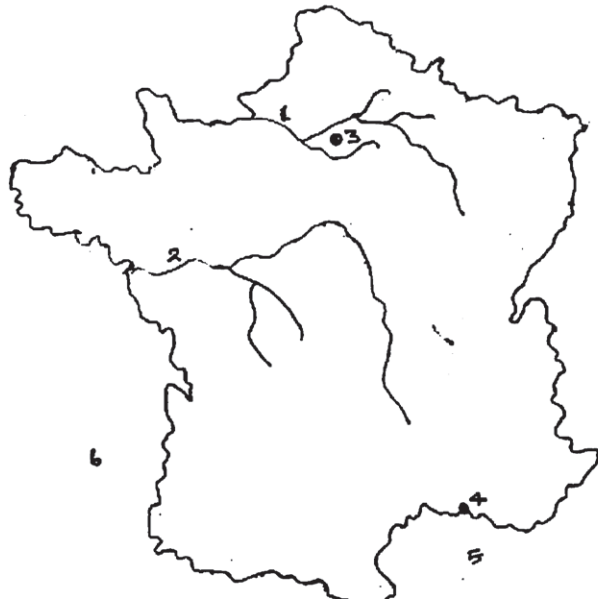
19. फ्रांस में बसंत ऋतु सुहावनी होती है इस कथन के समर्थन में चार तर्क दीजिए?

20. फ्रांस के ग्रीष्म ऋतु एवं शीत ऋतु की तुलना निम्नांकित बिंदुओं में कीजिए—

1. समय 2. मौसम 3. कृषि पर प्रभाव 4. अन्य विशेषताएं

21. पेरिस एवं उसके सीमावर्ती क्षेत्र में कोई खनिज नहीं मिलता फिर भी उद्योग स्थापित है क्यों?

22. फ्रांस के सीमाकार मानचित्र में निम्नलिखित तथ्यों को प्रदर्शित कीजिए—1. मोटर गाड़ी का एक केन्द्र, रोन नदी, मध्य का पठार, कोयला उत्पादक कोई एक क्षेत्र, पियरेनीज पर्वत, इंग्लिश चैनल।



उपरोक्त मानचित्र को ध्यान पूर्वक देखिए एवं 1 से 6 तक चिन्हांकित तथ्यों को सूची के अनुसार पहचान कर उनका नाम लिखिए—

- 1 नदी 2 नदी 3 बड़ा शहर 4 बंदरगाह 5 सागर 6 खाड़ी

निम्नांकित चित्र को ध्यान पूर्वक देखकर बताइए—



- यह चित्र किस टावर का है?
- यह टावर कौन से शहर में है
- इस टावर को कब बनाया गया?
- इस टावर को किस खुशी में बनाया गया था

प्रदत्त कार्य—

फ्रांस में उत्पन्न होने वाले कौन-कौन सा फल आपके देश में भी मिलता है उन फलों की सूची बनाइये और उनके तस्वीर को एकत्र कर अपने पोर्टफोलियो में लगाइए।






Hkwxksy
d {kk & 8

v/; k; & 1
ok; e. My

सही उत्तर पर ✓ का निशान लगाओ—

1. पृथ्वी के चारों ओर गैसों का विशाल घेरा कहलाता है—
 (अ) क्षोभ मण्डल (ब) बाह्य मण्डल
 (स) समताप मण्डल (द) वायुमण्डल
2. पृथ्वी के वायुमण्डल को कितने भागों में विभाजित किया गया है?
 (अ) छः (ब) पांच
 (स) चार (द) तीन
3. वायुमण्डल में नाइट्रोजन गैस की मात्रा है—
 (अ) 20 प्रतिशत (ब) 29 प्रतिशत
 (स) सबसे कम (द) 71 प्रतिशत
4. वायुमण्डल पृथ्वी के तापमान को क्या करता है—
 (अ) कम (ब) संतुलित
 (स) अधिक (द) विपरीत
5. आयन मण्डल उपयोगी है—
 (अ) रेडियो व टेलीविजन के प्रसारण में (ब) पराबैगनी किरणों को रोकने में
 (स) वर्षा कराने में (द) वाष्पीकरण करने में
6. पेड़ पौधों के बढ़ने में सहायक गैस है—
 (अ) आर्गन (ब) हाइड्रोजन
 (स) नाइट्रोजन (द) हीलियम
7. पवन चलने की दिशा प्रायः होती है—
 (अ) ऊपर से नीचे (ब) निम्न से उच्च दाब
 (स) क्षैतिज (द) उच्च से निम्न दाब
8. वायु प्रदूषण का कारण नहीं है—
 (अ) रसोइघर का धुंआ (ब) कारखाने की गैसें
 (स) जल (द) धूल कण
9. हवा में जलवाष्प की मात्रा अधिक होने से हवा हो जाती है—
 (अ) श्लुष्क (ब) बर्फीली
 (स) आर्द्र (द) शशीतल या ठंडी
10. वायुमण्डल में पाए जाने वाले धूल के कण सहायक होते हैं—
 (अ) कुहरा व बादल बनाने में (ब) तापमान बढ़ाने में
 (स) तापमान को कम करने में (द) तापमान को स्थिर रखने में
11. कृत्रिम उपग्रह वायुमण्डल के किस मण्डल में स्थापित किए जाते हैं—
 (अ) बाह्य मण्डल में (ब) ओजोन मण्डल में
 (स) समताप मण्डल में (द) आयन मण्डल में

12. ओजोन मण्डल हमारे लिए क्यों उपयोगी है?
13. पराबैंगनी किरणों से हमें क्या-क्या हानियाँ हो सकती हैं?
14. वायु प्रदूषण रोकने के लिए किए जा सकने वाले कोई दो उपाय लिखिए?
15. टेलीविजन व अन्य संचार के साधनों का उपयोग हम वायुमण्डल के किस मण्डल से करते हैं और क्यों?
16. वायुमण्डल के उपविभागों का नामांकित चित्र बनाइए?
17. नीचे दिए गए चित्र को देखकर इन प्रश्नों का उत्तर दीजिए-



- (अ) चित्र में वायु एवं पवन को पहचान कर अंकित कीजिए?
- (ब) उच्च वायु दाब एवं निम्न वायुदाब क्षेत्र को पहचान कर लिखिए?
18. समताप मण्डल में हवाई जहाज उड़ाना आसान क्यों हैं?
19. अल्ट्रावायलेट किरणे क्या है? इससे मानव को क्या नुकसान है?
20. ग्रीन हाउस प्रभाव से आप क्या समझते हैं?
21. ग्लोबल वार्मिंग से आप क्या समझते हैं?
22. वायुमण्डल में घटित होने वाली इन घटनाओं को पढ़कर यह लिखिए कि ये घटनाएं वायुमण्डल के किस उपविभाग में घटित हो रही है-

वायुमण्डल की घटनाएँ	वायुमण्डल के उपविभाग
समान तापमान	
बिजली का चमकना	
पराबैंगनी किरणों को सोखना	
बादलों का गरजना	
मौसमी परिवर्तन	
संचार उपग्रहों का प्रक्षेपण	
रेडियों तरंगों का वापस धरती की ओर लौटना	

प्रदत्त कार्य-

- वायु प्रदूषण को रोकने के लिए हमारे द्वारा किए जा सकने वाले उपायों की सूची बनाइए?
- वायु प्रदूषण से होने वाले नुकसान क्या-क्या हैं? नाम लिखिए?

पोर्टफोलियो-

- वायुप्रदूषण रोकने से संबंधित नारे, चित्र एवं पोस्टर बनाइए तथा उसे अपने पोर्टफोलियो में लगाइए?

v/; k; & 2 rki eku

सही उत्तर पर ✓ का निशान लगाओ—

1. सामान्यतः हिमांक बिन्दु का तापमान है—
 (अ) 0° सेन्टीग्रेड (ब) -1° सेन्टीग्रेड
 (स) 10° सेन्टीग्रेड (द) 12° सेन्टीग्रेड
2. पृथ्वी पर तापमान सभी जगह सदैव—
 (अ) बढ़ता रहता है (ब) बदलता रहता है
 (स) घटता रहता है (द) एक समान होता है
3. औसत दैनिक तापमान ज्ञात करने के लिए किया जाता है—
 (अ) दिन व रात के तापमान में 2 घटा देते हैं
 (ब) दिन व रात के तापमान को 2 से गुणा कर देते हैं
 (स) दिन व रात के अधिकतम और न्यूनतम तापमान को जोड़कर 2 से भाग देते हैं
 (द) न्यूनतम एवं अधिकतम तापमान को घटा देते हैं
4. तापमान के आधार पर विश्व को कितने भागों में बांटा गया है—
 (अ) तीन (ब) चार
 (स) दो (द) पाँच
5. शशीतोष्ण जलवायु की विशेषता है कि—
 (अ) पूरे वर्ष अधिक गर्मी पड़ती है
 (ब) पूरे वर्ष न अधिक ठंड पड़ती है और न अधिक गर्मी
 (स) वर्ष भर अत्यधिक ठंड पड़ती है
 (द) वर्ष भर कुछ महिने कम ठंड पड़ती है
6. मुम्बई में तापमान प्रायः एक समान पाया जाता है क्योंकि वह—
 (अ) समुद्र के किनारे स्थित है (ब) वहां साल भर वर्षा होती है
 (स) पहाड़ों पर स्थित है (द) मैदानी भाग है।
7. ग्रीष्म ऋतु में भारत का औसत तापमान कितना रहता है?
8. आपको कौन सा मौसम अच्छा लगता है और क्यों?
9. मौसम परिवर्तन से प्रकृति और मानव जीवन पर क्या प्रभाव पड़ता है?
10. यदि पृथ्वी अपनी अक्ष पर झुकी हुई न होती तो मौसम पर क्या प्रभाव पड़ता?
11. हमें दिन में सबसे अधिक गर्मी कब लगती है?
12. सुबह एवं शाम का तापमान दोपहर के तापमान से कम क्यों होता है?
13. ठंड में हम स्वेटर क्यों पहनते हैं?
14. लोग गर्मियों के दिनों में पहाड़ों पर घूमने क्यों जाते हैं
15. गर्मी के दिनों में रायपुर की अपेक्षा मैनापाट अधिक ठंडा होता है, क्यों?
16. हवा का तापमान शरीर के तापमान से अलग क्यों होता है?
17. पृथ्वी पर सबसे अधिक तापमान किस क्षेत्र में होता है और क्यों?

18. पृथ्वी पर सबसे कम तापमान किस क्षेत्र में होता है और क्यों?
19. अखबार या टी.वी पर मौसम की जानकारी दिए जाने के क्या फायदे हैं?
20. यदि आपके गांव का अधिकतम तापमान 35 डिग्री सेन्टीग्रेड तथा न्यूनतम तापमान 18 डिग्री सेन्टीग्रेड है तो दिन व रात के तापमान में कितना अंतर है तथा दिन का औसत तापमान कितना होगा?
21. गीले कपड़े धूप में जल्दी क्यों सूख जाते हैं?
22. मौसम संबंधी जानकारी हमें कहाँ-कहाँ से मिलती है तथा इससे क्या लाभ है?
23. यदि आपके शहर का तापमान 40 डिग्री सेन्टीग्रेड हो तो आपकी दिनचर्या कैसी होगी?
24. लद्दाख में 20 दिसम्बर की सुबह 8 बजे का तापमान -3 डिग्री सेन्टीग्रेड दर्ज किया गया उसके 24 घंटे बाद वहाँ का तापमान 5 डिग्री सेन्टीग्रेड तक बढ़ गया तो बताइए 21 दिसम्बर की सुबह 8 बजे वहाँ का तापमान कितना था।
25. गंजू नगर और बालपुर समुद्र से समान दूरी पर है। फिर भी बालपुर में गंजू नगर की अपेक्षा साल के अधिकांश महिनों में अधिक ठंड रहती है। इसके क्या कारण हो सकते हैं?
26. क्विटो नाम का शहर भूमध्य रेखा पर समुद्र तल से 4000 फीट की उंचाई पर स्थित है। मैदानी क्षेत्रों की तुलना में वहाँ का तापमान कम होगा या अधिक होगा और क्यों ?
27. सुबह या शाम के समय परछाई अक्सर लम्बी होती है, क्यों?



v/; k; & 3 Hkkjr

सही उत्तर पर ✓ का निशान लगाओ—

1. भारत देश एशिया महाद्वीप के किस दिशा में है—
 (अ) उत्तर (ब) पूर्व
 (स) दक्षिण (द) पश्चिम
 2. भारत देश के पश्चिम भाग में है—
 (अ) विशाल मैदान (ब) पठार
 (स) पर्वत (द) मरुस्थल
 3. भारत में कम वर्षा वाला क्षेत्र है—
 (अ) असम में (ब) राजस्थान में
 (स) केरल में (द) मेघालय में
 4. चक्रवाती हवाओं द्वारा वर्षा होने से लाभ होता है—
 (अ) गन्ना की फसल को (ब) गेहूं की फसल को
 (स) चाय की फसल को (द) चावल की फसल को
 5. कटीली झाड़ियाँ पाई जाती हैं—
 (अ) अधिक वर्षा वाले राज्यों में (ब) सामान्य वर्षा वाले राज्यों में
 (स) कम वर्षा वाले राज्यों में (द) अत्यधिक वर्षा वाले राज्यों में
 6. संरचना की दृष्टि से उपजाऊ क्षेत्र होता है—
 (अ) पहाड़ी (ब) पठारी
 (स) मरुस्थलीय (द) मैदानी
 7. भारत में सघन बसाहट वाले क्षेत्र है—
 (अ) पहाड़ी क्षेत्र (ब) मैदानी क्षेत्र
 (स) पठारी क्षेत्र (द) मरुस्थलीय क्षेत्र
 8. पंजाब में वर्षा होती है—
 (अ) चक्रवात से (ब) पर्वतीय वर्षा से
 (स) दक्षिणी पश्चिमी मानसून से (द) उत्तर पूर्वी मानसून से
9. सम्पूर्ण भारत का मौसम एक समान क्यों नहीं होता?
 10. अधिक वर्षा वाले राज्यों में किस प्रकार के वन पाए जाते हैं?
 11. पतझड़ वाले वन किन राज्यों में पाए जाते हैं?
 12. वर्षा न होने से क्या-क्या नुकसान होते हैं?
 13. आपके क्षेत्र में किन-किन साधनों से सिंचाई की जाती है?
 14. भारत का सर्वाधिक जनसंख्या वाला क्षेत्र कहां है और क्यों?
 15. शीतकाल में भारत के पूर्वी एवं पश्चिमी तटों में से किस भाग में अधिक वर्षा होगी और क्यों?
 16. यदि आपके राज्य में योंक पशु पाला जाए तो सफलता मिलेगी या नहीं इसके पक्ष एवं विपक्ष में तर्क दीजिए?

17. विश्व में सर्वाधिक वर्षा मेघालय के मासिनराम में होती है, तो वहां के लोग किस प्रकार के वस्त्रों का प्रयोग करते हैं?
18. कौन सा अक्षांश रेखा भारत को लगभग दो बराबर भागों में विभाजित करता है?
19. तीन ऐसे शहरों के नाम लिखिए जो कर्क वृत्त के निकट हैं?

प्रदत्त कार्य—

- हमारे पड़ोसी देशों अफगानिस्तान, नेपाल बांग्लादेश और म्यांमार में बोली जाने वाली भाषाएं एवं मुद्रा का पता करिये। क्या इन भाषाओं में से कोई भाषा भारत में भी बोली जाती है?



v/; k; & 4
mRrj dk
i oRr; i nS'k

सही उत्तर पर ✓ का निशान लगाओ—

1. हिमालय पर्वत श्रृंखला का विस्तार नहीं है?

(अ) तिब्बत में	(ब) भूटान में
(स) श्री लंका में	(द) नेपाल में
2. हिम + आलय का अर्थ होता है—

(अ) बर्फ का विद्यालय	(ब) बर्फ का घर
(स) बर्फ का मंदिर	(द) बर्फ का अनाथालय
3. हिमालय पर्वत पर अधिक हिमपात किस ऋतु में होता है—

(अ) ग्रीष्म ऋतु में	(ब) वर्षा ऋतु में
(स) बसंत ऋतु में	(द) शीत ऋतु में
4. ग्लेशियर कहते हैं—

(अ) हिमनदी को	(ब) हिम क्षेत्र को
(स) हिमालय को	(द) हिमाच्छादन को
5. गंगोत्री है एक—

(अ) हिमरेखा	(ब) ग्लेशियर
(स) सदावाहिनी नदी	(द) हिमपात
6. हिमालय की चोटी का तापमान—

(अ) अधिक होती है	(ब) हिमांक बिन्दु से नीचे चला जाता है।
(स) औसत तापमान होता है	(द) तापमान स्थिर रहता है।
7. हिमालय पर्वत स्थित है—

(अ) भारत के उत्तर में	(ब) भारत के पूर्व में
(स) भारत के दक्षिण में	(द) भारत के पश्चिम में
8. बुग्याल है एक—

(अ) फूल	(ब) फल
(स) घास	(द) जड़
9. कोणधारी वन प्रदेश में मुख्यतः पाए जाते हैं—

(अ) नीम व आम के वृक्ष	(ब) अर्जुन व पलास के वृक्ष
(स) चीड़ व देवदार के वृक्ष	(द) साल व सागौन के वृक्ष
10. वनों की निरंतर कटाई रोकने के लिए आन्दोलन चलाया गया जिसे कहते हैं—

(अ) भारत छोड़ो आन्दोलन	(ब) चिपको आन्दोलन
(स) वन महोत्सव	(द) स्वराज आन्दोलन
11. हाऊस बोट कहते हैं—

(अ) नौका पर बने घरों को	(ब) दुशाले को
(स) डल झील को	(द) कालीन को

12. कश्मीर में प्रमुखता से पाया जाता है—

- (अ) चावल (ब) गेहूँ
(स) केसर (द) चंदन

13. किस राज्य की राजधानी देहरादून है?

- (अ) उत्तरांचल (ब) छत्तीसगढ़
(स) कश्मीर (द) सिक्किम

14. माऊन्ट एवरेस्ट किस देश में स्थित है—

- (अ) भारत (ब) नेपाल
(स) भूटान (द) पाकिस्तान

15. यॉक पशु एवं हमारे यहां पाई जाने वाली गाय की तुलना करो?

16. अरुणाचल प्रदेश के लोग बांस का क्या-क्या उपयोग करते हैं, लिखो?

17. वनों की कटाई को रोका जाना क्यों आवश्यक है?

19. भारत की किन-किन नदियों में वर्ष भर जल प्रवाहित होता रहता है, और क्यों, कारण लिखिए?

20. भू-स्खलन से होने वाले नुकसानों की सूची बनाइए।

21. हिमालय में तापमान के निम्न होने के कारणों पर प्रकाश डालिए।

22. ग्लोबल वार्मिंग का हिमालय पर क्या प्रभाव पड़ रहा है, लिखिए?

प्रदत्त कार्य—

- वनों की कटाई रोकने से संबंधित चित्र, पोस्टर, एवं नारे बनाकर लाइए।
- आपने चिपको आन्दोलन के बारे में पढ़ा है, इस आन्दोलन से संबंधित अधिक जानकारी एकत्र कर अपने पोर्टफोलियो में लगाइए।
- कश्मीर के सौंदर्य से संबंधित गीत, कविता, कहानी, चित्रों का संकलन करें।
- भारत के नवगठित राज्य उत्तराखण्ड एवं छत्तीसगढ़ का अधोलिखित बिन्दुओं के आधार पर विश्लेषण कीजिए—

क्र.	मुख्य बिन्दु	उत्तराखण्ड	छत्तीसगढ़
1	राजधानी		
2	स्थिति एवं विस्तार		
3	समुद्रतल से औसत ऊंचाई		
4	जलवायु		
5	औसत वार्षिक वर्षा		
6	प्रमुख वनस्पति		
7	पालतू पशु		
8	प्रमुख व्यवसाय		

- उंचे पर्वतों में निवास करने वाले लोगों के जीवन स्तर का निम्न बिन्दुओं के आधार पर विश्लेषण कीजिए—

क्र.	मुख्य बिन्दु	
1	मकान	
2	वेशभूषा	
3	खानपान	
4	व्यवसाय	
5	आवागमन के साधन	
6	शिक्षा एवं स्वास्थ्य	
7	प्राकृतिक संसाधन	
8	मुख्य कठिनाईयां	



v/; k; & 5
mRrj dk
fo' kky eñku

1. उत्तर के विशाल मैदानी क्षेत्र में कौन सी नदी नहीं बहती है—
 (अ) गंगा नदी (ब) ब्रह्मपुत्र
 (स) यमुना नदी (द) गोदावरी नदी
2. पश्चिमी मैदानी क्षेत्र के अंतर्गत आने वाला राज्य है—
 (अ) उड़ीसा (ब) पश्चिम बंगाल
 (स) हरियाणा (द) आंध्रप्रदेश
3. सतलज नदी से निकाली गई नहर है—
 (अ) महात्मा गांधी नहर (ब) इन्दिरा गांधी नहर
 (स) नेहरू नहर (द) राजीव गांधी नहर
4. पंजाब में बहने वाली नदी है—
 (अ) व्यास नदी (ब) सोन नदी
 (स) गंगा नदी (द) बेतवा नदी
5. कैलाश पर्वत के पास राक्षस ताल से निकलने वाली नदी का नाम है—
 (अ) कोसी नदी (ब) गंडक नदी
 (स) घाघरा नदी (द) सतलज नदी
6. अत्यधिक सिंचाई से मिट्टी की गुणवत्ता हो जाती है—
 (अ) रसायन युक्त (ब) खराब
 (स) अत्यधिक उपजाऊ (द) सामान्य
7. जूट से बनने वाली सामग्री नहीं है—
 (अ) बोरियां (ब) रस्सी
 (स) सुतली (द) प्लास्टिक रस्सी
8. इनमें से किस शहर में बंदरगाह पाया जाता है—
 (अ) पंजाब में (ब) दिल्ली में
 (स) कलकत्ता में (द) कानपुर में
9. कृषि उत्पादन में वृद्धि करने के लिए अपनाए जाने वाले नए तरीकों को नाम दिया गया—
 (अ) श्वेत क्रांति (ब) हरित क्रांति
 (स) औद्योगिक क्रांति (द) मकर संक्रांति
10. नदी के किनारे पाए जाने वाले प्रमुख वनस्पतियों एवं साग सब्जियों के नाम लिखिए?
11. नदियों में रेत व मिट्टी कहाँ से आती है?
12. यदि हिमालय नहीं होता तो उत्तर का विशाल मैदान कैसा होता?
13. भारत में जूट की खेती कहाँ अधिक होती है और क्यों?

14. कृषि उपज को प्रभावित करने वाले कारकों के नाम लिखिए?
15. छत्तीसगढ़ की नदियों में वर्ष भर पानी का बहाव नहीं होता, उसके क्या कारण हैं?
16. क्या कारण है कि अधिकांश सभ्यताएं नदियों के किनारे ही विकसित हुईं?

पोर्टफोलियो—

- अपने क्षेत्र की किसी नदी के उद्गम बहाव स्थल, प्रमुख शहर, नदी से लाभ आदि बारे में जानकारी एकत्र कर लिखें?

प्रोजेक्ट कार्य—

अपने शिक्षक की सहायता से अपने क्षेत्र की किसी एक सिंचाई परियोजना का अध्ययन कर निम्नलिखित बिन्दुओं पर जानकारी एकत्र कर लिखिए—

1. नदी का नाम
2. बांध स्थल
3. प्रमुख नहरों का विस्तार
4. कृषि से संबंधित लाभ
5. उद्योग व रोजगार से संबंधित लाभ
6. पर्यावरण संबंधित लाभ एवं हानियाँ
7. लाभान्वित कुल क्षेत्र (रकबा)
8. जलविद्युत व अन्य परियोजनाएं
9. नदियों का मानव जीवन से क्या संबंध है

प्रदत्त कार्य—

भारत के प्राकृतिक नक्शे में नदियों का मानचित्र देखें तथा निम्नांकित सारिणी को पूर्ण करें।

क्र.	नदियों के नाम	उद्गम स्थल	प्रवाह की दिशा	प्रवाह क्षेत्र के राज्य
1	झेलम			
2	यमुना			
3	चिनाब			
4	व्यास			
5	सतलज			
6	गंगा			
7	ब्रह्मपुत्र			
8	महानदी			
9	शिवनाथ			



v/; k; & 6 nDdu dk i Bkj

सही उत्तर पर ✓ का निशान लगाओ—

1. दक्कन का पठार है—
 (अ) वर्गाकार (ब) आयताकार
 (स) त्रिभुजाकार (द) वृताकार
2. दक्कन के पठार का निर्माण हुआ है—
 (अ) लावा के ठंडा होने से (ब) पेड़ों के कटने से
 (स) गंगा नदी के डेल्टा से (द) नदियों के अवसाद से
3. कपास की खेती के लिए उपयुक्त है—
 (अ) भूरे रंग की मिट्टी (ब) लाल रंग की मिट्टी
 (स) काली चिकनी मिट्टी (द) दलदली मिट्टी
4. छत्तीसगढ़ राज्य के प्रायः सभी गांवों में मुख्य व्यवसाय हैं—
 (अ) वनोपज इकट्ठा करना (ब) कृषि करना
 (स) खनिज निकालना (द) शिकार करना
5. महानदी पर निर्मित परियोजना का नाम है—
 (अ) हीराकुण्ड बांध (ब) गांधी सागर बांध
 (स) रविशंकर जलाशय (द) कृष्णराज सागर बांध
6. इनमें से कम पानी की आवश्यकता वाली फसल नहीं है—
 (अ) ज्वार (ब) बाजरा
 (स) रागी (द) गन्ना
7. जमीन से खुदाई कर निकाले जाने वाले पदार्थों को कहते हैं—
 (अ) खदान (ब) खनिज
 (स) उत्खनन (द) खाद्यान्न
8. कोयले के खदान में उड़ने वाले धूल के कारण किस बीमारी के होने की आशंका होती है—
 (अ) हृदय से संबंधित (ब) हड्डी से संबंधित
 (स) फेफड़े से संबंधित (द) खून से संबंधित
9. दक्कन के पठार में पाया जाता है—
 (अ) हीरा (ब) लौह अयस्क
 (स) अभ्रक (द) तांबा
10. भारत के दक्षिण में स्थित किसी दो पर्वतों के नाम लिखिए?
11. भारत के पश्चिमी घाट के किस भाग में ज्यादा वर्षा होती है और क्यों?
12. धरातलीय संरचना के आधार पर पर्वत और पठार में क्या अंतर होता है?
13. दक्कन के पठार की अधिकांश खेती वर्षा पर निर्भर होती है क्यों?
14. भारत के किसी एक कोयला खदान के बारे में वर्णन कीजिए?

15. कोयला खदान एवं खेतों में काम करने वाले मजदूरों के कार्यों की प्रकृति में क्या अंतर है?
16. दक्कन के पठार में अलग अलग प्रकार की मिट्टी पाई जाती है क्यों?
17. कुंआ और नहर में क्या अंतर होता है?

प्रदत्त कार्य—

अपनी अभ्यास पुस्तिका में मैदान, पठार, और पर्वत का एक साथ चित्र बनाइए तथा निम्न प्रश्नों के उत्तर लिखिए?

- मैदान, पर्वत एवं पठार में क्या अंतर है?
- किस भाग का ढलान अधिक है?
- किस भाग में सायकल चलाना आसान होगा और क्यों?



v/; k; & 7
l eprVh; eñku
o }hi l eg

सही उत्तर पर ✓ का निशान लगाओ—

1. देश का सबसे बड़ा बंदरगाह है—
 (अ) कलकता (ब) चेन्नई
 (स) मुंबई (द) कोचीन
2. समुद्र तट की जलवायु होती है—
 (अ) अत्यधिक गर्म (ब) अत्यधिक ठंडी
 (स) वर्ष भर एक जैसा तापमान (द) अत्यधिक वर्षा
3. नारियल के पत्तों से बनाया जाता है—
 (अ) चटाई (ब) रस्सी
 (स) दरी (द) घरों के छप्पर
4. थल समीर कहते हैं—
 (अ) पूर्वी तट पर सीधी हवा बहती है
 (ब) समुद्र से जमीन की ओर हवा बहती है
 (स) पश्चिमी तटीय मैदान पर गर्म हवा बहती है
 (द) जमीन से समुद्र की ओर हवा बहती है
5. समुद्री तट पर रहने वाले मछुआरे प्रातः 3 बजे मछली पकड़ने जाते हैं क्योंकि—
 (अ) इस समय जमीन से हवाएँ समुद्र की ओर चलती हैं
 (ब) समुद्र से जमीन की ओर हवाएँ चलती हैं
 (स) सबेरे वातावरण ठंडा होता है
 (द) सुबह मछली अधिक मिलती है
6. अंडमान निकोबार द्वीप समूह में लगभग द्वीप हैं—
 (अ) 10 द्वीप (ब) 321 द्वीप
 (स) 302 द्वीप (द) 521 द्वीप
7. पोर्टब्लेयर है—
 (अ) मछली पकड़ने का आधुनिक उपकरण
 (ब) कारखानों का विषैला पदार्थ
 (स) अंडमान निकोबार द्वीप समूह की राजधानी
 (द) सेल्युलर जेल
8. कालापानी की सजा देते थे—
 (अ) सेल्युलर जेल में (ब) सेंट्रल जेल में
 (स) लक्षद्वीप में (द) समुद्र के बीच में
9. कवरती है—
 (अ) पोर्टब्लेयर की राजधानी (ब) निकाबार की राजधानी
 (स) लक्षद्वीप की राजधानी (द) अंडमान की राजधानी

10. बंबई एक प्राकृतिक बंदरगाह है क्योंकि—

- (अ) वहां समुद्र का तट सपाट है (ब) वहां समुद्र तट कटाफटा है
(स) वहां अरब का विशाल सागर है (द) वहां जलमार्ग सस्ता है

11. नदियां डेल्टा बनाती है—

- (अ) मैदानी क्षेत्र में (ब) बाढ़ के मैदान में
(स) अपने मुहाने पर (द) पर्वतीय भाग में

12. समुद्र में गिरने के पूर्व नदियां कई शाखाओं में बंट जाती है—

- (अ) नदियों का प्रवाह कम हो जाता है
(ब) नदियां अपने साथ लाए अवसादों को बीच-बीच में जमा कर देती हैं
(स) अवसादों के जमा होने से मार्ग में रुकावट आती है
(द) उपरोक्त सभी

13. पहाड़ी ढलानों पर डेल्टा का निर्माण नहीं होता क्योंकि—

- (अ) पहाड़ों का ढाल तीव्र होता है
(ब) पहाड़ों पर घने वन पाए जाते हैं
(स) पहाड़ों पर नदियों में जल नहीं होता है
(द) पहाड़ों पर जनसंख्या कम होती है

14. द्वीप एवं प्रायद्वीप में क्या अंतर है उदाहरण सहित समझाओ?

15. डेल्टा किसे कहते हैं? नदी अपने मुहाने पर डेल्टा क्यों बनाती है?

16. उत्तर भारत का मैदान एवं समुद्रतटीय मैदान में अंतर निम्न बिंदुओं में लिखो—

- स्थिति
- धरातलीय संरचना
- कौन कौन से राज्य आते हैं
- जलवायु
- नदियां और व्यवसाय

प्रदत्त कार्य—

- भारत के नक्शे में दो प्रमुख बंदरगाह को दर्शाइये जो बंदरगाह होने के साथ साथ किसी राज्य की राजधानी भी है।
- केन्द्र शासित राज्य किसे कहते हैं? वहां की शासन व्यवस्था कैसी होती है? भारत के केन्द्र शासित प्रदेशों की सूची बनाकर उसे नक्शे में दर्शाइये।



v/; k; & 8 Fkkj dk e#LFky

1. थार का मरुस्थल स्थित है—
 (अ) गुजरात में (ब) राजस्थान
 (स) बिहार में (द) हिमाचल प्रदेश में
2. मरुस्थल में पाया जाता है—
 (अ) चारों ओर लाल मिट्टी (ब) चारों ओर रेत ही रेत
 (स) चारों ओर पानी ही पानी (द) उपरोक्त सभी
3. मरुस्थलीय क्षेत्र का तापमान होता है—
 (अ) दिन और रात का तापमान एक समान होता है
 (ब) दिन का तापमान अधिक
 (स) रात का तापमान अधिक
 (द) दिन का तापमान अधिक और रात का तापमान कम होता है
4. मरुस्थलीय क्षेत्र में दिन- रात के तापमान में अधिक अंतर पाया जाता है क्योंकि—
 (अ) रेत दिन में अधिक गर्म होती है
 (ब) रेत रात को देर तक गर्म रहती है
 (स) रेत दिन को अधिक गर्म और रात को ठंडी होती है
 (द) वहां पानी नहीं गिरता
5. टांकी, कुई, कुंडी है—
 (अ) जल संग्रहण करने का साधन (ब) खेती करने का साधन
 (स) पशुओं के चारे का साधन (द) यातायात का साधन
6. ऊँट को रेगिस्तान का जहाज कहते हैं क्योंकि—
 (अ) बिना पानी पिए कही दिनों तक रह सकता है
 (ब) वह रेत में आसानी से चल सकता है
 (स) ऊँट यातायात का मुख्य साधन है
 (द) उपरोक्त सभी
7. मरुस्थलीय प्रदेश में बहुत कम वर्षा होती है क्योंकि—
 (अ) यह समुद्र से बहुत दूर है
 (ब) मरुस्थलीय क्षेत्र है
 (स) अरावली पर्वत की दिशा मानसूनी हवाओं के समानान्तर है
 (द) यह वनस्पति विहिन क्षेत्र है
8. मरुस्थलीय क्षेत्र की मुख्य वनस्पति है—
 (अ) आवंला, हर्रा, बहेरा (ब) साल, सागौन, आम
 (स) बबूल, खैर, बेरी (द) नीबू, संतरा, अन्नानास
9. क्षेत्रफल की दृष्टि से सबसे बड़ा राज्य है—
 (अ) मध्यप्रदेश (ब) राजस्थान
 (स) गुजरात (द) महाराष्ट्र

10. मरुस्थलीय क्षेत्र में कुएँ और नलकूप नहीं पाए जाते क्योंकि—

- (अ) कुएँ और नलकूप लगाना बहुत खर्चीला कार्य है
- (ब) वर्षा की कमी के कारण जलस्तर बहुत नीचे होता है
- (स) कुआं खोदना बहुत कठिन कार्य है
- (द) कुआं खोदने हेतु मजदूर नहीं मिलते

11. पानी की कमी का मरुस्थल के लोगों पर क्या-क्या प्रभाव पड़ता है?

12. राजस्थान के लोग भू-जल की अपेक्षा बरसात के पानी पर ज्यादा निर्भर रहते हैं क्यों?
13. राजस्थान में होने वाली वर्षा और छत्तीसगढ़ में होने वाली वर्षा में क्या अंतर है और क्यों?
14. मरुस्थल के प्रसार से क्या नुकसान है? इस प्रसार को कैसे रोका जा सकता है?
15. आपके भोजन एवं राजस्थान में रहने वाले बच्चों के भोजन में क्या-क्या अंतर पाया जाता है?
16. मरुस्थलीय क्षेत्र दिन में अधिक गर्म और रात को अधिक ठंडे क्यों होते हैं?

प्रदत्त कार्य—

- इंदिरा गांधी नहर के बारे में जानकारी एकत्रित कर लिखो—
- नहर कहाँ से निकाली गई है?
- किन-किन राज्यों से होकर जाती है?
- नहर से राजस्थान के लोगों को क्या-क्या लाभ है?

छ.ग.राज्य और राजस्थान में उगाई जाने वाली फसलों की जानकारी एकत्रित करो—

- अनाज जो उगाये जाते हैं—
- सिंचाई
- कब उगाये जाते हैं
- खाद का उपयोग
- खेती करने में आने वाली कठिनाइयां



v/; k; & 9
mRrjh vefjdk i kdfrd
cukoV , oat yok; q

1. उत्तर अमेरिका की मुख्य नहर है—

- (अ) स्वेज नहर (ब) इंदिरा नहर
(स) पनामा नहर (द) कील नहर

2. अमेरिका के पश्चिम में स्थित पर्वतीय क्षेत्र का नाम है—

- (अ) अरावली पर्वत (ब) यूराल पर्वत
(स) राकी पर्वत (द) अपलेशियन पर्वत

3. अप्लेशियन पर्वत स्थित है—

- (अ) उत्तर अमेरिका में (ब) दक्षिण अमेरिका में
(स) अफ्रीका में (द) यूरोप

4. नियाग्रा जलप्रपात स्थित है—

- (अ) मिसीसीपी नदी पर (ब) मिसौरी नदी पर
(स) सेंटलारेंस नदी पर (द) नील नदी पर

5. उत्तरी अमेरिका स्थित है—

- (अ) उत्तरी गोलार्द्ध में (ब) दक्षिणी गोलार्द्ध में
(स) पूर्वी गोलार्द्ध में (द) दक्षिण पूर्वी गोलार्द्ध में

6. उत्तर अमेरिका के दक्षिणी भाग का तापमान अधिक होता है क्यों?

7. उत्तर अमेरिका के अलग-अलग भागों में अलग-अलग वनस्पतियां पाई जाती हैं क्यों कारण सहित लिखो।

प्रदत्त कार्य—

- .उत्तरी अमेरिका के फार्म मालिकों एवं छत्तीसगढ़ के किसानों के बीच क्या समानताएं एवं भिन्नताएं हैं बताइये?
- .उत्तरी अमेरिका के राकी पर्वत एवं भारत के हिमालय पर्वत की स्थिति में क्या अंतर है? तथा इस स्थिति का देश की जलवायु पर क्या प्रभाव पड़ता है?
- .उत्तर अमेरिका के पर्वत एवं नदियों की सूची बनाकर उसे नक्शे में दर्शाओ?



bfrgkl

v/; k; & 1
vk/kfud ; jki dk
bfrgkl

सही विकल्प पर ✓ का लगाओ—

1. इतिहास के काल विभाजन का मुख्य आधार है—
 (अ) अध्ययन अध्यापन की सुविधा (ब) सामाजिक व्यवस्था
 (स) राजनैतिक सुधार के लिए (द) आर्थिक सुदृढ़ता के लिए
2. आधुनिक काल की विशेषताएँ हैं—
 (अ) तर्क एवं बुद्धिवाद (ब) मानववाद
 (स) नवीन अन्वेषण (द) उपरोक्त सभी
3. आधुनिक काल की जानकारी प्राप्त होती है—
 (अ) लिखित इतिहास (ब) आधुनिक संचार साधन
 (स) विभिन्न दस्तावेज (द) उपरोक्त सभी
4. बाइबिल का अनुवाद स्थानीय भाषाओं में किया गया क्योंकि—
 (अ) आम व्यक्ति प्रवचन दे सके (ब) धर्म की बातों को समझ सके
 (स) धर्म का प्रचार कर सके (द) अधिक मात्रा में बाइबिल की बिक्री हो सके
5. मार्टिन लूथर धर्मगुरु थे—
 (अ) इस्लाम धर्म के (ब) ईसाई धर्म के
 (स) जर्मन के (द) बौद्धधर्म के
6. यूरोप एवं भारत के व्यापारिक मार्ग का मुख्य द्वार था—
 (अ) कुस्तुंतुनिया (ब) इस्तम्बोल
 (स) अहमदनगर (द) फारस की खाड़ी
7. पृथ्वी सूर्य का चक्कर लगाती है इस सिद्धांत का प्रतिपादन किया—
 (अ) मार्टिन लूथर ने (ब) केल्विन ने
 (स) कोपर्निकस एवं गैलिलियो ने (द) कापरनिकस ने
8. यूरोप से अमेरिका पहुंचने वाले समुद्री मार्ग की खोज की—
 (अ) कोलंबस ने (ब) कापरनिकस ने
 (स) वास्कोडिगामा (द) गैलिलियो ने
9. औद्योगिक क्रांति की शुरुवात हुई—
 (अ) पन्द्रहवीं शताब्दी के उत्तरार्द्ध में (ब) सोलहवीं शताब्दी में
 (स) अठारहवीं शताब्दी के उत्तरार्द्ध में (द) सत्रहवीं शताब्दी में
10. समुद्री मार्ग से होकर सर्वप्रथम कौन भारत आए थे—
 (अ) अंग्रेज (ब) फ्रांसीसी
 (स) पुर्तगाली (द) डच

11. वैचारिक क्रांति से क्या आशय है? छपाई मशीन के अविष्कार से वैचारिक क्रांति पर क्या प्रभाव पड़ा?
12. प्रोटेस्टेंट कौन कहलाये?
13. पुर्नजागरण का यूरोप के साहित्यिक व सांस्कृतिक जीवन पर क्या प्रभाव पड़ा?
14. डच, पुर्तगाल एवं ब्रिटेन के उपनिवेश भारत में कहाँ-कहाँ बने थे?

प्रदत्त कार्य

- व्यापार करने के लिए लोग नए-नए समुद्री मार्ग की खोज करते थे, कल्पना कीजिए की समुद्री यात्रा के दौरान उन्हें कौन-कौन सी कठिनाइयों का सामना करना पड़ता होगा और वे अपने साथ कौन-कौन सा सामान लेकर जाते होंगे?



✓/; k; & 2

Hkkj r eabLV bfm; k dā uh ' kkl u dh LFkki uk

सही विकल्प पर ✓ लगाओ—

1. पुर्तगाल के व्यापारी समुद्री मार्ग से भारत आये थे—
 (अ) निवास करने के लिए (ब) व्यापार करने के लिए
 (स) धर्म का प्रचार करने के लिए (द) व्यापार एवं धर्म का प्रचार करने के लिए
2. पुर्तगालियों ने भारत में अपनी राजधानी बनाई—
 (अ) दिल्ली (ब) बंबई
 (स) गोवा (द) मद्रास
3. पुर्तगालियों ने गोवा को अपनी राजधानी बनाई क्योंकि—
 (अ) यहां का राजा पुर्तगालियों का मित्र था
 (ब) गोवा समुद्र के किनारे स्थित है
 (स) गोवा की जलवायु पुर्तगालियों के अनुकूल थी
 (द) गोवा एक बड़ा नगर था
4. फ्रांसिस मार्टिन ने शहर की स्थापना की—
 (अ) गोवा, दमन, दीव (ब) पांडिचेरी
 (स) कटक (द) सूरत
5. ब्रिटिश कारखाने को कहते थे—
 (अ) महल (ब) कोठी
 (स) बंगला (द) किला
6. यूरोपीय व्यापारी मसालों के बदले भारत को देते थे—
 (अ) पेट्रोल (ब) सोना चांदी
 (स) कच्चा माल (द) कपास
7. डाक तार की स्थापना की—
 (अ) विलियम बैटिक ने (ब) डलहौजी ने
 (स) वेलेजली ने (द) वारेन हेस्टिंग्स ने
8. डच, पुर्तगाली, फ्रांसिसी तथा अंग्रेज भारत क्यों आते थे? और कैसे आते थे?
9. मसालों की खेती भारत में अधिक होती है विदेशों में नहीं क्यों?
10. विदेशों में मसालों की खपत अधिक होती है क्यों?
11. विलियम बैटिक की गणना सुधारक गवर्नर जनरल के रूप में की जाती है क्यों?
12. विलियम बैटिक ने कौन-कौन सी सामाजिक कुरीतियों पर रोक लगाने के लिए कठोर कानून बनाये ?
13. डलहौजी के शासन काल में कौन-कौन से प्रशासनिक सुधार के कार्य किए गए?
14. भारत में विदेशियों का आगमन समुद्री मार्ग से ही क्यों हुआ?

प्रदत्त कार्य

- विदेशियों द्वारा भारत के विभिन्न शहरों में उपनिवेश बनाए गए थे उन्हें नक्शे में अंकित कर वर्तमान में इन शहरों की क्या प्रगति हुई है लिखो?

v/; k; & 3
væst h 'kkl u dk Hkkj rh;
tuthou ij i Hkko

सही विकल्प पर ✓ लगाओ—

1. भारत में अंग्रेजों के आय का मुख्य साधन था—
(अ) भूमिकर (ब) आयकर
(स) व्यापार (द) कृषि
2. अंग्रेजों ने महलवाड़ी, जमींदारी, रैयतवाड़ी व्यवस्थाएं लागू की थी—
(अ) किसानों को बीज व खाद देने के लिए (ब) किसानों से भूमिकर लेने हेतु
(स) किसानों को कर्ज देने के लिए (द) कृषि में उत्पादन बढ़ाने के लिए
3. महलवाड़ी व्यवस्था लागू की गई थी—
(अ) उत्तरप्रदेश, मध्यप्रदेश, कर्नाटक में (ब) उत्तरप्रदेश छत्तीसगढ़, पंजाब में
(स) हिमाचल प्रदेश, पश्चिम बंगाल, उत्तरप्रदेश में (द) पश्चिम बंगाल छत्तीसगढ़ पंजाब में
4. बंबई और मद्रास प्रेसीडेंसी प्रांत में रैयतवाड़ी व्यवस्था लागू की गई—
(अ) 15 वर्षों के लिए (ब) 20 वर्षों के लिए
(स) 25 वर्षों के लिए (द) 30 वर्षों के लिए
5. महलवाड़ी व्यवस्था में पूरे गांव को कहते थे—
(अ) कस्बा (ब) गांव
(स) महल (द) जनपद
6. अंग्रेजी शासन काल में भारत का मैनचेस्टर कहा जाता था—
(अ) सूरत (ब) दिल्ली
(स) ढाका (द) बम्बई
7. वर्नाक्यूलर प्रेस एक्ट लागू किया गया—
(अ) वायसराय रिपन ने (ब) वायसराय लिटन ने
(स) वायसराय लार्ड माउंट बेटन ने (द) लार्ड वारेन हेस्टिंग ने।
8. मैकाले शिक्षा पद्धति का मुख्य उद्देश्य था—
(अ) भारतीयों को शिक्षित करना
(ब) भारतीयों को नौकरी देना
(स) भारत के लोगों की मानसिकता को शासन के पक्ष में करना
(द) भारतीयों को ज्ञान विज्ञान से अवगत करना
9. वर्नाक्यूलर प्रेस एक्ट का उद्देश्य था—
(अ) प्रेस पर नियंत्रण रखना (ब) प्रेस को स्वतंत्रता देना
(स) शासन की नीतियों की जानकारी देना (द) प्रेस के माध्यम से आय प्राप्त करना
10. छत्तीसगढ़ में पत्रकारिता के जनक कहे जाते हैं—
(अ) पं.माधवराव सप्रे (ब) मायाराम सुरजन
(स) रामगोपाल महेश्वरी (द) डॉ. हिमांशु द्विवेदी

11. छत्तीसगढ़ का प्रथम कालेज है—

(अ) दुर्गा महाविद्यालय

(ब) हरिशंकर महाविद्यालय

(स) पं. सुदर लाल शर्मा विद्यालय

(द) छत्तीसगढ़ महाविद्यालय

12. छत्तीसगढ़ का प्रथम समाचार पत्र छत्तीसगढ़ मित्र प्रकाशित हुआ—

(अ) बिलासपुर

(ब) रायपुर से

(स) पेन्ड्रा

(द) दुर्ग से

13. राजनांदगाव रियासत का राजकीय समाचार पत्र था—

(अ) लोकवाणी

(ब) प्रजा हितैषी

(स) हितवाद

(द) जनधारा

14. नई शिक्षा नीति का मुख्य उद्देश्य अंग्रेजी में शिक्षा देना व भारतीय लोगों की मानसिकता को शासन के पक्ष में करना था फिर भी राजाराममोहन राय ने इस शिक्षा नीति का समर्थन किया क्यों?

15. अंग्रेजों के शासन काल में संचार व परिवहन के साधनों के विकास से राष्ट्रीयता की भावना विकसित हुई कैसे?

16. समाचार पत्र का जनजीवन पर अत्यधिक प्रभाव पड़ता है कैसे?

प्रदत्त कार्य

- पं. माधवराव सप्रे के बारे में निम्न बिन्दुओं में जानकारी एकत्रित कर लिखिए—
- पूरा नाम, पिता का नाम, शिक्षा, जन्म तिथि व स्थान उनके द्वारा किए गए कार्य का विवरण



v/; k; & 4
Hkkjr dk i fke
Lor&rk l æke

सही विकल्प पर ✓ लगाओ—

1. स्वतंत्रता संग्राम का प्रथम संगठित विद्रोह हुआ—
(अ) सन् 1765 (ब) सन् 1856
(स) सन् 1857 (द) सन् 1852
2. 1857 के प्रथम कातिकारी थे—
(अ) मंगल पांडे (ब) तात्या टोपे
(स) भगतसिंह (द) नाना साहब
3. प्रथम सिपाही विद्रोह आरंभ हुआ—
(अ) दिल्ली छावनी में (ब) कानपुर छावनी से
(स) मेरठ छावनी से (द) अंबाला छावनी से
4. सन् 1857 में सिपाही विद्रोह का दिल्ली में नेतृत्व किया—
(अ) बहादुर शाह जफर ने (ब) बख्तर खॉ ने
(स) नाना साहेब ने (द) तात्याटोपे ने
5. छत्तीसगढ़ के प्रथम स्वतंत्रता संग्राम शहीद थे—
(अ) गुण्डाधुर (ब) वीर नारायण सिंह
(स) प्रवीरचन्द्र भंजदेव (द) हनुमान सिंह
6. वीरनारायण सिंह का जन्म स्थान है—
(अ) बिलासपुर (ब) सोनाखान
(स) रायपुर (द) राजिम
7. सन् 1857 के विद्रोह के मुख्य कारण क्या-क्या थे?
8. कंपनी के शासनकाल में किए गए धार्मिक सुधारों का रुढ़िवादी वर्ग पर क्या प्रभाव पड़ा?
9. सन् 1857 के विद्रोह में सैनिकों के असंतोष के क्या कारण थे?
10. 22 जनवरी सन् 1858 को जिन सत्रह सैनिकों को फॉसी की सजा दी गई उन शहीदों के नाम लिखो
11. सन् 1858 का सरकार अधिनियम क्या है

प्रदत्त कार्य

- यदि आपके गांव/शहर में कोई स्वतंत्रता संग्राम सेनानी हो अथवा उनके वंशज हो तो उनके बारे में जानकारी एकत्रित कर लिखिए।
- नक्सलप्रभावित क्षेत्र में जो जवान शहीद होते हैं तथा स्वतंत्रता संग्राम में जो शहीद हुए उन लोगों में क्या अंतर है? पता कर लिखो।
- 1857 के विद्रोह के बारे में यदि भारत को सफलता मिलती तो भारत का स्वरूप क्या होता?



v/; k; & 5
Hkkj rh; l ekt ea
u, fopkj

सही विकल्प पर गोला लगाओ—

1. गुरु घासीदास जी ने पंथ चलाया—
 (अ) कबीर पंथ
 (ब) सतनाम पंथ
 (स) खालसा पंथ
 (द) राधास्वामी पंथ
2. पुर्नजागरण का अग्रदूत कहा जाता है—
 (अ) राजा राममोहन राय
 (ब) स्वामी दयानंद सरस्वती
 (स) ईश्वरचंद विद्यासागर
 (द) महादेव गोविंद रानाडे
3. बालिकाओं के लिए प्रथम स्कूल खोला—
 (अ) राजाराम मोहन राय ने
 (ब) स्वामी दयानंद सरस्वती ने
 (स) ईश्वरचंद विद्यासागर ने
 (द) महादेव गोविंद रानाडे ने
4. शारदा सदन का मुख्य उद्देश्य था—
 (अ) विधवा महिलाओं को शिक्षित करना
 (ब) बालिकाओं को शिक्षित करना
 (स) महिलाओं को संस्कृत सिखाना
 (द) ब्राम्हण वर्ग की महिलाओं को शिक्षित करना
5. संविधान निर्माता भीमराव अंबेडकर ने जाति प्रथा मिटाने के लिए क्या किया?
6. छत्तीसगढ़ में पं. सुंदर लाल शर्मा ने निम्न जातियों के उद्धार के लिए क्या किया?
7. राजा राममोहन राय ने अंग्रेजी शिक्षा का समर्थन क्यों किया?
8. सन् 1857 का विद्रोह भारत के व्यापक भूभाग पर हुआ, फिर भी वह सफल नहीं हो सका, इसके प्रमुख पाँच कारणों को लिखिए?
9. सन् 1858 में रानी विक्टोरिया ने अपने घोषणा पत्र में किन प्रमुख बातों का आश्वासन दिया?

प्रदत्त कार्य

- भीख मांगना एक सामाजिक कुरीति है, क्या आप इससे सहमत हैं यदि हां तो क्यों और नहीं तो क्यों नहीं? इसे रोकने हेतु आप क्या करेंगे?
- वर्तमान में हमारे समाज में कौन-कौन सी सामाजिक कुरीतियाँ हैं, इसके समाधान के लिए आप क्या कर सकते हैं?
- बालिका शिक्षा पर नारे लिखो?



v/; k; & 6
Hkkj rh; jk"Vh;
vknksyu

1. **भारत में राष्ट्रवाद का उदय हुआ—**
 (अ) अंग्रेजों के पक्षपात पूर्ण आर्थिक नीति के कारण
 (ब) भारतीयों के शोषण के कारण
 (स) जातीय भेदभाव के कारण
 (द) उपरोक्त सभी
2. **ब्रिटिश एसोसियन, मुंबई एसोसियन, मद्रास एसोसियन की मुख्य माँगे थी—**
 (अ) सरकार में भारतीयों की भागीदारी (ब) करों में कमी
 (स) समाज में व्याप्त कुरीतियों को समाप्त करना (द) उपरोक्त सभी
3. **अखिल भारतीय काँग्रेस की स्थापना हुई—**
 (अ) मुंबई में (ब) कलकता में
 (स) मद्रास में (द) दिल्ली में
4. **सन 1900 एवं 1906 में छत्तीसगढ़ में जो समाचार पत्र प्रकाशित हुए उनके नाम थे—**
 (अ) नवभारत एवं दैनिक भास्कर (ब) छत्तीसगढ़ मित्र एवं हरीभूमि
 (स) छत्तीसगढ़ मित्र एवं हिन्द केसरी (द) नवभारत एव हिन्द केसरी
5. **लोकमान्य तिलक का नारा था—**
 (अ) तूम मुझे खून दो मैं तुम्हें आजादी दूंगा (ब) करो या मरो
 (स) स्वराज्य मेरा जन्मसिद्ध अधिकार है (द) जय जवान जय किसान
6. **छत्तीसगढ़ मित्र नामक समाचार पत्र के संपादक थे—**
 (अ) बालगंगाधर तिलक (ब) वामन राव लाखे
 (स) पं. माधव राव सप्रे (द) गोपाल कृष्ण गोखले
7. **होमरूल आंदोलन प्रारंभ किया—**
 (अ) श्रीमती एनीबेसेंट (ब) बाल गंगाधर तिलक
 (स) गांधी जी (द) लाला लाजपतराय
8. **सन 1947 का भारतीय स्वाधीनता अधिनियम पारित किया गया—**
 (अ) दिल्ली की संसद में (ब) इंग्लैंड की संसद में
 (स) कलकता अधिवेशन में (द) गोलमेज सम्मेलन में
9. **नमक सत्याग्रह का उद्देश्य था—**
 (अ) ब्रिटिश सरकार के सभी अत्याचारों एवं अन्यायपूर्ण कानूनों की अवहेलना करना
 (ब) क्रांतिकारियों को पकड़ना
 (स) मुस्लिम लीग की मांगों को न मानना
 (द) जगह-जगह सम्मेलन करना

10. जलियावाला बाग हत्याकांड क्यों हुआ, कब हुआ, और कहां हुआ था? इस घटना की संपूर्ण भारत में क्या प्रतिक्रिया हुई?
11. आपके विचार से गरम दल एवं नरम दल में से कौन से दल का कार्य अच्छा था और क्यों? यदि आप उस समय रहते तो कौन से दल में रहना पसंद करते?
12. दिल्ली को भारत की राजधानी क्यों और कब बनाया गया?
13. स्वराज किसे कहते हैं? स्वराज्य दल का गठन कब हुआ? स्वराज्य के लिए संघर्ष की आवश्यकता क्यों पड़ी?
14. अंग्रेजी भाषा के प्रचार-प्रसार एवं डाक-तार व्यवस्था से भारतीयों को किस प्रकार का लाभ हुआ?
15. सन् 1905में लार्ड कर्जन ने बंगाल का विभाजन क्यों किया? इससे अंग्रेजों को क्या लाभ हुआ?
16. अंग्रेज भारत से कच्चा माल क्यों ले जाते थे? यदि अंग्रेजों को भारत से कच्चा माल नहीं मिलता तो क्या होता?

प्रदत्त कार्य

- आपके घर में उपयोग की जाने वाली कौन-कौन सी चीजें स्वदेशी हैं और कौन सी विदेशी तालिका बनाकर लिखें?
- निम्न महापुरुषों के चित्र को संकलित कीजिए एवं उनके द्वारा किए गए उल्लेखनीय दो दो कार्यों को लिखिए—
बाल गंगाधर तिलक, दादाभाई नौरोजी, सुरेन्द्र नाथ बैनर्जी, लाला लाजपतराय, विपिनचंद्र पाल, गोपाल कृष्ण गोखले ।



v/; k; & 7
Hkkj rh; x. kræ
dh LFkki uk

1. सन् 1946 में भारत छोड़ने की घोषणा की—
 (अ) इंग्लैण्ड के प्रधानमंत्री एटली ने (ब) लार्ड वेवेल ने
 (स) श्रीमति एनी बेसेंट ने (द) माउंटबेटन ने
2. 1946 में निर्मित अंतरिम सरकार का नेतृत्व किया—
 (अ) गांधी जी ने (ब) डा.राजेन्द्र प्रसाद ने
 (स) भीमराव अंबेडकर ने (द) पं. जवाहर लाल नेहरू ने
3. देशी रियासतों का विलय किया गया—
 (अ) पं. जवाहर लाल नेहरू द्वारा (ब) भीमराव अंबेडकर द्वारा
 (स) गांधी जी द्वारा (द) सरदार वल्लभ भाई पटेल द्वारा
4. लौहपुरुष कहा जाता है—
 (अ) पं. जवाहर लाल नेहरू (ब) भीमराव अंबेडकर
 (स) गांधी जी (द) सरदार वल्लभ भाई पटेल
5. स्वतंत्र भारत के प्रथम गवर्नर जनरल थे—
 (अ) लॉर्ड वेवेल (ब) एटली
 (स) लॉर्ड माउंटबेटन (द) मोहम्मद अली जिन्ना
6. स्वतंत्र भारत के प्रथम प्रधानमंत्री थे—
 (अ) श्रीमती इंदिरा गांधी (ब) गुलजारी लाल नंदा
 (स) लाल बहादुर शास्त्री (द) पं. जवाहर लाल नेहरू
7. सीधी कार्यवाही दिवस किन के घोषित किया गया—
 (अ) अंग्रेजों द्वारा (ब) भारतीयों के द्वारा
 (स) मुस्लिम लीग द्वारा (द) क्रांतिकारी नेताओं द्वारा
8. किस तिथि को सीधी कार्यवाही दिवस घोषित किया गया—
 (अ) 16 अगस्त 1946 को (ब) 15 अगस्त 1947 को
 (स) 26 जनवरी 1950 को (द) 26 नवंबर 1950 को
9. सीधी कार्यवाही दिवस के कारण भारत में क्या हुआ—
 (अ) भारत पाकिस्तान में शांति बनी (ब) सांप्रदायिक दंगे हुए
 (स) भारत पाक में वार्ता हुई (द) स्वतंत्रता हेतु नई योजना बनाई गई
10. पाकिस्तान के पृथक राष्ट्र में शामिल हुए—
 (अ) नेपाल काश्मीर जूनागढ़ (ब) जूनागढ़, कश्मीर, हैदराबाद
 (स) पश्चिम पंजाब, पूर्वी बंगाल, सिंध (द) काश्मीर पंजाब, नेपाल
11. सन 1947 के समय भारत में कितनी देशी रियासतें थी? इन देशी रियासतों पर किसका शासन था? स्वतंत्रता प्राप्ति के बाद इनका विलय करना क्यों आवश्यक था?

12. अगस्त सन 1947 को दिल्ली के लाल किले पर में किसके द्वारा झंडा फहराया गया?
13. भारत पाकिस्तान के विभाजन से कौन-कौन सी आर्थिक समस्याएँ उत्पन्न हुईं?
14. जूनागढ़, काश्मीर, हैदराबाद का भारत में विलय किस प्रकार किया गया?
15. सामाजिक दंगों का क्या परिणाम होता है? ये हमारे विकास में किस प्रकार बाधक है?
16. माउंटबेटन योजना क्या थी? वे कब वायसराय बनकर भारत आए?
17. मोहम्मद अली जिन्ना कौन थे? भारत व पाकिस्तान विभाजन में उनकी क्या भूमिका थी?
18. भारतीय गणतंत्र के संदर्भ में हिन्दु मुस्लिम झगड़े का अंत किस प्रकार हुआ?
19. स्वतंत्र भारत की कौन-कौन सी समस्याएँ थीं?

प्रदत्त कार्य

- भारत को स्वतंत्र कराने में गांधी जी की क्या भूमिका थी? जानकारी एकत्रित कर लिखो एवं संदर्भित चित्रों का भी संकलन करो।



v/; k; & 8 gekjk NRRhl x<+

1. छत्तीसगढ़ का नाम छत्तीसगढ़ पड़ा -
 (अ) नागवंश के समय (ब) मराठा काल में
 (स) कल्चुरि काल में (द) अंग्रेजी शासन काल में
2. छत्तीसगढ़ के रामगिरी, सीताबेंगरा, भीमखोज स्थान संबंधित है-
 (अ) रामायण महाभारत काल से (ब) आदि मानव काल से
 (स) शरभपुरीय काल से (द) महाजनपद काल से
3. तालागांव प्रसिद्ध है-
 (अ) गणेश मंदिर के लिए (ब) रुद्र शिव मंदिर के लिए
 (स) लक्ष्मण मंदिर के लिए (द) महामाया मंदिर के लिए
4. छत्तीसगढ़ का तीर्थ प्रयाग है-
 (अ) सिरपुर (ब) राजिम
 (स) रतनपुर (द) डोंगरगढ़
5. छत्तीसगढ़ में आदि मानव सभ्यता के प्रारंभिक प्रमाण मिले हैं-
 (अ) बिलासपुर के मल्हार गांव में (ब) तालागांव में
 (स) रायगढ़ के पास सिंधनपुर में (द) खल्लारी की पहाड़ियों में
6. विश्व की प्राचीनतम नाट्यशाला है-
 (अ) सरगुजा में (ब) दंतेवाड़ा में
 (स) रायपुर में (द) बिलासपुर में
7. महाकवि कालिदास ने रचना की-
 (अ) मेघदूत की (ब) महाभारत की
 (स) गीताजंली की (द) रामचरित्रमानस
8. कालिदास ने मेघदूत काव्य की रचना की-
 (अ) सरगुजा जिले की प्राचीनतम नाट्यशाला में
 (ब) रायगढ़ जिले के सिंधनपुर में
 (स) दुर्ग के चितवाडोगरी में
 (द) पांडुका के पास सिरकट्टी में
9. पांडुका गांव के सिरकट्टी में पाए गए हैं-
 (अ) डायनासौर के अवशेष (ब) बदरगाह के अवशेष
 (स) आदि मानव के अवशेष (द) प्राचीन मंदिरों के अवशेष
10. इनमें से किस कवि का संबंध छत्तीसगढ़ से रहा है-
 (अ) बाणभट्ट (ब) कालिदास
 (स) सूरदास (द) सुमित्रानंदन पंत
11. सबसे अधिक वर्षों तक शासन करने वाला राजवंश था-
 (अ) मुगल वंश का (ब) मराठों का
 (स) अंग्रेजों का (द) हैहयवंशी राजाओं का

12. सन् 1854 से 1857 तक छत्तीसगढ़ में शासन किया -

- (अ) मुगलों ने (ब) मराठों ने
(स) गुप्त वंश ने (द) अंग्रेजों ने

13. छत्तीसगढ़ में कलचुरियों का शासन कब तक रहा ?
14. 19 वीं शताब्दी के प्रारंभिक वर्षों में छत्तीसगढ़ के समाज में किन पंथों के विचारधाराओं का प्रभाव पड़ा तथा इनके प्रवर्तक कौन थे?
15. विश्व की सबसे प्राचीनतम नाट्यशाला कहां पर है और क्यों प्रसिद्ध है? इस स्थान पर प्रतिवर्ष होने वाले महोत्सव के बारे में लिखो?
16. वीर नारायण सिंह को क्रांतिकारी नेता कहा जाता है क्यों?
17. छत्तीसगढ़ के आदिमानव सभ्यता के प्रारंभिक प्रमाण किन-किन स्थानों में प्राप्त हुए हैं छत्तीसगढ़ के नक्शों में दर्शाओ?
18. छत्तीसगढ़ के कुछ स्थानों के नाम नीचे दिए गए हैं ये स्थान कहाँ हैं और क्यों प्रसिद्ध हैं उनके सामने लिखिए-

स्थान का नाम	कहाँ स्थित है	प्रसिद्धि का कारण
मल्हार गांव		
तालागांव		
सिरपुर		
राजिम		
रतनपुर		
अंबिकापुर		
दंतेवाड़ा		
भोरमदेव		
बारसुर		

प्रदत्त कार्य

- निम्नलिखित महापुरुषों के चित्रों को एकत्रित कर उनके कार्यों का उल्लेख कीजिए—
पं सुंदरलाल शर्मा, पं रविशंकर शुक्ल, वामनराव लाखे, डॉ खूबचंद बघेल, ठाकुर प्यारे लाल सिंह
- आपके गांव/शहर के आसपास स्वतंत्रता संग्राम में हिस्सा लेने वाले सेनानियों के परिवार वालों से संपर्क कर पता करो कि उन्होंने भारत को आजादी दिलाने के लिए क्या कार्य किया? उनके कार्यों को लिखकर कक्षा में सुनाओ।



उत्तर: कक्षा 8 के विद्यार्थियों को
कक्षा 8 के विद्यार्थियों को

v/; k; & 1 gekjk | fo/kku

1. जनरल डायर का नाम किस घटना से संबंधित है—
 (अ) काल कोठरी की त्रासदी (ब) चौरी चौरा हत्याकांड
 (स) असहयोग आंदोलन (द) जलियावाला बाग हत्याकांड
2. हमारे संविधान की मुख्य विशेषता है—
 (अ) समाजवादी, पंथनिरपेक्ष, लोकतंत्रात्मक गणराज्य
 (ब) समाजवादी, एकात्मक, हिंदूवादगणराज्य
 (स) संघवाद, लोकतंत्रात्मक, एकात्मक गणराज्य
 (द) संघवाद, मौलिकवाद, एकात्मक गणराज्य
3. निम्नलिखित में से कौन सा कारक हमारे लोकतंत्र को सफलता की ओर ले जा सकता है—
 (अ) जातिवाद को बढ़ावा (ब) क्षेत्रवाद का फैलाव
 (स) शिक्षा की कमी (द) पारस्परिक सहयोग
4. संविधान सभा के गठन की आवश्यकता हुई—
 (अ) देश को स्वतंत्र कराने के लिए (ब) देश का शासन सुव्यवस्थित चलाने के लिए
 (स) देश का प्रधानमंत्री चुनने के लिए (द) मंत्री मंडल का गठन करने के लिए
5. संविधान सभा का कार्य था—
 (अ) संविधान लिखना (ब) विभिन्न समस्याओं पर चर्चा करना
 (स) विभिन्न नियमों का निर्माण करना (द) उपरोक्त सभी
6. अवसर की समानता का आशय है—
 (अ) उद्योगपतियों को अधिक अवसर देना (ब) वृद्धों को पेंशन देना
 (स) सभी को समान अवसर देना (द) महिलाओं को नौकरी देना।
7. संविधान को अंगीकृत किया गया—
 (अ) मार्गशीर्ष शुक्ल सप्तमी संवत् 2006 विक्रमी को
 (ब) विक्रम संवत् 2009 को
 (स) चैत्र सप्तमी दो हजार को
 (द) शक संवत् दो हजार को
8. सरकार की मनमानी पर अंकुश लगाती है—
 (अ) न्यायालय (ब) कार्यपालिका
 (स) पुलिस (द) प्रधानमंत्री
9. स्वतंत्रता के बाद हमें संविधान की आवश्यकता क्यों हुई?
10. स्वतंत्रता के पूर्व जब संविधान नहीं था तब हमारे देश की शासन व्यवस्था कैसे चलती थी?
11. हमारे देश में प्रतिवर्ष 26 जनवरी को गणतंत्र दिवस क्यों मनाते हैं?

प्रदत्त कार्य

- आप प्रतिदिन स्कूल जाते हैं, आपके स्कूल के भी बहुत सारे नियम होंगे, सूची बनाकर पता करो इन नियमों को कब बनाया गया, क्यों बनाया गया, किसके द्वारा बनाया गया



v/; k; & 2
eksyd vf/kdkj
vkj dRkD;

1. हमारे संविधान में नागरिकों को कुछ अधिकार दिए गए हैं वे कहलाते हैं—
 (अ) मौलिक कर्तव्य (ब) मौलिक अधिकार
 (स) सूचना का अधिकार (द) शिक्षा का अधिकार
2. एक ही स्थान पर समान कार्य करने के बाद भी औरतों को पुरुषों की तुलना में कम मजदूरी देने से किस अधिकार का हनन होता है?
 (अ) स्वतंत्रता का अधिकार (ब) शोषण के विरुद्ध अधिकार
 (स) धार्मिक स्वतंत्रता का अधिकार (द) समानता का अधिकार
3. मौलिक अधिकार है—
 (अ) शिक्षा एवं संस्कृति का अधिकार (ब) स्कूल जाने का अधिकार
 (स) ऐतिहासिक इमारतों की सुरक्षा (द) पर्यावरण की रक्षा करना
4. 14 वर्ष से कम आयु के बच्चों से किसी कारखाने में काम नहीं करवाया जा सकता क्योंकि—
 (अ) बच्चे काम नहीं कर पाते हैं (ब) यह कानूनी रूप से अपराध है
 (स) बच्चे स्कूल जाते हैं (द) बच्चों के पालक नाराज होंगे।
5. मौलिक अधिकारों का हनन होने पर इसकी रक्षा के लिए जा सकते हैं—
 (अ) मंत्री के पास (ब) सर्वोच्च न्यायालय में
 (स) पुलिस के पास (द) विभागीय अधिकारियों के पास
6. नेपाल का व्यक्ति महाराष्ट्र में बसने के बाद कहलायेगा—
 (अ) अल्प संख्यक (ब) पिछड़ा वर्ग
 (स) बहुसंख्यक (द) प्रवासी
7. राष्ट्रध्वज और राष्ट्रगान का आदर करना —
 (अ) मौलिक अधिकार है (ब) मूल कर्तव्य है
 (स) शैक्षिक कार्य है (द) सरकारी आदेश है
8. कक्षा सातवीं में अध्ययनरत परेश बहुत गरीब है। वह स्कूल न जाकर एक बीड़ी कारखाने में काम करता है तो उसके कौन से अधिकार का हनन हो रहा है? यदि इसके बारे में आपको पता चलता है तो क्या करेंगे?
9. यदि एक गांव में सरकार ने कुआं बनवाया है, वहां का पानी लेने से किसी जाति विशेष को रोक दिया जाए तो उसके किस मौलिक अधिकारों का हनन होगा?
10. किस व्यक्ति से जबरदस्ती काम लेना संविधान के तहत किस मौलिक अधिकार का हनन होगा।
11. गांव के कुछ लोगों के बीच मारपीट और झगड़ा चल रहा है। घटना के समय चैतु राम भी वहां था पुलिस आई ओर चैतुराम को पकड़ कर ले गई इस घटना में चैतुराम के किस अधिकार का हनन हो रहा है, वह अपना बचाव कैसे कर सकेगा?

12. संविधान का आदर करना, देश की स्वतंत्रता, एकता और अखण्डता को बनाए रखना, ये सभी बाते अधिकार हैं या कर्तव्य?
13. निम्न लिखित को मौलिक अधिकारों एवं कर्तव्यों की श्रेणी में विभक्त किजिए—
काम पाने का अधिकार, भ्रमण का अधिकार, पर्यावरण की सुरक्षा, ऐतिहासिक इमारतों की रक्षा, धार्मिक स्थलों में जाना, चुनाव लड़ना, देश की एकता और अखण्डता को बनाए रखना, नागरिकों का सम्मान, शांतिपूर्ण जुलूस निकालना, समानता का व्यवहार संपत्ति की सुरक्षा।
14. एक विद्यार्थी के रूप में आप कौन-कौन से कर्तव्यों का पालन करते हैं?
15. मौलिक कर्तव्यों के पीछे न्यायालयीन शक्तियों का प्रावधान न होने के बाद भी हम इसका पालन क्यों करते हैं?
16. यदि न्यायालय और पुलिस की व्यवस्था न हो तो क्या होगा?

प्रदत्त कार्य

- बाल संरक्षण अधिकार आयोग क्या है? यह किसके लिए काम करता है? इस संबंध में जानकारी एकत्रित कर लिखिए।
- आपके गांव में एक व्यक्ति एक छोटे बच्चे को लेकर करतब दिखाता है तो आप क्या करोगे करतब देखकर मजा लेगे या बाल अधिकार आयोग में शिकायत करेगें। शिकायत दर्ज कैसे करोगे इस संबंध में एक पत्र लिखिए।
- आपके गांव या समाचार पत्र में छपी जनहित संबंधी घटना को लिखो।



v/; k; & 2 dlnzdh | jdkj

1. पूरे देश के लिए कानून बनाती है—
 (अ) राज्य सरकार (ब) स्थानीय सरकार
 (स) केन्द्र की सरकार (द) लोकसभा
2. संसद कहते हैं—
 (अ) प्रधानमंत्री और सांसदों को (ब) राज्य सभा को
 (स) लोक सभा को (द) दोनों सदन और राष्ट्रपति को
3. संसद भवन स्थित है—
 (अ) रायपुर में (ब) मुम्बई में
 (स) दिल्ली में (द) बिलासपुर में
4. एक संसदीय चुनाव क्षेत्र के लिए आवश्यक है—
 (अ) 1 लाख जनसंख्या (ब) 10 हजार जनसंख्या
 (स) 10 लाख जनसंख्या (द) 50 हजार जनसंख्या
5. राज्य सभा के सदस्य होते हैं—
 (अ) 238 सदस्य (ब) 543 सदस्य
 (स) 250 सदस्य (द) 525 सदस्य
6. सचिन तेंदुलकर राज्य सभा के सदस्य बने—
 (अ) लोकसभा चुनाव जीत कर (ब) राज्य सभा का चुनाव जीत कर
 (स) राष्ट्रपति द्वारा मनोनीत कर (द) प्रधानमंत्री द्वारा मनोनीत कर
7. सचिन तेदूलकर राज्य सभा सदस्य बनाए गए क्योंकि—
 (अ) उन्हें खेल के क्षेत्र में ख्याति प्राप्त थी (ब) क्रिकेट के बारे में जानकारी थी
 (स) धनवान थे (द) उन्हें राजनीति में रुचि थी
8. निम्न में से कौन भारतीय संसद का अंग नहीं है—
 (अ) राष्ट्रपति (ब) राज्य सभा
 (स) सर्वोच्च न्यायालय (द) लोकसभा
9. लोकसभा चुनाव 2014 में हुआ, यदि वर्तमान सरकार अपना कार्यकाल पूरा करती है तब आगामी चुनाव कब होगा—
 (अ) 2020 (ब) 2019
 (स) 2015 (द) 2021
10. कार्यपालिका का मुख्य कार्य है—
 (अ) कानून बनाना (ब) न्याय करना
 (स) कानून लागू करना (द) कानून न मानने वाले को सजा देना।
11. अधिकांश लोगो का मानना है कि संसद में महिलाओं के लिए स्थान आरक्षित होना चाहिए निम्न में से कौन ऐसा कानून बना सकता है—
 (अ) सर्वोच्च न्यायालय (ब) राष्ट्रपति
 (स) प्रधानमंत्री (द) संसद

12. कौन किसे चुनता है, दिए गए स्थान में भरो—
पूरे देश के लिए—

जनता मुख्यमंत्री सांसद जनता प्रधानमंत्री विधायक

पूरे राज्य के लिए

13. यदि हम अपना वोट सोच समझकर सही व्यक्ति को न दे तो क्या होगा?

14. इनमें से किन लोगों को जनता चुनती है? किन को सांसद या विधायक चुनते हैं चुनते और कौन नियुक्त किए जाते हैं? राष्ट्रपति, प्रधानमंत्री, लोकसभा सदस्य, राज्य सभा सदस्य सर्वोच्च न्यायालय के न्यायाधीश

15. सरकार पर जनता नियंत्रण कैसे रख सकती है?

प्रदत्त कार्य

- आपको अपने क्षेत्र के विधायक या सांसद से क्या- क्या अपेक्षाएं हैं
- अपने राज्य के विधायकों के नाम एवं उनको प्राप्त पदों के बारे में लिखें
- स्वतंत्र प्राप्ति के बाद से वर्तमान काल तक कितने प्रधानमंत्री बने सूची बनाकर किसी एक प्रधानमंत्री द्वारा किए गए उल्लेखनीय कार्यों का वर्णन करो।



v/; k; & 4

dj

1. सरकार को आय प्राप्त होती है—
 (अ) बजट से (ब) मंत्रीपरिषद से
 (स) संसद से (द) कर से
2. आय-व्यय का लेखा-जोखा कहलाता है—
 (अ) कर (ब) बहीखाता
 (स) बजट (द) इन्टरनेट
3. उत्पादन कर लगता है—
 (अ) गेहूं पर (ब) शक्कर पर
 (स) सागसब्जी पर (द) धान पर
4. सीमाशुल्क लगाया जाता है—
 (अ) वस्तुओं के निर्यात करने पर
 (ब) वस्तुओं के उपभोग पर
 (स) वस्तुओं का एक देश से दूसरे देश ले जाने पर
 (द) वस्तुओं के वितरण पर
5. व्यक्ति की आमदानी पर लगाया जाता है—
 (अ) बिक्री कर (ब) सीमा कर
 (स) उत्पादन कर (द) आयकर
6. सरकार का कर्तव्य है कि वह—
 (अ) ज्यादा से ज्यादा कर लगाए
 (ब) कम कर लगाए
 (स) कर द्वारा प्राप्त आय का सही उपयोग करे
 (द) सभी वस्तुओं पर कर लगाए
7. सार्वजनिक सुविधाएं होती हैं—
 (अ) सभी के लिए (ब) बच्चों के लिए
 (स) अमीरों के लिए (द) महिलाओं के लिए
8. सार्वजनिक सुविधाएं उपलब्ध कराई जाती हैं—
 (अ) नेता द्वारा (ब) सरकार द्वारा
 (स) उद्योगपति द्वारा (द) अधिकारियों द्वारा
9. शासकीय सेवा में कार्यरत किन कर्मचारियों को कर देना पड़ता है और क्यों?
10. सरकार बिक्री कर के अलावा और कौन-कौन से कर लगाती है?
11. भारत में कृषि आयकर मुक्त है किन्तु शक्कर कारखानों के मिल मालिकों को कर देना पड़ता है क्यों?

12. दीप्ति का कहना है कि सरकारी खजानों में हमारा पैसा है किन्तु कीर्ति कहती है कि सरकारी खजाने में बिल्कुल नहीं। आप इन दोनों के विचारों में से किसके विचारों से सहमत है कारण सहित लिखिए?
13. मिट्टी के तेल पर कर बढ़ाने का प्रभाव किन लोगों पर होगा और क्यों?
14. फ्रिज, मोटरसाइकिल, कार आदि पर कर बढ़ाने का प्रभाव किन लोगों पर होगा सहित लिखिए?
15. आमदनी पर कर या वस्तुओं पर कर इन दोनों में से कौन से कर का असर अमीरों पर अधिक पड़ता है और कौन से कर का गरीबों पर? कारण बताओ।
16. माचिस, घड़ी, कपड़ा, डीजल इनमें से कौन सी वस्तुओं पर कर बढ़ाने से दूसरी बहुत सी वस्तुओं के भाव पर असर होगा और क्यों?
17. खाने की चीजें जैसे अनाज, नमक, दाल, तेल आदि का उपयोग सभी करते हैं किन्तु ऐसा क्यों कहा जाता है कि इन चीजों पर कर लगाने से गरीबों पर अधिक असर होगा?
18. सरकार को आमदनी कहां से होती है प्राप्त आमदनी का उपयोग सरकार किन-किन चीजों पर करती है?

प्रदत्त कार्य

- आप के घर वाले कौन-कौन सा कर देते हैं? कब देते हैं? कहां देते हैं विवरण लिखें।
- दैनिक जीवन में आप कौन-कौन सी वस्तुओं का उपयोग करते हैं जिन पर आपको विक्रय कर देना पड़ता है। सूची बनाइये?



v/; k; & 5 Hkkj r ead f" k dk fodkl

1. हरित क्रांति की शुरुवात उन क्षेत्रों में हुई जहां—
 (अ) सिंचाई की पर्याप्त सुविधा थी
 (ब) किसान ज्यादा पढ़े लिखे थे
 (स) सरकार किसानों को ऋण देती थी
 (द) किसानों के पास बड़े बड़े फार्म हाउस थे
2. हरित क्रांति के मुख्य घटक थे—
 (अ) उन्नतशील बीजों का उपयोग
 (ब) सिंचाई व्यवस्था
 (स) रासायनिक खाद
 (द) उपरोक्त सभी
3. भारत में हरित क्रांति की शुरुवात हुई—
 (अ) पंजाब, हरियाणा, तमिलनाडू
 (ब) पंजाब, राजस्थान, गुजरात
 (स) हरियाणा, मध्यप्रदेश, छत्तीसगढ़
 (द) तमिलनाडू, केरल, असम
4. भारतीय खाद्य निगम का गठन किया गया—
 (अ) अनाज उगाने के लिए
 (ब) किसानों को सुविधा देने के लिए
 (स) किसानों को ऋण देने के लिए
 (द) अनाज खरीदने एवं उसका भंडारण के लिए
5. स्वतंत्रता के बाद भारत में कृषि विकास के लिए क्या-क्या योजनाएँ लागू की गईं?
6. स्वतंत्रता पूर्व एवं स्वतंत्रता के बाद की कृषि में क्या अंतर था?
7. समर्थन मूल्य क्या है? यह किसानों के लिए लाभदायक है या हानिकारक कारण सहित लिखिए?
8. हरित क्रांति से कृषि में क्या-क्या फायदे व नुकसान हैं?

प्रदत्त कार्य

- पता करो कि आपके गांव के किसान अधिक फसल लेने के लिए क्या-क्या तरीके अपनाते हैं?
- पता करो कि धान एवं गेहूं का समर्थन मूल्य से किसानों को कैसे लाभ होता है कैसे?
- सरकार कोई व्यापारी नहीं है फिर भी वह किसानों से हजारों टन अनाज क्यों खरीदती है?
- सरकार किसानों को क्या-क्या सुविधाएं देती है पता कर लिखो? आपके क्षेत्र में कृषि में क्या-क्या समस्याएं थी तीन चार वाक्यों में लिखो?



v/; k; & 6 I a Qr jk"V"l ak

1. **संयुक्त राष्ट्रसंघ की स्थापना की—**
 - (अ) मानव कल्याणकारी कार्यो को बढ़ावा देने के लिए
 - (ब) परस्पर सहयोग से विकास करने के लिए
 - (स) विभिन्न देशों के मध्य शांति स्थापित करने के लिए
 - (द) उपरोक्त सभी
2. **हमारे देश में पोलियो उन्मूलन कार्यक्रम चलाया जाता है—**
 - (अ) केन्द्र सरकार द्वारा
 - (ब) विश्व स्वास्थ्य संगठन द्वारा
 - (स) यूनेस्को द्वारा
 - (द) राज्य सरकार द्वारा
3. **विश्व के विभिन्न देशों में साक्षरता, बालिका शिक्षा, प्रौढ़शिक्षा के लिए कार्य करती है—**
 - (अ) यूनीसेफ
 - (ब) यूनेस्को
 - (स) विश्व स्वास्थ्य संगठन
 - (द) सर्व शिक्षा अभियान
4. **संयुक्त राष्ट्र संघ का कार्यालय है—**
 - (अ) न्यूयार्क
 - (ब) पेरिस
 - (स) जिनेवा
 - (द) जापान
5. **संयुक्त राष्ट्र संघ के वर्तमान में सदस्य देशों की संख्या है—**
 - (अ) 51
 - (ब) 191
 - (स) 158
 - (द) 256
6. **24 अक्टूबर को मनाया जाता है—**
 - (अ) गांधी जयंती
 - (ब) कौमी एकता
 - (स) संकल्प दिवस
 - (द) संयुक्त राष्ट्र संघ दिवस
7. **संयुक्त राष्ट्र संघ का अंग नहीं है—**
 - (अ) न्यास परिषद
 - (ब) सचिवालय
 - (स) संसद
 - (द) सामान्य सभा
8. **संयुक्त राष्ट्र संघ की विशेष संस्थाएँ हैं—**
 - (अ) अंतर्राष्ट्रीय श्रम संगठन
 - (ब) खाद्य एवं कृषि परिषद
 - (स) अंतर्राष्ट्रीय मुद्रा कोष
 - (द) उपरोक्त सभी
9. संयुक्त राष्ट्र संघ के पास उसकी अपनी कोई सेना नहीं होती फिर भी वही विश्व में शांति स्थापना हेतु कैसे कार्य करता है?
10. संयुक्त राष्ट्र संघ में भारत की क्या भूमिका है?
11. भारत में संयुक्त राष्ट्र संघ की कौन-कौन संस्थाएँ कार्य कर रही हैं?
12. विश्व स्वास्थ्य संगठन द्वारा भारत में किन-किन बीमारियों के लिए टीकाकरण का कार्यक्रम चलाया जा रहा है?

प्रदत्त कार्य

- प्रतिवर्ष 24 अक्टूबर को संयुक्त राष्ट्र संघ दिवस मनाया जाता है। इस दिन के बारे में समाचार पत्र/पत्रिका/दूरदर्शन में जो भी जानकारी मिलती है उसे लिख कर लाओ?
- पोलियो क्या है, यह किन लोगों को होता है? इस बीमारी के क्या लक्षण हैं? इस की दवा किनको पिलाई जाती है? पोलियो से ग्रसित लोगों को जीवन व्यापन में क्या-क्या समस्याएँ होती हैं? आप पोलियो ग्रसित व्यक्ति की किस तरह मदद कर सकते हैं?
- आपके गांव/शहर में यूनीसेफ कौन-कौन सा कार्य कर रही है पता कर लिखो। यूनीसेफ द्वारा निर्मित ग्रिटिंग कार्ड को एकत्रित कर अपने पोर्टफोलियो में रखो और इस पर एक कविता या अपने विचार लिखो



✓/; k; & 7 Hkkj r dh fon's k uhfr

1. भारत और चीन के मध्य हुए समझौते का कहते हैं—
 (अ) पंचशील (ब) पंचमील
 (स) गुटनिरपेक्ष (द) इनमें से कोई नहीं
2. किसी अन्य देश में जाने के लिए आवश्यक है—
 (अ) वीजा (ब) पासपोर्ट
 (स) दोनों (द) इनमें से कोई नहीं
3. किसी भी गुट में शामिल न होने वाले देशों के संघ को कहते हैं—
 (अ) संयुक्त राष्ट्र संघ (ब) सार्क
 (स) गुटरिनपेक्ष (द) आशियान
4. वीजा प्रदान किया जाता है—
 (अ) भारत सरकार द्वारा
 (ब) राज्य सरकार द्वारा
 (स) घूमने जाने वाले देश की सरकार द्वारा
 (द) संयुक्त राष्ट्र संघ द्वारा
5. किसी देश के विदेश नीति को प्रभावित करने वाले कारक कौन-कौन से होते हैं?
6. संपूर्ण प्रभुत्व संपन्न राष्ट्र से क्या आशय है?
7. भारत का बांग्लादेश और अमेरिका के साथ संबंध में क्या अंतर होगा?



v/; k; & 8 I puk dk vf/kdkj

1. सूचना के अधिकार 2005 के अधिकारों का उपयोग कर सकता है—
 (अ) कोई भी भारतीय नागरिक (ब) केवल उस कार्यक्षेत्र में आने वाले नागरिक
 (स) विदेशी नागरिक (द) उपरोक्त सभी
2. सूचना के अधिकार के तहत मांगी गई जानकारी में गलत /देरी से सूचना देने पर प्रत्येक दिन कितना जुर्माना किया जाता है—
 (अ) 25 /— (ब) 250 /—
 (स) 2500 /— (द) 25000 /—
3. सूचना के अधिकार के अंतर्गत सूचना प्राप्त करने के लिए आवेदन के साथ फीस (शुल्क) जमा करना होता है—
 (अ) 250 /— (ब) 100 /—
 (स) 10 /— (द) 25 /—
4. सूचना के अधिकार के अंतर्गत इच्छित सूचना कितने दिनों के अंदर प्रदान करना आवश्यक है—
 (अ) 10 दिन (ब) 15 दिन
 (स) 20 दिन (द) 30 दिन
5. सूचना का अधिकार निम्न पर लागू होता है—
 (अ) प्राइवेट संस्था पर
 (ब) सरकारी संस्था पर
 (स) दोनों पर
 (द) कभी प्राइवेट संस्था पर और कभी-कभी सरकारी संस्था पर
6. सूचना का अधिकार का कानून हमारी किस प्रकार सहायता करता है?



ekMy vkUl j , Oa
ekMy i t u i =

// // मॉडल ऑसर // // कक्षा – 6

इतिहास के स्रोत

1. (अ) पुराने समय की बातों को।
2. (ब) चित्र बनाकर कहते थे।
3. (ब) रायगढ़ जिला।
4. (अ) पत्थर पर खोदकर लिखी बातों को।
5. (अ) इतिहासकार।
6. (अ) सिरपुर में।
7. (अ) रायपु
8. र में।
9. (स) लकड़ी के स्तम्भ।
10. (अ) शैल चित्र।
11. (अ) प्राचीन दुर्लभ वस्तुओं का संग्रह।
12. (अ) उस समय के सामाजिक जनजीवन का।

अध्याय – 1 आदिमानव

1. (अ) आग का ज्ञान नहीं था।
2. (द) उपरोक्त सभी में।
3. (ब) पत्थर आसानी से मिल जाते थे।
4. (स) कुत्ता।
5. (ब) दो तीन साल तक फसल उगाने के बाद उसे खाली छोड़ दिया जाता है।

अध्याय – 2 सिंधु घाटी की सभ्यता

1. पाकिस्तान के पंजाब एवं सिंध प्रांत में।
2. (ब) नगरीय सभ्यता।
3. (स) निश्चित योजना के अनुसार।
4. (स) सिंधु नदी के किनारे।
5. (अ) सुनियोजित नगर।
6. (स) 2006 ई. पूर्व से 1900 ई. पूर्व
7. (अ) भारत के उत्तर पश्चिम दिशा में
8. उपरोक्त सभी जगह।
9. (अ) जलमार्ग में।
10. (अ) समुद्र के किनारे स्थित वह स्थान जहाँ जहाज खड़ा किया जाता है।
11. (अ) लोहे का।

अध्याय – 3 वैदिक काल

1. (ब) वैदिक काल।
2. (अ) आर्यों द्वारा।
3. (अ) संस्कृत।
4. (द) ऋग्वेद।
5. (अ) पालतू पशुओं से परिचित थे।
6. (अ) रथ।
7. (अ) लोहा।
8. (अ) गृहपति।
9. (अ) अच्छी तरह से बाले गए थे।
10. (द) ऋग्वेद।
11. ईसा मसीह जन्म के समय से।
12. (अ) वैदिक काल।

अध्याय – 4 महाजनपद काल

1. (अ) 16
2. (अ) वंशानुगत।
3. (अ) उज्जैन।
4. (स) राजगृह।
5. (अ) बिम्बिसार।
6. (द) घनानंद।
7. (अ) वस्तु के बदले वस्तु से।
8. (अ) टुकड़ों पर ठप्पा लगाकर।
9. सुगम
10. अ
11. छटवाँ

अध्याय – 5 नवीन धार्मिक विचारों का उदय

1. (अ) जैन
2. (अ) जैन
3.
4. (स) वर्धमान
5. (स) मृत्यु
6. (ब) सिद्धार्थ
7. (ब) पीपल

8. (ब) सारनाथ
9. (अ) प्राकृत
10. (ब) बौद्धधर्म की शिक्षा

अध्याय – 6 मौर्यवंश एवं राजा अशोक

1. (अ) चन्द्रगुप्त
2. (अ) अर्थशास्त्र
3. (अ) अशोक
4. (ब) कर्म
5. (ब) प्राकृत
6. (अ) कलिंग
7. (अ) बड़े अधिकारी को
8. (ब) बौद्धधर्म

अध्याय – 7 विदेशों से व्यापार और संपर्क

1. (ब) व्यापारियों का
2. (अ) जंगल से गुजरते थे
3. (ब) जलमार्ग से
4. (अ) कनिष्क
5. (अ) चांदी एवं तांबा से
6. (अ) ठप्पा लगाकर
7. (अ) चिकित्सा शास्त्र

अध्याय – 8 गुप्त काल

1. (अ) दक्षिण
2. (ब) वापस कर दिया
3. (अ) पटना

4. (अ) इलाहाबाद में
5. (ब) उन्हें लौटा दिया
6. (ब) चीन
7. (स) वैष्णव
8. (अ) आर्यभट्ट
9. (अ) बराहमिटर
10. (अ) संस्कृत
11. (स) सिरपुर

अध्याय– 9 प्रातीय राजव्यों का युग

1. (अ) थानेश्वर
2. (अ) हर्षवर्धन
3. (अ) कन्नौज उसके राज्य के ठीक बीच में पड़ता था
4. (ब) बाणभट्ट
5. (ब) बाणभट्ट
6. (अ) ह्यानतसांग
7. (अ) शिव
8. (अ) चीन
9. (अ) राजा शिक्षा का संरक्षक था
10. (अ) सिरपुर
11. (स) नृसिंहवर्मन
12. (अ) वातापी
13. (अ) चट्टान खोदकर गुफाएँ व मंदिर बनावए
14. (द) कांचीपुरम
15. (अ) पल्लव
16. (ब) महाबलिपुरम



नागरिकशास्त्र खण्ड

अध्याय-1 परस्पर निर्भरता

1. (द) एक दूसरे पर
2. (अ) आवश्यकताओं की पूर्ति के लिए एक दूसरे पर निर्भर होना
3. (अ) आयात-निर्यात करते हैं
4. (द) परस्पर निर्भरता है
5. (स) यहाँ शक्कर का उत्पादन कम होता है
6. (अ) यहाँ चावल का उत्पादन अधिक होता है
7. (अ) परस्पर निर्भर होते हैं

अध्याय- 2 कातिक और केकती का गांव

1. (स) हाफनदी
2. (अ) बिलासपुर जिले से
3. (ब) रेती की बोरियो से
4. (अ) आम के बगीचे को
5. (द) उपरोक्त सभी कारणों से
6. (ब) उसको समझाओगे कि पढ़ाई करना अच्छी बात है

अध्याय – 3 पंचायती राज

1. (ब) सरपंच
2. (अ) पंच
3. (अ) जनसंख्या के आधार पर
4. (ब) चुनाव लड़ने वाले को
5. (अ) उस वार्ड के सभी मतदाता
6. (ब) उस ग्राम पंचायत के सभी मतदाता
7. (स) सभी पंच एवं सरपंच
8. (स) उसकी आयु 21 वर्ष से कम है
9. (अ) 21 वर्ष से अधिक

10. (ब) निर्विरोध
11. (अ) प्रत्येक पाँच वर्ष में
12. (ब) 2014 में
13. (अ) सभी वर्गों को प्रतिनिधित्व देना
14. (ब) त्रिस्तरीय
15. (स) सभी जनपद पंचायत सदस्यों द्वारा

अध्याय- 4 नगरपालिका और नगरनिगम

1. (ब) नगर पालिका
2. (ब) पार्षद
3. (ब) अपने वार्ड की

अध्याय – 5 जिला प्रशासन

1. (स) कलेक्टर
2. (ब) जिला
3. (ब) बिलासपुर
4. (अ) जिला दण्डाधिकारी
5. (ब) राजस्व

अध्याय- 6 सार्वजनिक संपत्तियाँ

1. (अ) सबका अधिकार होता है
2. (ब) निजी संपत्ति
3. (स) सबके लिए उपयोगी होती है
4. (स) मेरा विद्यालय

अध्याय – 7 बच्चों के अधिकार

1. (अ) हमारे अधिकार
2. (स) विद्यालय न जाना



भूगोल खण्ड

अध्याय-1 मानचित्र का अध्ययन

1. (ब) दाहिनी ओर
2. (द) उपरोक्त सभी के द्वारा
3. (अ) दूरी ज्ञात करने के लिए
4. (स) मानचित्र एवं जमीन की वास्तविक दूरी के अनुपात को
5. (स) 55 किलोमीटर
6. (द) उपरोक्त सभी
7. (अ) बिना पैमाने और दिशा के बनाया गया चित्र
8. (ब) पूरे विश्व के लिए एक समान

अध्याय-2 ग्लोब का अध्ययन

1. (ब) पृथ्वी का आकार
2. (द) 21 मार्च एवं 23 सितंबर को
3. (अ) घटता है
4. (द) विषुक्त रेखा
5. (अ) भूमध्य रेखा
6. (अ) भूमध्य रेखा
7. (अ) 12 घंटे
8. (ब) ग्रीनविच रेखा के विपरीत दिशा में
9. (द) सभी

अध्याय-3 पृथ्वी का परिमंडल

1. (द) अंटार्कटिक महाद्विप
2. (अ) उत्तर अमेरिका, दखिण अमेरिका, यूरोप एवं अफ्रीका के मध्य
3. (अ) मैदीन क्षेत्र में
4. (अ) बस्तर जिले में
5. (अ) भोजन
6. (ब) जलमार्ग
7. (अ) नदियों द्वारा लाए गये अवसादों के जमाव से

अध्याय-4 पहाड़ी गांव उपरवेदी

1. (स) अत्यधिक ऊंचे, तीव्रढाल एवं शिखरयुक्त क्षेत्र को
2. (ब) तीव्र
3. (अ) उबड़-चाबड़
4. (अ) जंगल

5. (द) कोदो-कुटकी
6. (स) हर्षा, बहेरा, तेंदू
7. (ब) रस निकालकर पीने में
8. (द) मनोरंजन एवं सांस्कृतिक केंद्र
9. (ब) घोटुल
10. (अ) कांकेर जिले में
11. (स) अबूझमाड़ की पहाड़ियाँ

अध्याय-5 मैदानी क्षेत्र रिसदा

1. (अ) नदियों द्वारा बहाकर लाई गई मिट्टी से
2. (अ) उपजाऊ
3. (स) ढालमंद होता है
4. (द) उपरोक्त सभी
5. (द) उपरोक्त सभी
6. (ब) पानी अधिक समय तक ऊपरी सतह पर रूकता है
7. (द) मैदानी क्षेत्रों में
8. (स) यहाँ की मिट्टी नरम होती है
9. (ब) गैहूँ चना पटर
10. (अ) मिट्टी का नाम
11. (अ) समतल
12. (अ) पीली मटासी मिट्टी
13. (अ) शिवनाथ
14. (अ) धान

अध्याय-6 पठारी गांव चाल्हा

1. (द) ऊर्चे एवं समतल क्षेत्र को
2. (स) दोना पत्तल
3. (स) गहरा कुँआ
4. (अ) तेल निकालने में
5. (द) जंगल में
6. (स) बीड़ी

अध्याय-7 विविधताओं का महाद्वीप एशिया

1. (अ) एशिया
2. (अ) वह बड़ा भूभाग जो चारों ओर जल से घिरा हो
3. (ब) जहाँ जल प्राकृतिक रूप से एकत्र हो जाता है

4. (अ) भारत में
5. (ब) कटीली झाड़ियाँ
6. (अ) गर्म एवं शुष्क
7. (स) वर्ष के तीन चार माह वर्षा
8. (अ) तिब्बल का पठार
9. (अ) उत्तरी गोलार्ध में
10. (अ) यह ध्रुवी प्रदेश की ओर बहती है

अध्याय—8 द्वीपों के देश इंडोनेशिया

1. (अ) वह छोटा भूभाग जो चारों ओर से समुद्र से घिरा हो
2. (अ) इन द्वीपों के चारो ओर जल ही जल हों
3. (अ) सालभर वर्षा और गर्मी
4. (द) उपरोक्त सभी
5. (ब) ये वन सदैव हरे भरे रहते हैं
6. (अ) यह भूमध्य रेखा पर स्थित है
7. (ब) पहाड़ी ढालानों पर
8. (अ) मिट्टी के कटाव को रोका जा सकता है
9. (स) अधिक वर्षा और अधिक गर्मी
10. (द) बागाती कृषि
11. (अ) स्थानांतरित खेती

अध्याय—9 उगते सूरज का देश जापान

1. (द) जापान एक चौड़ा मैदानी क्षेत्र है
2. (ब) जापान
3. (ब) जापान में
4. (अ) सालभर हरे भरे रहते हैं।
5. (अ) पहाड़ी ढालानों पर?
6. (अ) खेत में काम करने के लिए मजदूर नहीं मिलते
7. (ब) चाय की खेती को बहते हुए पानी की आवश्यकता होती है
8. (स) शहतूत के पेड पर
9. (ब) विषैली पछलियों के खाने से

अध्याय—10 टुंड्राप्रदेश

1. (स) टुंड्रा प्रदेश में
2. उ- साइबेरिया में
3. (द) खेती करना
4. (ब) बिना पहिए की गाड़ी
5. (द) बर्फ से
6. (अ) एक नुकीला औजार
7. (स) सूर्य की किरणें वर्ष भर तिरछी पड़ती हैं।



आदर्श प्रश्न पत्र
कक्षा— 6वीं प्रथम सेमेस्टर
विषय— सामाजिक विज्ञान

समय— दो घण्टे

पूर्णांक—50

निर्देश— सही उत्तर चुन कर लिखिए

(प्रत्येक में 2 अंक)

- गौतम बुद्ध ने अपना पहला उपदेश कहा दिया था?
(अ) लुम्बिनी में (ब) सारनाथ में
(स) कुशीनगर में (द) वैशाली में
- अशोक ने अपने विचार सम्मों और पट्टानों पर किस भाषा में खुदवाए—
(अ) संस्कृत (ब) प्राकृत
(स) हिंदी (द) भोजपुरी
- सम्राट अशोक के समय सिक्के बनते थे—
(अ) चांदी एवं तांबा से (ब) लोहा एवं तांबा से
(स) लोहा एवं पीतल से (द) एल्यूमिनियम से
- जिल दण्डाधिकारी कहते हैं—
(अ) लहसीलदार को (ब) कमिश्नर को
(स) कलेक्टर को (द) न्यायाधीश को
- इनमें से कौन सार्वजनिक संपत्ति का उदाहरण है?
(अ) मेरा घर (ब) मेरी सायकिल
(स) मेरी पुस्तक (द) मेरा विद्यालय
- पहाड़ों पर जनसंख्या कम होती है क्योंकि—
(अ) वहाँ प्राकृतिक आपदायें अधिक होती हैं
(ब) वहाँ जंगली जानवर अधिक पाए जाते हैं
(स) वहाँ की भूमि अनुपजाऊ होती है
(द) वहाँ स्कूल नहीं होते
- कम वर्षा वाले क्षेत्रों में पाया जाता है—
(अ) घने वन (ब) कटीली झाड़ियाँ
(स) घास के मैदान (द) कोणधारी वृक्ष
- टुण्ड्रा प्रदेश के लोगों का व्यवसाय नहीं है
(अ) पशुपालन (ब) शिकार करना
(स) मछली मारना (द) खेती करना

लघु उत्तरीय प्रश्न—

(प्रत्येक में 4 अंक)

9. सम्राट अशोक ने कलिंग युद्ध जीतने के बाद कभी युद्ध न करने का संकल्प क्यों लिया?
10. नगरपालिका और नगरनिगम में अंतर लिखिए।
11. आप पहाड़ी, मैदानी और पठारी क्षेत्र में से किस क्षेत्र में रहना पसंद करेंगे और क्यों?
12. विभिन्न प्रकार की सभ्यताओं का विकास नदियों के किनारे ही क्यों हुआ ? कारण बताइये।

दीर्घ उत्तरीय प्रश्न

(प्रत्येक में 6 अंक)

13. गुप्त काल के वास्तुकला और चित्रकला के बारे में विस्तार से लिखिए।
14. यदि हमारे लिए सार्वजनिक संपत्तियों की सुविधाएँ नहीं होती तो नि-किन कठिनाइयों का सामना करना पड़ेगा?
15. टुण्ड्रा प्रदेश के लोगों को रेन डियर से क्या-क्या लाभ है? लिखिए।



आदर्श प्रश्न पत्र -
कक्षा- 6वीं प्रथम सेमेस्टर
विषय- सामाजिक विज्ञान

समय- दो घण्टे

पूर्णांक-50

निर्देश- सही उत्तर चुन कर लिखिए

(प्रत्येक में 2 अंक)

- बहुत समय पहले लोग लिखना-पढ़ना नहीं जानते थे, इसलिए व अपनी बात-
(अ) संकेतों में कहते थे (ब) चित्र बनाकर कहते थे
(स) लिखकर कहते थे (द) मानचित्र बनाकर कहते थे
- आदिमानव को बर्तनों एवं चुल्हों की जरूरत नहीं होती थी, क्योंकि उन्हें-
(अ) आग का ज्ञान नहीं थे (ब) भोजन पकानो नहीं चाहते थं
(स) पका हुआ भोजन अच्छा नहीं लगता था (द) उनका स्थायी निवास नहीं था
- हड़प्पा संस्कृति का विकास हुआ-
(अ) गंगा नदी के किनारे (ब) महानदी के किनारे
(स) सिंधु नदी के किनारे (द) चिनाव नदी के किनारे
- परस्पर निर्भरता का आशय है-
(अ) अपनी आवश्यकता की पूर्ति के लिए दूसरे पर निर्भर होना
(ब) आवश्यकताओं की पूर्ति के लिए एक दूसरे पर निर्भर होना
(स) अपनी आवश्यकताओं की पूर्ति स्वयं करना
(द) अपनी आवश्यकता की पूर्ति स्वयं करना
- बाँध बनाए जाते हैं-
(अ) मछली पकड़ने के लिए (ब) विद्युत उत्पादन और सिंचाई के लिए
(स) बाढ़ का पानी रोकने के लिए (द) उपरोक्त सभी कारणों से
- नक्शे में पैमाना बनाया जाता है
(अ) दूरी ज्ञात करने के लिए (ब) ऊँचाई ज्ञात करने के लिए
(स) दिशा ज्ञात करने के लिए (द) स्थलाकृतियों को जानने के लिए
- वह अशांश रेखा जिस पर दिन रात की अवधि बराबर होती है-
(अ) भूमध्य रेखा (ब) उत्तरी ध्रुव रेखा
(स) दक्षिणी ध्रुव रेखा (द) कर्क रेखा

8. आवागमन का सबसे सस्ता साधन है—

- (अ) वायुमार्ग
(स) रेलमार्ग

- (ब) जलमार्ग
(द) सड़कमार्ग

लघु उत्तरीय प्रश्न—

(प्रत्येक में 4 अंक)

9. महाजनपद काल के जनजीवपन का वर्णन अपने शब्दों में कीजिए।
10. जनपद पंचायत के प्रमुख कार्यों को लिखिए।
11. भूमध्य रेखा पर सूर्य की किरणें वर्षभर सीधी क्यों पड़ती हैं?
12. महासागरों से हमें क्या-क्या लाभ हैं?

दीर्घ उत्तरीय प्रश्न

(प्रत्येक में 6 अंक)

13. वैदिक काल की शासन व्यवस्था और वर्तमान काल की शासन व्यवस्था में अंतर स्पष्ट कीजिए।
14. अपने गांव और स्कूल की जानकारी देने के लिए अपने शिक्षक को एक पत्र लिखिए।
15. पहाड़ी क्षेत्र के लोगों के रजन-सहन खान-पान व्यवसाय शिक्षा व अन्य सुविधाओं की जानकारी लिखिए।



आदर्श उत्तर कक्षा - 7

इतिहास खण्ड

अध्याय - 1: पिछली कक्षा में आपने पढ़ा

1. (ब) लकड़ी और पत्थरों के
2. (अ) गंगा यमुना नदी के किनारे
3. (स) सप्त सिंधु प्रदेश
4. (ब) पशुपालन
5. (अ) यज्ञ
6. (स) महाजनपद
7. (अ) सिक्कों में
8. (द) संस्कृत
9. (स) सिरपुर में

अध्याय - 2: छोट - छोटे राज्यों का विकास

1. (अ) कर्मचारी थे
2. (अ) छत्तीसगढ़
3. (अ) छेवताओं व ऋषियों से
4. (ब) तम्रपत्र में
5. (अ) दलराम राव
6. (स) कवि दलराम राव
7. (अ) राजाओं का यशगान करना
8. (ब) दलराम राव ने अपनी कविता में

अध्याय - 3: जीवन में आया बदलाव

1. (ब) देवदान
2. (अ) लगान इकट्ठा करना
3. (अ) तमिलनाडू
4. (ब) केवल शिव व विष्णु की ही उपासना करते थे।
5. (ब) नायनार
6. (द) 650 ई. से 1200 ई. तक
7. (अ) उड़ीसा में
8. (अ) कल्पूरी शासकों ने
9. (अ) कश्माक परिवार के मुखिया

अध्याय - 4: दिल्ली सल्तनत की स्थापना

1. (ब) 84 वर्ष
2. (स) तुर्कों का राज्य
3. (ब) सुल्तान
4. (अ) मुहम्मद गोर
5. (स) तराईन
6. (स) तराईन
7. (द) तुर्कों का
8. (अ) कुतुबुद्दीन ऐबक
9. (ब) कुतुबुद्दीन ऐबक
10. (अ) कुतुबुद्दीन ऐबक
11. (स) इलतुतमिश
12. (अ) बेटी

अध्याय - 5 दिल्ली सल्तनत का विस्तार

1. (ब) जलालुद्दीन खल्जी
2. (ब) अलबरूनी
3. (ब) जलालुद्दीन खल्जी
4. (ब) अमीर खुसरो
5. (द) देवगिरी
6. (अ) उपज का आधा हिस्सा
7. (ब) मंगोल
8. (ब) धन प्राप्त करना
9. (अ) तुगलक वंश
10. (ब) गयासुद्दीन तुगलक
11. (स) तुगलकाबाद
12. (ब) व्यक्ति की योग्यता
13. (अ) हुलिया प्रथा

अध्याय - 6 सल्तनत कालीन जनजीवन

1. (स) अमीर खुसरो
2. (द) उपरोक्त सभी
3. (स) सुल्तनत काल

4. (स) इस्लाम
5. (द) मूर्तिपूजा

अध्याय – 7 मुगल साम्राज्य की स्थापना

1. (स) लगभग दो सौ वर्षों तक
2. (द) लोदी वंश
3. (ब) बाबर
4. (ब) सन् 1526 ई.
5. (स) बाबर और इब्राहीम लोदी के बीच
6. (ब) राणा सांगा की हार हुई
7. (ब) अकबर ने
8. (अ) अबुलफजल
9. (स) तुजुक-ए-बाबरी
10. (अ) तुर्की भाषा में
11. (द) हुमायूँ
12. (स) ईरान के शाह
13. (द) सीढियों से पाँव फिसलने से
14. (अ) बिहार के सासाराम में
15. (स) शेरशाह ने
16. (द) दाम
17. (स)रूप्या
18. (अ) अकबर ने
19. (ब) अफगान सरदार का
20. (ब) अबुल फजल की
21. (द) वीरनारायण सिंह
22. (अ) गोण्डवाना की
23. (ब) आसफ खॉ
24. (स) रतनपुर
25. (ब) कल्वरी वंश
26. (स) फतेहपुर सीकरी
27. (अ) जगीर
28. (अ) शेरशाह का
29. (अ) सन् 1545 ई. में
30. (स) बैरम खॉ
31. (अ) संरक्षक
32. (द) अकबर

33. (स) अकबर व राणा प्रताप के बीच
34. (अ) अकबर की
35. (अ) चौरागढ़
36. (स) रानी दुर्गावती

अध्याय – 8 विरोध और विद्रोह का समय

1. (अ) पचास वर्षों तक
2. (ब) शाहजहाँ
3. (ब) शाहजहाँ के काल में
4. (ब) खराब थी
5. (द) असम में
6. (स) पश्चिमी पहाड़ी भाग
7. (ब) जीजाबाई
8. (ब) अशाह जी भोंसले
9. (द) अफजल खॉ
10. (अ) सूरत
11. (स) छापामार युद्ध
12. (ब) राजा जयसिंह
13. (ब) छत्रपति
14. (अ) सन् 1674 में
15. (अ) सन् 1674 में
16. (स) औरंगजेब के दरबार में
17. (ब) कलपुरी राजा

अध्याय – 9 मुगलकालीन जनजीवन

1. (स) बादशाह
2. (अ) कल्युरियों का
3. (ब) इस्लाम धर्म के
4. (द) गोपाल मिश्र
5. (ब) कबीर पंश का
6. (स) दामाखेड़ा
7. (द) शवितपूजा
8. (ब) कृषि प्रधान था
9. (स) एक-तिहाई भाग
10. (अ) ईरानी व मध्य एशियाई कला का

नागरिक शास्त्र खण्ड

अध्याय - 1: देश और राज्य

1. (स) पाकिस्तान
2. (स) श्रीलंका
3. (स) कर्नाटका
4. (ब) केंद्र सरकार का
5. (स) मुंबई
6. (अ) 28
7. (ब) भारत का राज्य

अध्याय - 2: राज्य की सरकार

1. (स) 90
2. (अ) उम्मीदवार
3. (अ) 46
4. (अ) 18 वर्ष से अधिक का नागरिक
5. (द) लल पार्टी
6. (स) उसका नाम रायपुर की मतदाता सूची में नहीं था
7. (ब) केंद्र सरकार द्वारा
8. (ब) नामांकन, चुनाव प्रचार, मतदान, चुनाव परिणाम

अध्याय - 3: राज्य की सरकार भाग - 2

1. (द) उपरोक्त सभी
2. (ब) राजपत्र में
3. (स) राज्यपाल के
- (अ) विधायिका

अध्याय - 4: हमारी न्याय व्यवस्था

1. (स) जमीन जायदाद संबंधी
2. (ब) किसी घटना की सूचना थाने में लिखित रूप में दर्ज करानी होती है
3. (द) उपरोक्त सभी
4. (स) पूछताछ करने के लिए
5. (अ) 24 घण्टे के भीतर
6. (ब) बिलासपुर

7. (अ) जिला न्यायालय, उच्च न्यायालय, उच्चतम न्यायालय, राष्ट्रपति
8. (ब) उच्चतम न्यायालय
9. (द) नई दिल्ली

अध्याय - 5 उद्योग एक परिचय

1. (द) उपरोक्त सभी
2. (अ) दस्तकारी का काम
3. (द) कांप मिट्टी से

अध्याय - 6 कोसा उद्योग

1. (अ) रेशम
2. (ब) शहतुत के वृक्ष पर
3. (अ) कोसा उबलना, कोसा फल से धागा निकालना, ताना बाना बुनना

अध्याय - 7 छोटे कारखानों में काम

1. (द) छत्तीसगढ़
2. (द) उपरोक्त सभी
3. (अ) समर्थन मूल्य पर
4. (अ) भारतीय खाद्य निगम

अध्याय - 8 बड़े कारखानों में काम

1. (द) सीमेंट उद्योग
2. (अ) चूना पत्थर
3. (अ) बड़े-बड़े सामान को उठाया जाता है
4. (ब) कसर हापर द्वारा
5. (अ) मजदूर संघ

अध्याय - 9 सामान्य चेतना

1. (ब) 10 दिसंबर
2. (स) रायपुर
- (स) लड़के की 21 वर्ष एवं लड़की की आयु 18 वर्ष



भूगोल खण्ड

अध्याय – 1: शाला का मानचित्र

1. (स) ऊपर की ओर
2. (अ) पूर्व
3. (ब) छोटा करके दिखाते हैं
4. (द) नक्शा बनाने वाले का नाम
5. (स) दूरी ज्ञात करने के लिए
6. (द) उपरोक्त सभी
7. (ब) देखकर अंदाज से बनाए गए चित्र को
8. (द) नक्शे पर दूरी और जमीन की वास्तविक दूरी के अनुपात को
9. (ब) 7 से. मी.

अध्याय – 2: वर्षा और नदी

1. (स) जल का वाष्प में बदलने को
2. (स) धूप में अधिक
3. (ब) जल भाग में
4. (स) जल वाष्प के कारण
5. (द) किसी पहाड़ी की ओट के कारण वर्षा न होने वाले क्षेत्र का
6. (अ) उत्तर पूर्व की ओर
7. (अ) ऊपर से नीचे की ओर
8. (द) नदी के द्वारा किनारों के कटाव के कारण
9. (द) महानदी
10. (अ) उड़ीसा
11. (ब) शिवनाथ एवं जोंक
12. (द) नदी के समुद्र में मिलन स्थल पर
13. (द) उपरोक्त सभी

अध्याय – 3: भू-जल भण्डार

1. (द) ग्रेनाइट
2. (अ) कार्यांतरित
3. (ब) तीन
4. (ब) 300 मीटर
5. (ब) घट रहा है
6. (ब) कम होती है

अध्याय – 4: दिन और रात

1. सूर्य से
2. 24 घण्टे
3. (द) सीधी पड़ती है
4. (द) 3
5. (द) जहां अधिक गर्मी तथा अधिक वर्षा हो
6. (द) जहां साधारण ठण्ड व हल्की गर्मी हो
7. (द) क्षितिज

अध्याय – 5 पृथ्वी की गतियाँ

1. (ब) परिक्रमण गति
2. (अ) 23.5 अंश
3. (अ) 22 दिसंबर
4. (स) उत्तरी गोलार्ध में सूर्य की किरणें सीधी पड़ती हैं
5. (अ) उत्तरी गोलार्ध

अध्याय – 6 अफ्रीका

1. (द) दक्षिण
2. (अ) अफ्रीका महाद्वीप यूरोप के दक्षिण में स्थित है
3. (द) उपरोक्त सभी रेखाएं
4. (स) अफ्रीका
5. (द) अफ्रीका का उत्तरी भाग सदैव बर्फ से ढँका रहता है।
6. (ब) सहारा मरुस्थल
7. (स) नील
8. (द) किलीमंजारो पर्वत स्थित है
9. (अ) भूमध्य सागर
10. (अ) सवाना घास

अध्याय – 7 यूरोप

1. (अ) पश्चिम
2. (स) भूमध्य सागर
3. (अ) स्पेन और अफ्रीका के बीच
4. (ब) अटलांटिक महासागर

5. (द) वोल्गा नदी
6. (द) दक्षिण पश्चिम से उत्तर पूर्व की ओर
7. (द)युरोप के अधिकांश भागों में भूमध्य रेखीय वन है

अध्याय – 8 फ्रांस

1. (अ) पेरिस
2. (ब) पश्चिम
3. (ब) राईन नदी

4. (स) एफिल टावर
5. (स) फ्रांस में आप और केले की खेती बड़े पैमाने पर होती है
6. (अ) बिस्के की खाड़ी
7. (स) सितंबर – अक्टूबर
8. (अ) जून से अगस्त
9. (ब) चुकंदर से
10. (अ) गेहूँ एवं राई
11. (अ) अरब देश से



आदर्श प्रश्न पत्र
प्रथम सेमेस्टर

विषय— सामाजिक विज्ञान
समय — दो घंटे

कक्षा— 7वीं
पूर्णांक — 50

निर्देश— सही उत्तर चुनकर लिखिए—

(प्रत्येक में 2 अंक)

- आदिमानव के औजार बने होते थे—
(अ) लोहे के (ब) लकड़ी और पत्थरों के
(स) केवल पत्थरों के (द) केवल लकड़ी के
- छत्तीसगढ़ नाम का पहली बार उपयोग किसने किया?
(अ) कल्चुरी राजाने (ब) रतनपुर के शासक ने
(स) कवि दलराम राव ने (द) राजा लक्ष्मीनिधि ने
- भक्ति काल के शिव भक्तों को कहा जाता था—
(अ) आलवार (ब) नायनार
(स) महेश्वर (द) शिवभक्त
- भरत का वह पड़ोसी देश जिसकी सीमा रेखा भरत को छूती नहीं है—
(अ) बंगला देश (ब) पाकिस्तान
(स) श्रीलंका (द) भूटान
- छत्तीसगढ़ विधान सभा में 90 क्षेत्र के विधायक होते हैं सरकार बनाने के लिए कितने विधायकों की जरूरत होगी?
(अ) 46 से अधिक (ब) 46 से कम
(स) 90 से अधिक (द) 33 से कम
- नक्शे में पैमाना लिया जाता है—
(अ) दिशा ज्ञात करने के लिए (ब) ऊंचाई ज्ञात करने के लिए
(स) दूरी ज्ञात करने के लिए (द) स्थिति ज्ञात करने के लिए
- वाष्पीकरण की प्रक्रिया किस भाग में अधिक मात्रा में होती है—
(अ) स्थल भाग में (ब) जल भाग में
(स) पेड़ पौधों में (द) जीव-जंतुओं में
- आग्नेय चट्टन का उदाहरण है—
(अ) संगमरमर (ब) स्लेट पत्थर
(स) बलुआ पत्थर (द) ग्रेनाइट

लघुउत्तरीय प्रश्न

(प्रत्येक में 4 अंक)

- अलबरूनी कौन था? वह भारत क्यों आया था?
- उम्मीदवार एवं मतदाता में क्या अंतर है? दोनों के लिए आवश्यक शर्तें क्या-क्या हैं?
- नक्शा बनाते समय पैमाने का उपयोग न किया जाए तो कौन-कौन सी कठिनाइयाँ आएँगी।
- छत्तीसगढ़ की दो सिंचाई परियोजनाओं के बारे में लिखिए।

दीर्घ उत्तरीय प्रश्न

(प्रत्येक में 6 अंक)

1. पृथ्वी पर कितने कटिबंध गाने गये हैं, चित्र बनाकर उनके नाम लिखिए।
2. दीवानी और फौजदारी अपराध में क्या अंतर है। उदाहरण सहित समझाइये।
3. घुमक्कड़ लोग, पंचकुल, डर, नाडू, ब्रम्हदेव, देवदान नायनार, आलवार ये शब्द किससे संबंधित हैं। प्रत्येक पर दो-दो वाक्य लिखिए।



आदर्श प्रश्न पत्र
द्वितीय सेमेस्टर

विषय— सामाजिक विज्ञान
समय – दो घंटे

कक्षा— 7वीं
पूर्णांक – 50

निर्देश— सही उत्तर चुनकर लिखिए—

(प्रत्येक में 2 अंक)

- अलाउद्दीन खल्जी ने किसानों को लगान के रूप में देने को कहा—
(अ) उपज का आधा हिस्सा (ब) उपज का एक चौथाई भाग
(स) उपज का चौथाई हिस्सा (द) उपज का तीन चौथाई हिस्सा
- सल्तनत काल का प्रभाव शाली धर्म था—
(अ) हिन्दू (ब) पारसी
(स) इस्लाम (द) ईसाई
- मुगलकाल में छत्तीसगढ़ में किस वंश का शासन था?
(अ) कल्पुरियों का (ब) चंदेलो का
(स) होल्करों का (द) परमारों का
- गिरतारी के बाद किसी व्यक्ति को न्यायालय में पेश किया जाता है—
(अ) 24 घंटे के भीतर (ब) एक सप्ताह में
(स) एक माह में (द) कभी भी
- मुख्य रूप से रेशम के कीड़े पाले जाते हैं—
(अ) साल वृक्ष पर (ब) सागौन पर
(स) नीम के वृक्ष पर (द) शहतुत के वृक्ष पर
- निम्न में से कौन से महाद्विप उत्तरी एवं दक्षिणी दोनों गोलाद्धों में फैला है?
(अ) एशिया (ब) उत्तर अमेरिका
(स) अफ्रीका (द) यूरोप
- यूरोप और अफ्रीका महाद्विप को अलग करने वाला सागर है—
(अ) काला सागर (ब) कैस्पियन सागर
(स) भूमध्य सागर (द) बाल्टिक सागर
- पेरिस में एक विशाल मीनार है, उसका नाम है—
(अ) कुतुब मीनार (ब) पीसा की मीनार
(स) एफिल टावर (द) चार मीनार

लघुउत्तीर प्रश्न –

(प्रत्येक में 4 अंक)

- अलाउद्दी खल्जी के शासन व्यवस्था का विस्तृत वर्णन करो।
- सीमेंट उद्योग कच्चेमाल के पास ही क्यों लगाया जाता है?
- पृथ्वी की दैनिक गति और वार्षिक गति में क्या अंतर है?
- रंगभेद की नीति क्या है? इस नीति के विरुद्ध किस भारतीय ने सत्याग्रह आंदोलन चलाया था?

दीर्घ उत्तरीय प्रश्न—

(प्रत्येक में 6 अंक)

1. यूरोप का पश्चिमीतट उच्च अक्षांशो पर स्थित होते हुए भी यहाँ की नदियों में बर्फ क्यों नहीं जमता?
2. वर्तमान में मिट्टी से विभिन्न प्रकार की चीजें तैयार करने में कुंमकार को क्या-क्या कठिनाईयाँ उत्पन्न हो रही है। लिखिए।
3. अकबर के समय लगान व्यवस्था कैसी थी? उसमें अकबर के द्वारा क्या-क्या सुधार किये गये?



आदर्श उत्तर कक्षा – 8

भूगोल खण्ड

अध्याय 1: वायुमण्डल

1. (द) वायुमण्डल
2. (ब) पांच
3. (द) नाइट्रोजन
4. (ब) संतुलित
5. (अ) रेडियो व टेलीविजन के प्रसारण में
6. (स) नाइट्रोजन
7. (स) क्षैतिज
8. (स) जल
9. (स) आर्द्र
10. (अ) कुहरा व बादल बनाने में
11. (द) आयन मण्डल में
3. (द) शीत ऋतु में
4. (अ) हिमनदी की
5. (ब) ग्लेशियर
6. (ब) हिमांक बिंदु से नीचे चला जाता है
7. (अ) भारत के उत्तर में
8. (स) घास
9. (स) चीड़ व देवदार के वृक्ष
10. (ब) चिपको आंदोलन
11. (अ) नौका पर बने घरों की
12. (स) केसर
13. (अ) उत्तरांचल
14. (ब) नेपाल

अध्याय 2: तापमान

1. (अ) 0° सेंटीग्रेड
2. (ब) बदलता रहता है
3. (स) दिन व रात के अधिकतम और न्यूनतम तापमान को जोड़ कर 2 से भाग देते हैं
4. (अ) तीन
5. (ब) पूरे वर्ष अधिक ठण्ड पड़ती है और न अधिक गर्मी
6. (अ) समुद्र के किनारे स्थित है

अध्याय 3: भारत

1. (स) दक्षिण
2. (द) मरुस्थल
3. (ब) राजस्थान में
4. (ब) गेहूँ की फसल का
5. (स) कम वर्षा वाले राज्य में
6. (द) मैदानी
7. (ब) मैदानी क्षेत्र
8. (अ) चक्रवात में

अध्याय 4: उत्तर का पर्वतीय प्रदेश

1. (ब) श्रीलंका में
2. (स) बर्फ का घर

अध्याय 5: उत्तर का विशाल मैदान

1. (द) गोदावरी नदी
2. (स) हरियारणा
3. (ब) इंदिरा गांधी नहर
4. (अ) व्यास नदी
5. (द) सतलज नदी
6. (ब) खराब
7. (द) पलास्टिक रस्सी
8. (स) कलकत्ता में
9. (ब) हरित क्रांति

अध्याय 6 दक्कन का पठार

1. (स) त्रिभुजाकार
2. (अ) लावा के ठण्डा होने से
3. (स) काली चिकनी मिट्टी
4. (ब) कृषि करना
5. (स) रविशंकर जलाशय
6. (द) गन्ना
7. (ब) खनिज
8. (स) फेफड़े से संबंधित
9. (ब) लौह अयस्क

अध्याय 7: समुद्र तटीय मैदान

1. (स) मुंबई
2. (स) वर्ष भर एक जैसा तापमान
3. (द)घरों के छप्पर
4. (द) जमीन से समुद्र की ओर हवा बहती है
5. (अ) इस समय जमीन से हवाएँ समुद्र की ओर चलती है
6. (ब) 321 द्वीप
7. (स) अंडमान निकाबार द्वीप समूह की राजधानी
8. (अ) सेल्युलर जेल में
9. (स) लक्षद्वीप की राजधानी
10. (ब) वहाँ समुद्रतल कटाफटा है
11. (स) अपने मुहाने पर
12. (द) उपरोक्त सभी
13. (अ) पहाड़ों का ढाल तीव्र होता है

अध्याय 8: थार का मरुस्थल

1. (ब) राजस्थान
2. (ब) चारो ओर रेत ही रेत
3. (द) दिन का तापमान अधिक और रात का

तापमान कम होतर है

4. (स) रेत दिन का अधिक गर्म और रात का ठंडी होती है
5. (अ) जल संग्रहण करने का साधन
6. (द) उपरोक्त सभी
7. (स) अराबली पर्वत की दिशा मानसूनी हवाओं से समानान्तर है
8. (स) बबूल, खैर, बेरी
9. (ब) राजस्थान
10. (ब) वर्षा की कमी के कारण जल स्तर बहुत नीचे होता है

अध्याय 9: उत्तरी अमेरिका – प्राकृतिक बनाबट एवं जलवायु

1. (स) पनामा नदी
2. (स) राकी पर्वत
3. (अ) उत्तर अमेरिका में
4. (स) सेंट लारेंस नदी पर
5. (अ) उत्तरी गोलार्ध में

इतिहास खण्ड

अध्याय 1: आधुनिक यूरोप का इतिहास

1. (अ) अध्ययन – अध्यापन की सुविधा
2. (द) उपरोक्त सभी
3. (द) उपरोक्त सभी
4. (ब) धर्म की बातों को समझ सके
5. (ब) ईसाई धर्म के
6. (ब) इस्ताम्बेल
7. (स) कोपर्निकस एवं गैलिलियो ने
8. (अ) कोलंबस ने
9. (स) अठारहवीं शताब्दी के उत्तार्द्ध में
10. (स) पुर्तगाली

अध्याय 2: भारत में ईस्ट इंडिया कंपनी शासन की स्थापना

1. (द) व्यापार एवं धर्म का प्रचार करने के लिए
2. (स) गोवा
3. (ब) गोवा समुद्र के किनारे स्थित है
4. (ब) पांडिचेरी
5. (ब) कोठी
6. (ब) सोना चांदी
7. (ब) डलहौजी ने

अध्याय 3: अंग्रेजी शासन का भारतीय जनजीवन पर प्रभाव

1. (अ) भूमिकर
2. (ब) किसानों से भूमिकर लेने हेतु
3. (ब) उत्तर प्रदेश छत्तीसगढ़ लेने हेतु
4. (द) 30 वर्षों के लिए
5. (स) महल
6. (स) ढाका
7. (ब) वायसराय लिटन ने
8. (स) भारत के लोगों की मानसिकता को शासन के पक्ष में करना
9. (अ) प्रेस पर नियंत्रण रखना
10. (अ) पं. माधवराव सप्रे
11. (द) छत्तीसगढ़ महाविद्यालय

12. (स) पेण्ड्रा

13. (ब) प्रजा हितैषी

अध्याय 4: भारत का प्रथम स्वतंत्रता संग्राम

1. (स) सन् 1857
2. (अ) मंगल पांडे
3. (स) मेरठ छावनी से
4. (अ) बहादुर शाह जफर ने
5. (ब) वीर नारायण सिंह
6. (ब) सोनाखान

अध्याय 5: भारतीय समाज में नए विचार

1. (ब) सतनाम पंथ
2. (अ) राजा राम मोहन राय
3. (स) ईश्वरचंद विद्यासागर
4. (अ) विधवा महिलाओं का शिक्षित करना

अध्याय 6: भारतीय राष्ट्रीय आंदोलन

1. (द) उपरोक्त सभी
2. (अ) सरकार में भारतीयों की भागीदारी
3. (अ) मुंबई में
4. (स) छत्तीसगढ़ मित्र एवं हिंद केसरी
5. (स) स्वराज मेरा जन्म सिद्ध अधिकार है
6. (स) पं. माधव राव सप्रे
7. (अ) श्रीमती एनीबेसेंट
8. (ब) इंग्लैण्ड की संसद में
9. (अ) ब्रिटिश सरकार के सभी अत्याचारों एवं अन्यायपूर्ण कानूनों की अवहेलना करना

अध्याय 7: भारतीय गणतंत्र की स्थापना

1. (अ) इंग्लैण्ड के प्रधानमंत्री एटली ने
2. (द) पं. जवाहरलाल नेहरू ने
3. (द) सरदार वल्लभ भाई पटेल द्वारा
4. (द) सरदार वल्लभ भाई पटेल
5. (स) लार्ड माउंट बेटन
6. (द) पं. जवाहर लाल नेहरू
7. (स) मुस्लिम लीग द्वारा

8. (अ) 16 अगस्त 1946 की
9. (ब) संप्रदायिक दंगे हुए
10. (स) पश्चिम पंजाब, पूर्वी बंगाल, सिंध

अध्याय 8: हमारा छत्तीसगढ़

1. (स) कल्युरि काल में
2. (अ) रामायण महाभारत काल से
3. (अ) रामायण महाभारत काल से
4. (ब) रूद्रशिव मंदिर के लिए
5. (ब) श्राजिम

6. (स) रायगढ़ के पास सिंघनपुर में
7. (अ) सरगुजा में
8. (अ) मेघदूत की
9. (अ) सरगुजा जिले की प्राचीनतम नाट्यशाला में
10. (ब) बंदरगाह के अवशेष
11. (ब) कालिदास
12. (द) हैहयवंशी राजाओं का
13. (द) अंग्रेजों का शासन

नागरिकशास्त्र

अध्याय 1: हमारा संविधान

1. (द) जलियांवाला बाग हत्याकांड
2. (अ) समाजवादी पंथ निरपेक्ष लोकतंत्रात्मक गणराज्य
3. (द) पारस्परिक सहयोग
4. (ब) देश का शासन सुत्यवस्थित चलाने के लिए
5. (अ) संविधान लिखना
6. (स) सभी को समान अवसर देना
7. (अ) मार्गशीर्ष शुक्ल सम्तमी संवत् 2006 विक्रमी को न्यायालय
8. (अ) न्यायालय

अध्याय 2: मौलिक अधिकार और कर्तव्य

1. (ब) मौलिक अधिकार
2. (द) समानता का अधिकार
3. (ब) स्कूल जाने का अधिकार
4. (ब)यह कानूनी रूप से अपराध है
5. (ब) सर्वोच्च न्यायालय में
6. (द) प्रवासी
7. (ब) मूल कर्तव्य है

अध्याय 3: केन्द्र की सरकार

1. (स) केन्द्र की सरकार
2. (द) दोनो सदन और राष्ट्रपति को
3. (स) दिल्ली में
4. (स) 10 लाख जनसंख्या
5. (स) 250 सदस्य
6. (स) राष्ट्रपति द्वारा मनानीत कर
7. (अ) उन्हे खेल के क्षेत्र में ख्याति प्राप्त थी
8. (स) सर्वोच्च न्यायालय
9. (ब) 2019
10. (स) वनून लागू करना
11. (द) संसद

अध्याय 4: कर

1. (द) कर से
2. (स) बजट
3. (ब) शक्कर पर
4. (स) वस्तुओं का एक देश से दूसरे देश ले जाने पर
5. (द) आयकर
6. (स) कर द्वारा प्राप्त आय का सही उपयोग करें
7. (अ) सभी के लिए
8. (ब) सरकार द्वारा

अध्याय 5: भारत में कृषि का विकास

1. (अ) सिंचाई का पर्याप्त सुविधा
2. (द) उपरोक्त सभी
3. (अ) पंजाब हरियाणा तमिलनाडू
4. (द) अनाज खरीदने एवं उसका भंडारण के लिए

अध्याय 6: संयुक्त राष्ट्रसंघ

1. (द) उपरोक्त सभी
2. (ब) विश्व स्वास्थ्य संगठन
3. (ब) यूनेस्को
4. (अ) न्यूयार्क
5. (ब) 191
6. (द) संयुक्त राष्ट्रसंघ दिवस
7. (स) संसद
8. (द) उपरोक्त सभी

आदर्श प्रश्न पत्र कक्षा – 8 वी
प्रथम सेमेस्टर
विषय – सामाजिक विज्ञान

समय – 2 घण्टे

पूर्णांक 50

निर्देश – सही विकल्प चुनकर लिखिए

प्रश्न 1. वायुमण्डल में नाइट्रोजन गैस की मात्रा है—

- | | |
|----------------|----------------|
| (अ) 20 प्रतिशत | (ब) 29 प्रतिशत |
| (स) 30 प्रतिशत | (द) 78 प्रतिशत |

प्रश्न 2. मुम्बई में तापमान प्रायः एक समान पाया जाता है क्योंकि वह—

- | | |
|-------------------------------|------------------------------|
| (अ) समुद्र के किनारे स्थित है | (ब) वहाँ सालभर वर्षा होती है |
| (स) पहाड़ों पर स्थित है | (द) मैदानी भाग है |

प्रश्न 3. भारत किस महाद्विप में स्थित है

- | | |
|-------------|-----------|
| (अ) अमेरिका | (ब) यूरोप |
| (स) अफ्रीका | (द) एशिया |

प्रश्न 4. मार्टिन लूथर धर्म गुरु थे—

- | | |
|--------------------|-------------------|
| (अ) इस्लाम धर्म के | (ब) ईसाई धर्म के |
| (स) जर्मन के | (द) बौद्ध धर्म के |

प्रश्न 5. पुर्तगालियों ने भारत में अपनी राजधानी बनाई—

- | | |
|------------|------------|
| (अ) दिल्ली | (ब) मुंबई |
| (स) गोवा | (द) मद्रास |

प्रश्न 6. भारत में अंग्रेजों के आय का मुख्य साधन था—

- | | |
|-------------|----------|
| (अ) भूमिकर | (ब) आयकर |
| (स) व्यापार | (द) कृषि |

प्रश्न 7. संविधान सभा का कार्य था—

- | | |
|----------------------------|------------------------------------|
| (अ) संविधान लिखना | (ब) विभिन्न नियमों का निर्माण करना |
| (स) समस्याओं पर चर्चा करना | (द) संविधान को लागू करना |

- प्रश्न 8. 14 वर्ष से कम आयु के बच्चों से कारखाने में काम नहीं करवाया जा सकता क्योंकि—
- | | |
|-------------------------------|----------------------------|
| (अ) बच्चे काम नहीं करपाते | (ब) कानूनी रूप से अपराध है |
| (स) बच्चों को पढ़ना आवश्यक है | (द) पालक नाराज हो जाएंगे |

लघु उत्तरीय प्रश्न (प्रत्येक में 4 अंक)

- प्रश्न 9. ओजोन मंडल हमाने लिए क्यों उपयोगी है?
- प्रश्न 10. मौसम परिवर्तन का मनुष्य के जीवन पर क्या प्रभाव पड़ता है?
- प्रश्न 11. विलियम बैंटिक ने कौन-कौन सी सामाजिक कुरीतियों पर रो लगाने के लिए कठोर कानून बनाये।
- प्रश्न 12. स्वतंत्रता प्राप्ति केबाद हमें संविधान की आवश्यकता क्यों पड़ी?

दिर्घ उत्तरीय प्रश्न (प्रत्येक में 6 अंक)

- प्रश्न 13. एक विद्यार्थी के रूप में हम कौन-कौन से मौलिक कर्तव्यों का पालन करते हैं? लिखिए।
- प्रश्न 14. समाचार पत्रों का जनजीवन का क्या प्रभाव पड़ता है? उदाहरण देकर समझाइये।
- प्रश्न 15. वायुप्रदूषण से क्या-क्या हानियाँ होती है? वायुप्रदूषण का रोकने के लिए हम क्या – क्या अपाय कर सकते हैं?

आदर्श प्रश्न पत्र कक्षा – 8 वी
द्वितीय सेमेस्टर
विषय सामाजिक विज्ञान

समय – 2 घण्टे

पूर्णांक 50

निर्देश – सही विकल्प चुनकर लिखिए

प्रश्न 1. ग्लेशियर कहते हैं—

- | | |
|---------------|---------------------------|
| (अ) हिमनदी को | (ब) हिमक्षेत्र को |
| (स) हिमालय को | (द) बर्फ से ढँके पहाड़ को |

प्रश्न 2. कृषि उत्पादन में वृद्धि करने के लिए अपनाए जाने वाले नए तरीकों का नाम दिया गया है—

- | | |
|----------------------|-------------------|
| (अ) श्वेत क्रांति | (ब) हरित क्रांति |
| (स) औद्योगिक क्रांति | (द) मकर संक्रांति |

प्रश्न 3. थार का मरूस्थल है —

- | | |
|------------------|----------------|
| (अ) गुजरात में | (ब) बिहार में |
| (स) राजस्थान में | (द) हिमाचल में |

प्रश्न 4. महलवाड़ी व्यवस्था में पूरे गांव को कहते थे—

- | | |
|-----------|----------|
| (अ) कस्बा | (ब) महल |
| (स) काठी | (द) जनपद |

प्रश्न 5. अखिल भारतीय कांग्रेस की स्थापना हुई—

- | | |
|---------------|-----------------|
| (अ) मुंबई में | (ब) कलकत्ता में |
| (स) लाहौर में | (द) मद्रास में |

प्रश्न 6. छत्तीसगढ़ का प्रयागतीर्थ माना जाता है—

- | | |
|--------------------|---------------|
| (अ) आरंग को | (ब) सिरपुर को |
| (स) शिवरीनारायण को | (द) राजिम को |

प्रश्न 7. सरकार का कर्तव्य है कि वह

- | | |
|--|---------------------------------|
| (अ) ज्यादा से ज्यादा कर लगाए | (ब) कम कर लगाये |
| (स) कर द्वारा प्राप्त आय का सही उपयोग करें | (द) सभी वस्तुओं पर समान कर लगाए |

प्रश्न 8. भारत में हरित क्रांति की शुरुआत उन क्षेत्रों में हुई जहाँ—

- | | |
|---|-------------------------------|
| (अ) सिंचाई की पर्याप्त सुविधा थी | (ब) किसान ज्यादा पढ़े लिखे थे |
| (स) बैंको द्वारा ज्यादा ऋण दिया जाता था | (द) बड़े – बड़े फार्म हाउस थे |

लघु उत्तरीय प्रश्न— (प्रत्येक में 4 अंक)

प्रश्न 9. संयुक्त राष्ट्र संघ के पास अपनी कोई सेना नहीं होती फिर भी वह विश्व में शांति कैसे स्थापित करता है?

प्रश्न 10. छत्तीसगढ़ में पं. सुन्दरलाल शर्मा ने जातिगत भेदभाव और छुआछूत को दूर करने के लिए क्या-क्या किया?

प्रश्न 11. उत्तरी अमेरिका के दक्षिणी भाग में तापमान अधिक क्यों होता है, कारण बताइये?

प्रश्न 12. धरातलीय संरचना के अनुसार पठार व मैदान में अंतर लिखिए।

प्रश्न 13. डेल्टा किसे कहते हैं? नदियाँ अपने मुहाने पर डेल्टा क्यों बनाती है? चित्र बनाकर डेल्टा को समझाइये?

प्रश्न 14. जलियाँवाला बाग हत्या कांड क्यों हुआ, कब हुआ और कहाँ हुआ? इस घटना का लोगो पर क्या प्रभव पड़ा?

प्रश्न 15. भारत में कृषि आयकर मुक्त है परंतु गन्ने से बने शक्कर पर मिल मालिको को कर देना पड़ता है, ऐसा क्यों? स्पष्ट कीजिए।

कक्षा – छठवीं
सामाजिक विज्ञान (इतिहास)

माह सितम्बर तक	माह दिसम्बर तक	माह मार्च तक
<p>1. आदिमानव –</p> <ul style="list-style-type: none"> • चित्रों की सहायता से आदिमानव के जीवन यापन के ढंग को समझ सकेंगे। • आदिमानव के घर, वेशभूषा, भोजन एवं औजारों से परिचित हो सकेंगे। • आपसी सहयोग की भावना का विकास कर सकेंगे। <p>2. सिंधु घाटी की सभ्यता –</p> <ul style="list-style-type: none"> • मानव जाति की प्राचीन सभ्यता संस्कृति से अवगत हो सकेंगे। • हड़प्पा और मोहन जोदड़ो वर्तमान पाकिस्तान के पंजाब और सिंध प्रांत में स्थित हैं, पढ़कर जान सकेंगे। • पाट के चित्रों को देखकर तथा पढ़कर प्राचीन सभ्यता के विकसित होने की स्थिति से परिचित हो सकेंगे। • सभ्यता एवं जीवनयापन का तुलनात्मक अध्ययन कर सकेंगे। <p>3. वैदिक काल –</p> <ul style="list-style-type: none"> • इस काल में रचित वेदों के नाम जान सकेंगे। • वैदिक काल और सिंधु सभ्यता का तुलनात्मक अध्ययन कर सकेंगे। • ऋग्वेद काल की नदियों को मानचित्र में देखकर जान सकेंगे। • मानव जीवन की चार अवस्थाएँ एवं संयुक्त परिवार की विशेषताएँ जान सकेंगे। 	<p>4. महाजनपद काल –</p> <ul style="list-style-type: none"> • मानचित्र देखकर सोलह महाजनपदों एवं उनकी राजधानियों को जान सकेंगे। • जनपद कालीन जनजीवन समझ सकेंगे। • सिंकदर महान के बारे में जान सकेंगे। <p>5. नवीन धार्मिक विचारों का उदय –</p> <ul style="list-style-type: none"> • जैन धर्म और बौद्ध धर्म का तुलनात्मक अध्ययन कर सकेंगे। • धर्म की आवश्यकता एवं महत्व को समझ सकेंगे। • छत्तीसगढ़ में स्थित विभिन्न धार्मिक केन्द्रों की जानकारी प्राप्त कर सकेंगे। <p>6. मौर्यवंश और राजा अशोक –</p> <ul style="list-style-type: none"> • चित्र में सारनाथ स्तंभ को देखकर भारत के राष्ट्रीय चिन्ह के रूप में पहचान सकेंगे। • मानचित्र में अशोक के साम्राज्य विस्तार और उसके शिलालेखों को देखकर उसके साम्राज्य के बारे में जान सकेंगे। • मानचित्र का अवलोकन करना और मानचित्र भरना सीख सकेंगे। • सम्राट अशोक के शासन व्यवस्था की विशेषताएँ जान सकेंगे। 	<p>7. विदेशों से व्यापार एवं संपर्क –</p> <ul style="list-style-type: none"> • विदेशी व्यापार का महत्व एवं लाभ जान सकेंगे। • मानचित्र भरने की क्षमता का विकास कर सकेंगे। • संपर्क बढ़ने से भारत में चिकित्सा शिक्षा एवं धर्म के क्षेत्र में विकास में वृद्धि हुई, छात्र जान सकेंगे। <p>8. गुप्त काल –</p> <ul style="list-style-type: none"> • गुप्तकालीन शासकों के नाम जान सकेंगे। • गुप्तकाल के जनजीवन से परिचित होंगे। • गुप्तकाल में धर्म, विज्ञान, साहित्य और कला के क्षेत्र में विकास की जानकारी प्राप्त कर सकेंगे। • छत्तीसगढ़ में गुप्तकालीन मंदिर सिरपुर का भ्रमण कर सकेंगे। <p>9. प्रांतीय राज्यों का युग –</p> <ul style="list-style-type: none"> • सम्राट हर्षवर्धन के शासन काल से परिचित हो सकेंगे। • संस्कृत विद्वान बाणभट्ट और चीनी यात्री ह्वेनसांग के बारे में जान सकेंगे।

कक्षा – छठवीं
सामाजिक विज्ञान (नागरिक शास्त्र)

माह सितम्बर तक	माह दिसम्बर तक	माह मार्च तक
<p>1. परस्पर निर्भरता –</p> <ul style="list-style-type: none"> परस्पर निर्भरता की आवश्यकता को समझ सकेंगे। परिवार पड़ोस और समाज तथा देशों के बीच परस्पर संबंधों को जोड़कर समझ विकसित कर सकेंगे। विभिन्न क्षेत्रों के कार्य करने वालों के बीच संबंध स्थापित कर सकेंगे। <p>2. कार्तिक और कैकती का गाँव –</p> <ul style="list-style-type: none"> स्थानीय वातावरण को समझने की क्षमता विकसित कर सकेंगे। संसाधनों का सदुपयोग करने की समझ विकसित कर सकेंगे। गाँव में हो रहे परिवर्तन के कारणों को जानकर समझ सकेंगे। <p>3. पंचायती राज –</p> <ul style="list-style-type: none"> ग्राम पंचायत की आवश्यकता एवं कार्यप्रणाली को समझ सकेंगे। सरपंच एवं वार्ड पंचों के चुनाव प्रणाली से अवगत हो सकेंगे। पंचायतों के आय के साधन जान सकेंगे। जनपद पंचायत और जिला पंचायत के कार्य से परिचित हो सकेंगे। 	<p>4. नगरपालिका और नगर पंचायत –</p> <ul style="list-style-type: none"> ग्राम पंचायत के बड़े रूप में नगर पंचायत नगरपालिका, नगर निगम को समझ सकेंगे। नगरपालिका के कार्यों को पढ़कर छात्र समझ सकेंगे। नगरीय निकायों में अंतर स्पष्ट कर सकना सीख सकेंगे। <p>5. जिला प्रशासन –</p> <ul style="list-style-type: none"> छत्तीसगढ़ के जिलों की जानकारी मानचित्र में देखकर जान सकेंगे। छात्र/छात्राएँ किस जिले को निवासी है तथा उस जिले का जिलाधीश कौन है, जानकारी प्राप्त कर सकेंगे। पाठ में दिये गये तालिका से जिला प्रशासन के संचालन व्यवस्था को समझ सकेंगे। <p>6. सार्वजनिक संपत्तियाँ –</p> <ul style="list-style-type: none"> सार्वजनिक संपत्तियों के विविध प्रकारों से अवगत हो सकेंगे। विद्यालय एवं आसपास की संपत्तियों की सुरक्षा हेतु कक्षावार छात्र/छात्राओं की समिति बनाकर कार्य कर सकेंगे। निजी और सार्वजनिक संपत्ति में अंतर स्पष्ट कर सकेंगे। 	<p>7. बच्चों का अधिकार –</p> <ul style="list-style-type: none"> अपने अधिकारों से परिचित हो सकेंगे। अपने अधिकारों का समयानुसार उपयोग करना एवं दुरुपयोग होने पर किस तरह कार्यवाही की जाए इस बात को समझ सकेंगे। <p>8. सामान्य चेतना –</p> <ul style="list-style-type: none"> यातायात के नियमों का पढ़कर उसका उपयोग करना सीख सकेंगे। कर्ज और बचत में अंतर स्पष्ट करना समझ पायेंगे। जल की उपयोगिता और महत्व को समझकर सकेंगे तथा दैनिक जीवन में जल संरक्षण कर सकेंगे।

कक्षा – छठवीं
सामाजिक विज्ञान (भूगोल)

माह सितम्बर तक	माह दिसम्बर तक	माह मार्च तक
<p>1. मानचित्र का अध्ययन –</p> <ul style="list-style-type: none"> मानचित्र में दिशा को पहचानना और पैमाने का उपयोग करना सीख सकेंगे। दुबकीय सुई एवं रात में ध्रुव तारे की मदद से उत्तर दिशा ज्ञात करना सीख सकेंगे। <p>2. ग्लोब का अध्ययन –</p> <ul style="list-style-type: none"> ग्लोब की सहायता से पूरे विश्व का अवलोकन करने की क्षमता विकसित कर सकेंगे। ग्लोब से अक्षांश और देशांश रेखाओं को पहचानकर उनमें अंतर करने की क्षमता का विकास कर सकेंगे। <p>3. पृथ्वी का परिमंडल –</p> <ul style="list-style-type: none"> मानचित्र से महाद्वीपों एवं महासागरों को पहचानना सीख सकेंगे। चित्रों की सहायता से थलमंडल, वायुमंडल और जलमंडल के जैव चक्र को समझना एवं चित्र बनाना सीख सकेंगे। <p>4. पहाड़ी गाँव – ऊरवेदी –</p> <ul style="list-style-type: none"> मानचित्र में देखकर ऊपरवेदी गाँव की स्थिति और बसाहत को जान सकेंगे। मानव जीवन और वनों का सह संबंध तथा आपसी सहयोग को छात्र पढ़कर एवं समझकर जान सकेंगे। 	<p>5. मैदान का एक गाँव – रिसदा –</p> <ul style="list-style-type: none"> रिसदा बलौदाबाजार तहसील का एक मैदानी बसाहट का गाँव है, मानचित्र देखकर जान सकेंगे। मैदानी और पहाड़ी जनजीवन में अंतर स्पष्ट कर पाना कर सकेंगे। मैदानी क्षेत्र के मानव जीवन यापन के तरीकों से परिचित हो सकेंगे। <p>6. पठार का एक गाँव – चाल्हा –</p> <ul style="list-style-type: none"> पहाड़, मैदान एवं पठार की धरातलीय संरचना एवं मानव जीवन का तुलनात्मक अध्ययन करना सीख सकेंगे। चाल्हा गाँव के लोगों को शिक्षा और स्वास्थ्य के क्षेत्र में क्या सुविधायें उपलब्ध हैं, जान सकेंगे। <p>7. विविधताओं का महाद्वीप एशिया –</p> <ul style="list-style-type: none"> पार के मानचित्रों को देखकर एशिया की स्थिति विस्तार एवं धरातलीय संरचना को जानने की समझ विकसित कर सकेंगे। एशिया के पर्वतों, पठारों, मैदानों की विविधता के आधार पर जलवायु और वनस्पति की विविधता से परिचित होंगे। एशिया महाद्वीप की संरचना, नदियाँ, जलवायु, मिट्टी, जनसंख्या आदि के बारे में जान सकेंगे। 	<p>8. द्वीपों का देश-इण्डोनेशिया –</p> <ul style="list-style-type: none"> इण्डोनेशिया का अधिकांश धरातल ज्वालामुखी विस्फोट से निर्मित पर्वतों से बना है, इसकी जानकारी हो सकेगी। यहाँ की भूमध्य रेखीय जलवायु का मानव जीवन पर प्रभाव को समझ सकेंगे। जंगलों में झूम खेती पर्वतों में सीढ़ीदार खेती तथा बागानी खेती के अंतर को समझ सकेंगे। <p>9. उगते हुये सूरज का देश जापान –</p> <ul style="list-style-type: none"> ग्लोब की सहायता से विश्व में जापान की स्थिति को समझ सकेंगे। जापान का विश्व प्रसिद्ध रेशमी कपड़ा उद्योग के कारणों को जान सकेंगे। मानचित्र की सहायता से जापान के खनिज उद्योग एवं फसलों के उत्पादन की जानकारी प्राप्त कर सकेंगे। <p>10. टुन्झा प्रदेश –</p> <ul style="list-style-type: none"> टुन्झा की जलवायु वर्षभर ठंडी रहती है तथा धरातल वनस्पति विहीन हो जाती है, छात्र जान सकेंगे। टुन्झा प्रदेश का मुख्य जानवर रेनडियर एवं उसकी उपयोगिता को समझ सकेंगे।

कक्षा – सातवी सामाजिक विज्ञान (इतिहास)

माह सितम्बर तक	माह दिसम्बर तक	माह मार्च तक
<p>1. आदिमानव –</p> <ul style="list-style-type: none"> आदिमानव और वर्तमान मानव में तुलना, समानता और अंतर को समझ सकेंगे। चित्रों द्वारा आदिमानव की गुफा, औजार तथा उसकी सभ्यता को जान सकेंगे। प्राचीन धरोहर का महत्व एवं संरक्षण को समझ सकेंगे। <p>2. छोटे-छोटे राज्यों का विकास –</p> <ul style="list-style-type: none"> मानचित्र अध्ययन द्वारा समकालीन छत्तीसगढ़ के राजवंशों को जान सकेंगे। राजकाज में तत्कालिन समाज की भूमिका से परिचित होंगे। राजवंशों की विशेषताओं एवं राजाओं की शासन व्यवस्था को समझ सकेंगे। <p>3. जीवन में आया बदलाव –</p> <ul style="list-style-type: none"> जंगल, गाँव और शहर में रहने वालों के जीवनयापन के अंतर को समझ सकेंगे। सामाजिक कुप्रथायें के दुःपरिणाम को समझ सकेंगे। देश के आर्थिक विकास में मंदिरों, धार्मिक संगठनों, सामाजिक संगठनों के योगदान को समझना। 	<p>4. दिल्ली सल्तनत की स्थापना –</p> <ul style="list-style-type: none"> सन् 1200 ई. के बाद उत्तर भारत में तुर्की शासकों का शासन स्थापित हुआ जानकारी होगी। कुतुबमीनार का चित्र देखकर उसके बारे में जानने को उत्सुक होंगे। <p>5. दिल्ली सल्तनत का विस्तार –</p> <ul style="list-style-type: none"> मानचित्र के अवलोकन से तुगलक एवं खिलजी साम्राज्य के विस्तार की जानकारी प्राप्त कर सकेंगे। सूफ़ी संतों की कविताओं और संस्कृतियों के समन्वय से समाज में हो रहे परिवर्तनों का समझ सकेंगे। <p>6. सल्तनतकालीन जनजीवन –</p> <ul style="list-style-type: none"> ग्रामीण जीवन में हो रहे बदलाव के कारण सांस्कृतिक परिवर्तन को समझना। विदेशी नागरिकों के आवागमन से धार्मिक और सामाजिक सदभावना विकसित होने के कारणों को समझ सकेंगे। 	<p>7. मुगल साम्राज्य की स्थापना –</p> <ul style="list-style-type: none"> मुगलकालीन शासकों के कार्यकाल एवं शासन व्यवस्था के बारे में जान सकेंगे। चित्रों का अवलोकन करके तत्कालिक कलाकृतियों का अध्ययन कर सकेंगे। मानचित्र से मुगल कालीन साम्राज्य विस्तार का अवलोकन कर सकेंगे। <p>8. विरोध और विद्रोह का समय –</p> <ul style="list-style-type: none"> सम्राटों के शासन व्यवस्था की कमियों एवं दमनकारी नीतियों के कारण विरोध और विद्रोह हुये, छात्र समझ सकेंगे। सम्राटों की जागीदारी प्रथा से आम जनता विद्रोही हुई यह समझ सकेंगे। दमन करके शासन लंबे समय तक नहीं किया जा सकता इस बात को समझ सकेंगे। <p>9. मुगलकालीन जनजीवन –</p> <ul style="list-style-type: none"> मुगलकाल के सामाजिक, धार्मिक एवं आर्थिक स्थितियों का तुलनात्मक अध्ययन कर सकेंगे। मुगलकाल में व्यापार के साथ-साथ कला एवं साहित्य के विशेष विकास को समझ सकेंगे।

कक्षा – सातवी सामाजिक विज्ञान (नागरिक शास्त्र)

माह सितम्बर तक	माह दिसम्बर तक	माह मार्च तक
<p>1. देश और राज्य –</p> <ul style="list-style-type: none"> मानचित्रों को देखकर भारत के सीमावर्ती अन्य देशों तथा देश के विभिन्न राज्यों को पहचान कर देखकर उनकी सीमाओं को समझ सकेंगे। केंद्रशासित प्रदेश किसे कहते हैं, समझ सकेंगे। मानचित्र से देश के किसी भी क्षेत्र की यात्रा की तैयारी कर सकेंगे। <p>2. राज्य की सरकार (भाग-1) –</p> <ul style="list-style-type: none"> सरकार बनाने हेतु चुनाव से लेकर सरकार गठन तक की प्रक्रिया को समझने की क्षमता बढ़ायेंगे। विधानसभा प्रतिनिधि, राजनैतिक दल, उम्मीदवार, मतदान, चुनाव परिणाम आदि शब्दवलयों का अर्थ समझ सकेंगे। मुख्यमंत्री कौन बनता है, जान सकेंगे। <p>3. राज्य की सरकार (भाग-2) –</p> <ul style="list-style-type: none"> राज्य में विकास के साथ-साथ शांति और सुरक्षा व्यवस्था होते कानून आवश्यक है – उदाहरणों से समझ सकेंगे। कानून बनाने की प्रक्रिया की जानकारी प्राप्त कर सकेंगे। <p>4. हमारी न्याय व्यवस्था –</p> <ul style="list-style-type: none"> न्यायालयों से न्याय प्राप्ति की प्रक्रिया को उदाहरण से आसानी से समझ सकेंगे। न्यायालयों की सूची से न्यायपालिका के विभिन्न स्तर को जानकर अपने आसपास के लोगों को बता सकेंगे। 	<p>5. उद्योग एक परिचय –</p> <ul style="list-style-type: none"> भारत कृषि प्रधान देश है, कृषि उत्पादों से बहुत से उद्योग धंधे चलते हैं जान सकेंगे। उद्योग और कच्चे माल का सह संबंध समझ सकेंगे। उद्योग के विकास हेतु बाजार की आवश्यकता एवं महत्व से छात्र परिचित होंगे। <p>6. दस्तकारी के काम –</p> <ul style="list-style-type: none"> दस्कार किसे कहते हैं, अपने आसपास में स्थित दस्तकारों को देखकर समझ सकेंगे। छात्र दस्तकारों द्वारा निर्मित वस्तुओं को पहचान कर उनके कार्यों की विशेषताओं को जान सकेंगे। <p>7. कोसा उद्योग –</p> <ul style="list-style-type: none"> उद्योग के कच्चे माल प्राप्ति से लेकर कपड़ा तैयार करने की प्रक्रिया से अवगत हो सकेंगे। पाठ के चित्रों देखकर उद्योग संबंधी जानकारीयों से परिचित हो सकेंगे। कोसा उद्योग के विकास के लिये सरकारी नीतियों में क्या सुविधायें मिल रही हैं, को जान सकेंगे। 	<p>8. छोटे कारखानों में काम –</p> <ul style="list-style-type: none"> छोटे कारखाने या छोटे उद्योग में कौन-कौन से कार्य होते हैं, यह समझ सकेंगे। घरेलू उद्योग और लघु उद्योग में अंतर समझ सकेंगे। <p>10. बड़े कारखानों में काम –</p> <ul style="list-style-type: none"> उद्योगों और जलवायु के सहसंबंध को समझ सकेंगे। कारखानों से निकलने वाले प्रदूषण को समझ कर प्रदूषण रोकने के उपाय को जान सकेंगे। छ.ग. में कौन से बड़े उद्योग विकसित हैं, मानचित्र को देखकर जानकारी प्राप्त कर सकेंगे। <p>11. सामान्य चेतना –</p> <ul style="list-style-type: none"> मानव अधिकारों के चार्ट को पढ़कर अपने अधिकारों से परिचित हो सकेंगे। आज की स्थिति में बाल विवाह के दुःपरिणामों को जानकर सामाजिक चेतना जागरूकता हेतु प्रचार प्रसार कर सकेंगे।

कक्षा – सातवी सामाजिक विज्ञान (भूगोल)

माह सितम्बर तक	माह दिसम्बर तक	माह मार्च तक
<p>1. शाला का मानचित्र –</p> <ul style="list-style-type: none"> • नजरी नक्शा और मापक के आधार पर शाला का मानचित्र बनाना सीख सकेंगे। • किसी भी स्थान का मानचित्र बनाने की प्रक्रिया से अवगत हो सकेंगे। <p>2. ऊँचाई –</p> <ul style="list-style-type: none"> • धरातल की आकृतियों पहाड़, पठार, मैदान को उनकी ऊँचाई के आधार पर समझ सकेंगे। • किसी स्थान की ऊँचाई को समुद्र सतह से नापा जाता है, जानकारी प्राप्त कर सकेंगे। <p>3. वर्षा और नदी –</p> <ul style="list-style-type: none"> • वाष्पीकरण बादलों का निर्माण फिर वर्षा के होने की प्रक्रिया को पाठ के चित्रों से आसानी से समझ सकेंगे। • वर्षा का जल जब बहने लगता है तो उसे नदी कहते हैं, जान सकेंगे। • वर्षा के अधिक होने या कम होने से बाढ़ या सूखा की स्थिति बनती है को समझ सकेंगे। 	<p>4. भू-जल भंडार –</p> <ul style="list-style-type: none"> • वर्षा का जल भू-जल कैसे बनता है, पाठ के चित्र से सरलता से समझ सकेंगे। • कुआ, नलकूप और जलाशय भू-जल प्राप्ति के मुख्य स्रोत हैं, की जानकारी में वृद्धि हो सकेगी। • भू-जल स्तर को बढ़ाने हेतु क्या उपाय किया जाये इस कक्षा में चर्चा करने में समर्थ होंगे। <p>5. दिन और रात –</p> <ul style="list-style-type: none"> • ग्लोब और टार्च की सहायता से छात्र दिन और रात होने की प्रक्रिया को करके देख एवं समझ सकेंगे। • सूर्य की सीधी एवं तिरछी किरणों के आधार पर पृथ्वी का तीन ताप कटिबंधों में विभाजन प्रयोग करके समझ एवं जान सकेंगे। • मौसम या ऋतु परिवर्तन के कारण को समझ सकेंगे। <p>6. पृथ्वी की गतियाँ –</p> <ul style="list-style-type: none"> • पृथ्वी दैनिक एवं वार्षिक गतियों को छात्र ग्लोब और बल्ब की सहायता से प्रयोग करके समझ सकेंगे। • पृथ्वी और सूर्य की स्थिति के अनुसार ऋतु परिवर्तन तथा उसका मानव जीवन पर प्रभाव को स्वयं अनुभव करके जान सकेंगे। 	<p>7. अफ्रीका –</p> <ul style="list-style-type: none"> • मानचित्र का अवलोकन करना तथा संकेतों की सहायता से पढ़कर समझना सीख सकेंगे। • मानचित्र बनाकर स्थलाकृतियों को चित्रित करना, रंग भरना रूचिपूर्वक कर सकेंगे। • अफ्रीका महाद्वीप अन्य महाद्वीपों से कैसे भिन्न हैं, उसकी स्थिति धरातल, जलवायु एवं उसके निवासियों के आधार पर जानकारी बढ़ा सकेंगे। <p>8. यूरोप महाद्वीप –</p> <ul style="list-style-type: none"> • मानचित्र से देखकर यूरोप किस महाद्वीप से बड़ा और किससे छोटा है, जान सकेंगे। • यूरोप महाद्वीप में कौन-कौन से देश सम्मिलित हैं, मानचित्र का अवलोकन कर जान सकेंगे। • यूरोप की जलवायु मुख्यतः हवाओं एवं जलधाराओं से प्रभावित है, तुलनात्मक अध्ययन करके समझ विकसित कर सकेंगे। <p>9. फ्रांस –</p> <ul style="list-style-type: none"> • फ्रांस की राजधानी पेरिस अपनी खूबसूरती और एफिल टावर के लिये प्रसिद्ध है यह समझ सकेंगे। • फ्रांस में ऊर्जा का स्रोत परमाणु, बिजली और ज्वारीय जल है – जान सकेंगे। • कृषि और उद्योग दोनों समान रूप से विकसित है, यह समझ सकेंगे।

कक्षा – आठवीं सामाजिक विज्ञान (भूगोल)

माह सितम्बर तक	माह दिसम्बर तक	माह मार्च तक
<p>1. वायुमंडल –</p> <ul style="list-style-type: none"> • पृथ्वी पर जीवन हेतु सर्वाधिक महत्वपूर्ण वायु है जो विभिन्न गैसों के मिश्रण के रूप में हमारे चारों ओर स्थित है, चित्र को देखकर समझ पायेंगे। • चित्र को देखकर वायुमंडल की संरचना एवं विशेषताओं को जान सकेंगे। • वायु प्रदूषण रोकने नारे एवं चित्रों की सहायता से जागरूकता रैली निकाल सकेंगे। <p>2. तापमान –</p> <ul style="list-style-type: none"> • तापमापी की सहायता से छात्र अपने शरीर एवं विभिन्न स्थानों के तापमान को पढ़ने एवं तुलनात्मक जानकारी रखने की क्षमता विकसित कर सकेंगे। • पाठ के अध्ययन से विश्व के सर्वाधिक गर्म एवं ठंडे स्थान का नाम पढ़कर अपना सामान्य ज्ञान में वृद्धि कर सकेंगे। • भूमध्य-रेखा से दूरी एवं समुद्र से दूरी किसी स्थान के तापमान को प्रभावित करते हैं, जान सकेंगे। <p>3. भारत –</p> <ul style="list-style-type: none"> • मानचित्र में भारत की धरातलीय संरचना एवं भौतिक विभागों का विस्तार कैसा है, जान सकेंगे। • भारत में मानसूनी वर्षा होती है तथा वर्षा का वितरण असमान है, मानचित्र के अवलोकन से समझ विकसित हो सकेगी। 	<p>4. उत्तर का पर्वतीय प्रदेश –</p> <ul style="list-style-type: none"> • हिमालय की चोटियों, हिमनदी एवं नदियों के उद्गम की जानकारी इस पाठ को पढ़कर एवं मानचित्रों के अवलोकन से हो सकेगी। • पर्वतीय क्षेत्र की जलवायु और वनस्पति का उस क्षेत्र के मानव जीवन पर प्रभाव का तुलनात्मक अध्ययन छात्र कर सकेंगे। <p>5. उत्तर का विशाल मैदान –</p> <ul style="list-style-type: none"> • नदी निर्मित मैदान होने के कारण कृषि की दृष्टि से उपजाऊ हैं, सिंचाई की सुविधा है, कृषि आधारित उद्योग विकसित है, अतः आबादी सघन है, छात्र विषयांतर्गत ज्ञान में वृद्धि कर सकेंगे। • मानचित्र में नदियों के उद्गम और प्रवाह दिशा का अवलोकन कर जान सकेंगे। <p>दक्कन का पठार –</p> <ul style="list-style-type: none"> • मानचित्र में वर्षा का वितरण इसमें वर्षा की कमी को दर्शाता है, जिसका कृषि एवं वनस्पति पर प्रभाव छात्र पढ़कर समझ सकेंगे। • पठार में खनिज की बहुलता के कारण बड़े उद्योगों का विकास अधिक हुआ है, छात्र खनिज और उद्योगों का विकास अधिक हुआ है, छात्र खनिज और उद्योगों में संबंध स्थापित कर पायेंगे। 	<p>6. समुद्र तटीय मैदान –</p> <ul style="list-style-type: none"> • तटीय मैदान प्राकृतिक बंदरगाहों से एवं डेल्टा प्रदेश कृषि की दृष्टि से विकसित है जानकारी कर सकेंगे। • जनजीवन मछली व्यवसाय के कारण संपन्न है, पढ़कर जान सकेंगे। • द्वीप समूहों की संख्या 321 है जहाँ पोर्टब्लेयर में सेल्यूलर जेल है, पढ़कर सामान्य ज्ञान बढ़ा सकेंगे। <p>7. थार का मरुस्थल –</p> <ul style="list-style-type: none"> • राजस्थान देश का सबसे बड़ा राज्य है, परंतु आबादी कम है क्योंकि वर्षा की कमी और मरुस्थलीय जलवायु प्रभाव डालती है, छात्र मानव जीवन पर जलवायु का प्रभाव समझ सकेंगे। • यहाँ के लोग मुख्यतः ऊँट, भेड़ बकरी का पालन करते हैं, छात्र पढ़कर जलवायु वनस्पति और मानव जीवन में संबंध स्थापित कर पायेंगे। <p>8. उत्तरी अमेरिका महाद्वीप –</p> <ul style="list-style-type: none"> • विश्व के मानचित्र में उ.अमेरिका की स्थिति को देखकर पहचान सकेंगे। • उत्तरी अमेरिका की धरातलीय संरचना और जलवायु के आधार पर वनस्पति की समझ सकेंगे। • छात्र भारत और अमेरिका का तुलनात्मक अध्ययन कर सोचन और समझने की क्षमता विकसित कर सकेंगे।

कक्षा – आठवीं
सामाजिक विज्ञान (नागरिक शास्त्र)

माह सितम्बर तक	माह दिसम्बर तक	माह मार्च तक
<p>1. हमारा संविधान –</p> <ul style="list-style-type: none"> संविधान की प्रस्तावना को पढ़कर एवं लिखकर अभिव्यक्त करने में सक्षम हो सकेंगे। उद्देश्य को समझने एवं संविधान सभा द्वारा लगभग 3 वर्षों में संविधान में निर्माण किया गया जो विश्व की सबसे विस्तृत लिखित संविधान है, जान सकेंगे। <p>2. मौलिक अधिकार एवं कर्तव्य –</p> <ul style="list-style-type: none"> पाठ में दिये गये मूल अधिकारों को जानने एवं समझने में सक्षम होंगे। छात्र विद्यालय स्तर पर अपने किन मौलिक अधिकारों का उपयोग कर सकते हैं, शिक्षक से जान सकेंगे। नगरिकों के मूल कर्तव्यों को जानकर उनका पालन करना छात्र जीवन से आवश्यक है, इसे अच्छे नागरिक के रूप में ग्रहण कर सकेंगे। <p>3. केन्द्र की सरकार –</p> <ul style="list-style-type: none"> सरकार के गठन की जानकारी एवं सरकार की व्यवस्था का संचालन छात्र कक्षा में करके व्यवहारिक ढंग से समझ सकेंगे। सरकार के तीनों अंग व्यवस्थापिका, कार्यपालिका और न्यायपालिका के कार्यों और शक्तियों को समझ सकेंगे। 	<p>4. कर Tax –</p> <ul style="list-style-type: none"> उत्पादन कर, विक्री कर, आयकर, आदि को दैनिक जीवन से जोड़कर समझ सकेंगे। ग्रामीण और शहरी क्षेत्र में कौन-कौन से कर लिये जाते हैं, छात्र पूछकर जान सकेंगे। <p>5. भारत में कृषि का विकास –</p> <ul style="list-style-type: none"> जमींदारी प्रथा के अंत से छोटे कृषकों और मजदूरों को फायदा हुआ, छात्र पढ़कर जान सकेंगे। हरित क्रांति कार्यक्रम से उत्पादन में वृद्धि, भंडारण की सुविधा, आय में वृद्धि, पर्यावरण पर प्रभाव, जल की समस्या, उर्वरता में कमी की समस्याएँ आई, छात्र विस्तृत अध्ययन करके समझ सकेंगे। वर्तमान कृषि उत्पादनों की गुणवत्ता के संबंध में छात्र आपस में चर्चा कर सकेंगे। <p>6. संयुक्त राष्ट्र संघ –</p> <ul style="list-style-type: none"> संघ के उद्देश्यों और सिद्धांतों के आधार पर छात्र संयुक्त राष्ट्र संघ के महत्व को समझ सकेंगे। छात्र जान सकेंगे कि पल्लस पोलियों अभियान संयुक्त राष्ट्र संघ के कार्यक्रमों का एक हिस्सा है। संयुक्त राष्ट्र संघ दिवस 24 अक्टूबर को मनाया जाता है, देश इसके सदस्य है, पढ़कर छात्र के सामान्य ज्ञान में वृद्धि कर सकेंगे। 	<p>7. भारत की विदेश नीति –</p> <ul style="list-style-type: none"> भारत की विदेश नीति की जानकारी पंचशील के सिद्धांतों का समझकर जान सकेंगे। वर्तमान में विश्व का प्रत्येक देश एक दूसरे के साथ विदेश नीति बनाकर ही संबंध स्थापित करते है, समझ सकेंगे। <p>8. सूचना का अधिकार –</p> <ul style="list-style-type: none"> पाठ में कहानी के माध्यम से छात्र समझ सकेंगे कि किसी संस्था या कार्यालय से कोई जानकारी कैसे ले सकता है ? (सूचना के अधिकार के अंतर्गत) सूचना का अधिकार लोगों को वांछित जानकारी एक माह के अंदर देता है, छात्र जानकर अधिकार का उपयोग कर सकेंगे।

कक्षा – आठवीं
सामाजिक विज्ञान (इतिहास)

माह सितम्बर तक	माह दिसम्बर तक	माह मार्च तक
<p>1. आधुनिक यूरोप का उदय –</p> <ul style="list-style-type: none"> • आधुनिक इतिहास को जानने हेतु इतिहास के स्रोतों की जानकारी छात्र पाठ के अध्ययन से कर सकेंगे। • इतिहास के प्राचीन काल, मध्यकाल और आधुनिक में अंतर कर समझ सकेंगे। • यूरोप में राष्ट्रीय राजतंत्रों का उदय आधुनिक इतिहास की महत्वपूर्ण विशेषता है, जान सकेंगे। • उपनिवेशवाद का आशय समझ सकेंगे। <p>2. भारत में ईस्ट इंडिया कंपनी की स्थापना –</p> <ul style="list-style-type: none"> • ब्रिटिश शासकों और भारत के शासकों का तुलनात्मक अध्ययन की क्षमता विकसित करेंगे। • ब्रिटिश शासकों के कार्यों को भारत के संदर्भ में समझने की कोशिश कर सकेंगे। • डलहौजी की हड़पनीति को पढ़कर समझ सकेंगे। बैटिक के समाज सुधार एवं शिक्षा सुधार की समझ सकेंगे। <p>3. अंग्रेजी शासन का भारतीय जनजीवन –</p> <ul style="list-style-type: none"> • ब्रिटिश शासकों द्वारा लागू किये गये कृषि नीति, बंदोबस्त प्रथा, लगान व्यवस्था को अध्ययन कर समझ सकेंगे। • ब्रिटिश शासन का भारतीय शिक्षा, दस्तकारी, शिल्पकला एवं वनवासियों के जीवन पर हुये प्रभाव को समझ सकेंगे। 	<p>4. भारत का प्रथम स्वतंत्रता संग्राम –</p> <ul style="list-style-type: none"> • ब्रिटिश नीतियों से असंतुष्ट होकर भारतीय कृषक कारीगर, जमींदार, पुराने नवाब प्रथम स्वतंत्रता संग्राम में शामिल हुये छात्र पढ़कर जानकारी प्राप्त कर सकेंगे। • अंग्रेजों के द्वारा किये गये धार्मिक और सामाजिक सुधारों के संबंध में छात्र अपने विचार देने में समर्थ होंगे। • प्रथम स्वतंत्रता संग्राम के भारतीय शहीदों के नाम जान सकेंगे। <p>5. भारतीय समाज में नये विचार –</p> <ul style="list-style-type: none"> • अंग्रेजी शिक्षा और भारतीय समाज के मध्य संबंध स्थापित करने में नये विचारों के योगदान को समझ सकेंगे। • सामाजिक कुरीतियों पर कानून पाबंदी लगायी गई. फिर भी आज प्रचलित है, क्यों ? छात्र मनन कर सकेंगे। • समाज सुधारकों द्वारा समाज में आये परिवर्तनों को छात्र समझ सकेंगे। <p>6. भारतीय राष्ट्रीय आंदोलन –</p> <ul style="list-style-type: none"> • अनेकता में एकता का तात्पर्य एवं महत्व को समझने में समर्थ होंगे। • किसी कार्य या नीति का विरोध किन-किन तरीकों से किया जा सकता है, छात्र पढ़कर जान सकेंगे। • देशी और विदेशी वस्तुओं की सूची तथा गरम एवं नरम दल के नेताओं की सूची छात्र बना सकेंगे। • क्रांतिकारी नेताओं के चित्र देखकर छात्र उन्हें नाम से पहचान कर जान सकेंगे। 	<p>7. भारतीय गणतंत्र की स्थापना –</p> <ul style="list-style-type: none"> • अंतरिम सरकार की स्थापना की आवश्यकता क्यों हुई कारण पढ़कर छात्र जान सकेंगे। • पाठ में दिये गये चित्र को देखकर अंतरिम सरकार के सदस्यों को छात्र देखकर पहचान सकेंगे। • स्वतंत्रता दिवस (15 अगस्त 1947) और संविधान लागू करने की तिथि 26 जनवरी 1950 को जानकर दिवस के महत्व को समझ सकेंगे। <p>8. छत्तीसगढ़ अध्ययन –</p> <ul style="list-style-type: none"> • राज्य के 18 गढ़ और रायपुर राज्य के 18 गढ़ मिलाकर छत्तीसगढ़ का निर्माण एवं नामकरण हुआ, छात्र जान सकेंगे। • पाठ के अध्ययन से छत्तीसगढ़ के प्रसिद्ध स्थलो, शहीदों, समाज सुधारकों एवं उनके कार्यों को जान सकेंगे।